

**Натисніть тут, щоб
купити книгу на сайті
або замовляйте за телефоном:
(0352) 51-97-97, (067) 350-18-70,
(066) 727-17-62**

Н.О. Будна, М.В. Беденко

МАТЕМАТИКА

РОБОЧИЙ ЗОШИТ

2 клас

Частина 2

*Схвалено для використання у загальноосвітніх навчальних закладах комісією
з педагогіки та методики початкового навчання
Науково-методичної ради з питань освіти
Міністерства освіти і науки України*



ТЕРНОПІЛЬ
НАВЧАЛЬНА КНИГА – БОГДАН

УДК 51:372.4
Б 90

*Схвалено для використання у загальноосвітніх навчальних закладах
комісією з педагогіки та методики початкового навчання
Науково-методичної ради з питань освіти Міністерства освіти і науки України
(лист ІМЗО від 05.07.2019 № 22.1/12-Г-583)*

Будна Н.О.

Б 90 Математика : робочий зошит : 2 кл. : у 2-х ч. / Ч. 2 /
Н.О. Будна, М.В. Беденко. — Тернопіль : Навчальна кни-
га — Богдан, 2019. — 64 с.

ISBN 978-966-10-5905-3

Пропонований зошит містить навчальний матеріал,
який відповідає Державному стандарту початкової освіти,
типовим освітнім програмам та підручнику «Математика.
2 клас» (авт. Будна Н.О., Беденко М.В.).

Зошит призначено для учнів 2-го класу.

УДК 51:372.4

*Охороняється законом про авторське право. Жодна частина цього видання
не може бути відтворена в будь-якому вигляді без дозволу видавництва.*

Навчальне видання

БУДНА Наталя Олександрівна
БЕДЕНКО Марко Васильович

МАТЕМАТИКА

Робочий зошит

2 клас

Частина 2


Головний редактор *Богдан Будний*
Редактор *Ірина Чорненька*
Обкладинка *Ростислава Крамара*
Комп'ютерна верстка *Галини Телев'як*
Технічний редактор *Неля Домарецька*


Підписано до друку 18.06.2019. Формат 70x100/16. Папір офсетний.
Гарнітура UkrainianPragmatica. Умовн. друк. арк. 5,20. Умовн. фарбо-відб. 10,40.

Видавництво «Навчальна книга – Богдан»

Свідоцтво про внесення суб'єкта видавничої справи до Державного реєстру
видавців, виготівників і розповсюджувачів видавничої продукції ДК №4221 від 07.12.2011 р.

Видавництво «Навчальна книга – Богдан» у соцмережах:

 bohdanbooks

 bohdan_books

 YouTube c/NKBohdan

 t.me/bohdanbooks

© Будна Н.О., Беденко М.В., 2019

© Навчальна книга – Богдан, виключна ліцензія
на видання, оригінал-макет, 2019

ISBN 978-966-10-5905-3

УВАГА!

Завантажуйте безкоштовний інтерактивний додаток,
використовуючи детальну інструкцію, за посиланням:

Технічна підтримка: (0352) 52-06-07, 067-352-09-89;
admin@bohdan-digital.com

МНОЖЕННЯ І ДІЛЕННЯ

(продовження)


До с. 80–81 (№ 531–538)




1. Зафарбуй кружечки і розділи їх рисою на дві рівні частини. Запиши вираз на ділення.



2. Обведи 12 клітинок і розділи їх рисою на дві рівні частини; на чотири рівні частини. Запиши вирази на ділення.



3. Дві білки розділили між собою порівну 10 шишок. Скільки шишок отримала кожна білка?



4. Намалюй на циферблаті маленьку стрілку так, щоб вона була спрямована у протилежний від великої стрілки бік. Запиши, котру годину буде показувати цей годинник.



год



1. Обчисли.


$12 : 2 + 6 = \square \square$

$14 : 2 - 5 = \square$

$10 : 2 + 8 = \square \square$

$18 : 2 - 7 = \square$

2. На 2 тарілки розклали порівну 14 тістечок. Скільки тістечок на кожній тарілці?

Відповідь: 

3. Порівняй (>, <, =).

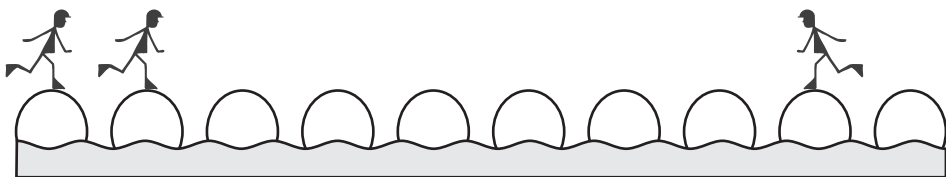
$2 \cdot 3 + 8 \square 2 \cdot 4 + 5$

$24 - 2 \cdot 7 \square 2 \cdot 8 - 6$


$2 \cdot 5 + 9 \square 2 \cdot 9 - 5$

$12 + 2 \cdot 6 \square 2 \cdot 9 + 16$

4. Двоє із трьох чоловічків можуть зробити однакову кількість кроків, щоб зірвати один гриб. Намалюй грибочок у потрібному місці і підкресли цих чоловічків.



5. Накресли ламану із трьох ланок, кожна з яких завдовжки 2 см. Знайди довжину ламаної.





1. З'єднай числа з їх назвами при діленні.

Частка

$$12 : 2 = 6$$

Ділене

Дільник

2. Скільки курчат мають 18 ніг?



Відповідь:

3. Знайди значення виразу $18 + a : 2$, якщо $a = 6, 12$.

4. Проведи в даній фігурі відрізок так, щоб утворилися квадрат і прямокутник. Знайди і порівняй периметри цих фігур.

