

**Натисніть тут, щоб
купити книгу на сайті
або замовляйте за телефоном:
(0352) 51-97-97, (067) 350-18-70,
(066) 727-17-62**



У тролейбусі було 48 пасажирів. На зупинці 26 пасажирів вийшло, а 15 — увійшло. Скільки пасажирів поїхало у тролейбусі далі?



«ПЛЮС»

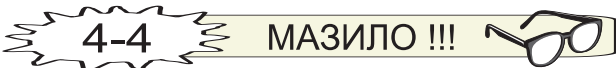
РЕЗУЛЬТАТ




Із дошки довжиною 2 м зробили 4 однакові полиці. Скільки таких полиць вийде з дошки довжиною 5 м?



«МІНУС»





На ставку плавало 45 качок. Опівдні 12 качок пішло додому, а решта залишились на ставку. На скільки більше качок залишилося, ніж пішло?



«ПЛЮС»

РЕЗУЛЬТАТ



ГОЛ !!!



МАЗИЛО !!!



Екскурсійний кораблик може взяти на борт 36 пасажирів, причому чверть від цієї кількості — на палубу, а решту — в каюти. Скільки пасажирів можуть їхати в каютах?



«МІНУС»



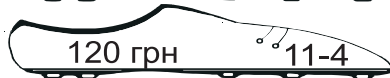
Корабель плыв річкою 10 годин зі швидкістю 40 км/год. Зворотний шлях він подолав зі швидкістю 50 км/год. Скільки годин корабель плыв у зворотному напрямку?



«ПЛЮС»

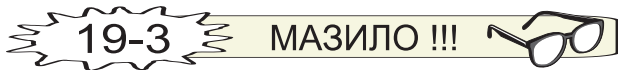


За годину роботи ювеліру платили 15 грн. Скільки гривень отримував ювелір за день, якщо він працював 8 годин?




РЕЗУЛЬТАТ

«МІНУС»



31-1



На пляжі було 357 дітей, а дорослих — третина від цієї кількості. Скільки всього осіб було на пляжі?

476 осіб ²¹⁻⁴486 осіб ²²⁻³

8-1

«ПЛЮС»

31-3

ГОЛ !!!



31-2



У бібліотеці за три дні читачі взяли 680 книжок, причому за перші два дні — 510 книжок, а за другий і третій — 390. Скільки книжок брали читачі кожного дня окремо?

290, 220, 170 книг ²³⁻⁴270, 240, 150 книг ²⁰⁻⁴

9-2

«МІНУС»

31-4

МАЗИЛО !!!

