

**Натисніть тут, щоб
купити книгу на сайті
або замовляйте за телефоном:
(0352) 51-97-97, (067) 350-18-70,
(066) 727-17-62**

Передмова

Текстові задачі — важливий розділ навчальної програми з математики в початковій школі. Уміння їх розв'язувати знадобиться дитині не лише на шкільних уроках, а й у повсякденному житті.



Згідно з навчальною програмою, першокласники ознайомлюються з кількома типами задач, кожен з яких характеризується певною структурою і ключовими словами.

У пропонованому посібнику типові задачі складено так, щоб ефективно підготувати учнів до розв'язування нестандартних (нетипових) задач.

Художник мав 2 пензлі та 3 олівці. Скільки всього пензлів та олівців було в художника?

1) Закресли «зайве» на малюнку.

2) Розв'яжи задачу.



--	--	--	--	--	--	--	--

Відповідь: _____

Мама купила в магазині 1 тістечко, а льодяників — на 2 більше. Скільки льодяників купила мама в магазині?

1) Підкресли ті зображення солодоців, які допоможуть розв'язати задачу.

2) Розв'яжи задачу.



--	--	--	--	--	--	--	--

Відповідь: _____

Наклейка із зображенням країн світу в магазині коштує 4 гривні, а наклейка із зображенням глобуса — на 2 гривні дорожче. Скільки гривень коштує наклейка із глобусом?

1) Намалюй стільки кіл, на скільки гривень наклейка з глобусом дорожча.

2) Розв'яжи задачу.



Відповідь:



На дні моря було 5 морських коників. Згодом кілька з них поплили, а на дні залишилися 2 морських коники. Скільки морських коників поплило?

1) Підкресли стільки морських коників, скільки їх залишилося на дні.

2) Розв'яжи задачу.




--	--	--	--	--	--	--	--

Відповідь: _____

Дорогою йшли кілька солдатів. Потім їх наздогнали ще 2 солдати, і солдатів стало 5. Скільки солдатів ішло по дорозі спочатку?

1) Підкресли стільки солдатів, на скільки їх стало більше.

2) Розв'яжи задачу.



--	--	--	--	--	--	--	--

Відповідь: _____