
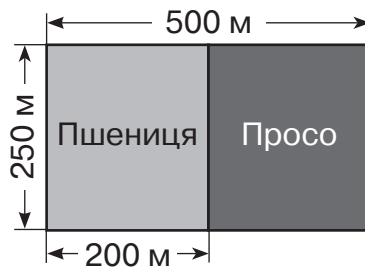
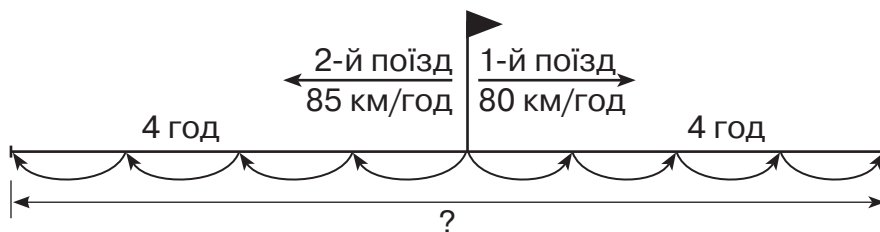


- 1 За поданим планом ділянки знайди площу, засіяну просом.




- 2 Склади і розв'яжи задачу за схемою.




1-й спосіб

2-й спосіб



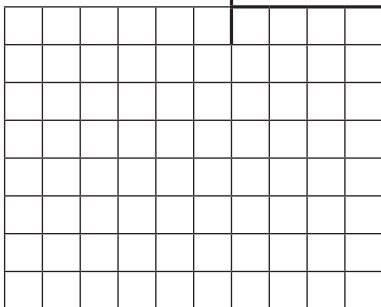
- 3 Висота будиночка 4 м 8 см. Обведи дерево заввишки 4 м 8 дм.






1

1 0 1 4 3 | 3




2 4 6 7 8 | 6



2

За поданим планом ділянки знайди площу, відведену для кожного виду городніх культур.



3

Висота будиночка втричі менша від висоти одного з дерев. Знайди і обведи це дерево.







1

6 6 4 5 6 | 8


3 3 6 5 8 4 | 4


2

Із двох міст назустріч один одному одночасно виїхали два автомобілі й зустрілися через 4 години. Швидкість першого автомобіля 70 км/год, а другого — 60 км/год. Знайди відстань між містами.

1-й спосіб

2-й спосіб


3

Крок Гулівера дорівнює 1 м, а крок ліліпута — 1 мм. Скільки повних кроків може зробити Гулівер дорогою завдовжки 123 456 ліліпутських кроків?

