



1. Обчисли.

$400 + 6 = \square\square\square$

$563 - 3 = \square\square\square$

$399 + 1 = \square\square\square$


$625 - 600 = \square\square\square$

$700 - 1 = \square\square\square$

$734 - 30 = \square\square\square$

2. Розв'яжи задачу.

Перший поїзд проїхав 500 км, а другий — на 1 км менше. Скільки кілометрів проїхав другий поїзд?



1. Обчисли.

$50 - 4 \cdot 6 = \square\square$

$35 + 3 \cdot 6 = \square\square$

$12 : (12 : 3) = \square$


$2 \cdot 6 + 4 \cdot 6 = \square\square$

$600 + 60 = \square\square\square$

$600 + 6 = \square\square\square$

2. Розв'яжи задачу.

Посадили 4 ряди каштанів, по 9 саджанців у кожному ряду, і 3 ряди кленів, по 6 саджанців у кожному ряду. Скільки всього саджанців посадили?





1. Обчисли.

$$102 \cdot 6 = \square \square \square$$

$$48 : 16 = \square$$

$$320 \cdot 2 = \square \square \square$$


$$516 : 12 = \square \square$$

$$90 : 18 = \square$$

$$315 : 21 = \square \square$$

2. Розв'яжи задачу.

46 кг смородини та 45 кг порічок розклали у кошики, по 7 кг у кожен. Скільки кошиків для цього знадобилося?




1. Обчисли.

$$2 \cdot 208 - 516 : 3 - 72 : 18 = \square \square \square$$



2. Склади та розв'яжи задачу за коротким записом.

3 ряди — по 9 к. }
5 рядів — по 6 к. } на ?




До с. 16–17



1. Обчисли.

$$850 - 4 \cdot 10 - 120 : 5 = \square \square \square$$


$$350 : 5 \cdot 8 - 360 : 6 = \square \square \square$$



2. Склади та розв'яжи задачу за коротким записом.

81 кг — 9 б.

? — 6 б.



До с. 18–19



1. Виконай ділення з остачею.

$$56 : 6 = \square \text{ (ост. } \square \text{)}$$

$$35 : 4 = \square \square \square \square$$

$$78 : 8 = \square \text{ (ост. } \square \text{)}$$

$$48 : 9 = \square \square \square \square$$

