

**Натисніть тут, щоб  
купити книгу на сайті  
або замовляйте за телефоном:  
(0352) 51-97-97, (067) 350-18-70,  
(066) 727-17-62**

# МАТЕМАТИКА


## ПОВТОРЕННЯ ВИВЧЕНОГО МАТЕРІАЛУ ЗА 3 КЛАС

### Робота 1

#### 1 варіант

1. Розв'яжи задачу.


Зібрали 622 кг винограду. У магазин відвезли 350 кг, а решту винограду поклали у ящики, по 8 кг у кожний. Скільки ящиків для цього знадобилося?



2. Обчисли.

$157 + 638 = \square\square\square$


$883 - 362 = \square\square\square$



3. Обчисли.

$217 \cdot 4 = \square\square\square$


$876 : 3 = \square\square\square$



4. Знайди значення виразів.

$$480 - 360 : 4 = \square\square\square$$


$$120 + 8 \cdot 2 = \square\square\square$$




5. Виконай дії з іменованими числами.

$$2 \text{ м} - 4 \text{ дм} = \square\square\square\square$$


$$1 \text{ м} : 5 \text{ дм} = \square$$



6. Знайди значення виразу  $(40 - b) : 5$ , якщо  $b = 0$ .




7. Довжина прямокутника 10 см, ширина — на 4 см менша.  
Знайди периметр прямокутника.



2 варіант

1. Розв'яжи задачу.


У теплиці виростили 560 троянд. 320 троянд відвезли на фестиваль, а з решти зробили букети, по 5 троянд у кожному. Скільки букетів вийшло?



2. Обчисли.

$547 + 353 = \square\square\square$


$647 - 208 = \square\square\square$



3. Обчисли.

$248 \cdot 4 = \square\square\square$


$615 : 3 = \square\square\square$



4. Знайди значення виразів.

$120 + 120 \cdot 4 = \square\square\square$


$720 - 320 : 8 = \square\square\square$




5. Виконай дії з іменованими числами.

$$2 \text{ м} - 1 \text{ см} = \square\square\square\square$$


$$1 \text{ м} : 2 \text{ дм} = \square$$



6. Знайди значення виразу  $8 : a + a \cdot 1$ , якщо  $a = 1$ .



7. Ширина прямокутника 4 см, а довжина — у 2 рази більша.  
Знайди периметр прямокутника.



## Робота 2

### 1 варіант

Вибери і познач правильну відповідь.

1.  $450 + 170 = \dots$

**A** 620

**Б** 520

**В** 570

2.  $693 : 3 = \dots$

**A** 230

**Б** 231

**В** 260

3. 3 м 15 см = ...

**A** 18 см

**Б** 45 см

**В** 315 см

4. З'єднай лініями вирази та їхні значення.

$\frac{1}{5}$  від 60 • • 15

$\frac{1}{10}$  від 20 • • 12

$\frac{1}{3}$  від 15 • • 2

5. Пронумеруй величини у порядку спадання.

18 см


1 м 8 дм

1 см 8 мм

6. Обчисли.


$500 - 160 : 4 = \square\square\square$

$120 + 9 \cdot 8 = \square\square\square$



7. Розв'яжи задачу.

У цистерні було 750 л молока. З неї відлили молоко в 7 бідонів, по 34 л у кожний. Скільки літрів молока залишилося в цистерні?

A large grid of graph paper consisting of 20 columns and 10 rows of small squares, intended for the student to write their solution to the problem.