





4. Розв'яжи рівняння.

$$38 + x = 83$$

$$52 - x = 18$$



5. Котру годину показує кожен годинник? Котру годину показуватимуть годинники через 20 хв?



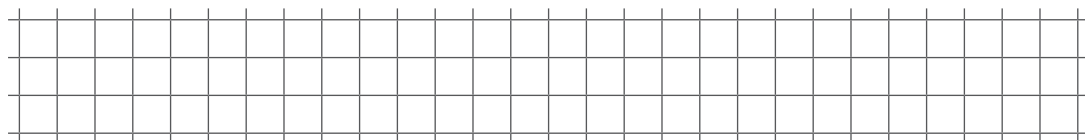
6. Порівняй.

$$3 \text{ см} \square 3 \text{ дм}$$


$$86 \text{ см} \square 68 \text{ см}$$

$$2 \text{ дм} \square 20 \text{ см}$$


$$1 \text{ ц} \square 1 \text{ кг}$$



7. Виміряй довжину кожної ланки ламаної. Обчисли загальну довжину ламаної.



8\*. У класі 15 дівчаток, їх на 7 більше, ніж хлопчиків. Скільки учнів у класі?



**Аналіз роботи**

