

Натисніть тут, щоб

**КУПИТИ КНИГУ НА САЙТІ**

або

**замовляйте по телефону:**

(0352) 28-74-89, 51-11-41

(067) 350-18-70

(066) 727-17-62

# Додавання і віднімання чисел в межах 10

1.  $1 + 2 = 3$  .



2.  $2 + 2 + 3 = 7$  .

$7 + 2 - 4 = 5$  .

$3 + 6 - 5 = 4$  .

$9 - 5 - 3 = 1$  .

$8 - 3 + 1 = 6$  .

$6 - 4 + 1 = 3$  .

3. Братові 9 років, а сестра на 2 роки молодша. Скільки років сестрі?


.

Відповідь: \_\_\_\_\_

4.



— 5 років



— 8 років



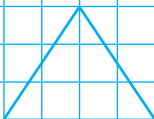
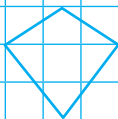


на скільки років старший?

.

Відповідь: \_\_\_\_\_

5. Зафарбуй трикутники зеленим кольором, а чотирикутники — жовтим.



# Додавання і віднімання чисел по 1 та частинами

1.  $2 + 3 = 2 + 3 = .$



2.  $3 + 1 + 1 = .$        $3 + 2 = .$

$4 - 1 - 1 = .$        $4 - 2 = .$

$6 + 1 + 1 = .$        $6 + 2 = .$

3. Порівняй ( $>$ ,  $<$ ,  $=$ ).

$2 + 6 \square 2 + 3 + 3$

$3 + 1 \square 3 + 3 + 2$

$10 - 3 \square 10 - 2 - 2$

$9 - 3 \square 9 - 1 - 1 - 1$

4. Різним рибкам потрібна різна кількість води для життя. Скільки рибок кожного виду можна поселити в акваріумі?



1 л



2 л



3 л



5 л

5. Накресли відрізок, довжина якого дорівнює сумі довжин даних відрізків.



# Переставна властивість додавання

1. 1 2 3 1 2 3 .



2. Виконай за зразком.

$$4 + 3 + 2 = 9 \quad 6 + 1 + 2 = .$$



$$3 + 4 + 2 = 9 \quad .$$

$$2 + 4 + 3 = 9 \quad .$$

3. У глечик можна влити 5 склянок молока, а в пляшку — 2 склянки. Скільки склянок молока потрібно взяти, щоб наповнити глечик і пляшку?

Відповідь:

4.



Відповідь:

Відповідь:

5.

Доданок	6	1	2	3	6	7	4	1	5
Доданок	3	4	5	2	1	2	4	8	4
Сума	.	.	.	.	.	.	.	.	.

1.  $3 + 4 = 3 + 4 = .$



2.  $3 + 2 + 1 = .$

$7 + 3 = .$

$9 - 5 = .$

$3 + 3 + 2 = .$

$2 + 8 = .$

$8 - 3 = .$

$5 + 1 + 4 = .$

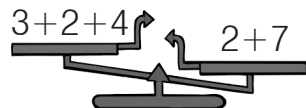
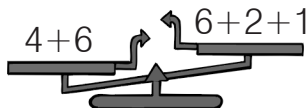
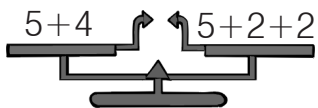
$1 + 9 = .$

$7 - 4 = .$

3. У шкільний коридор виходить 8 дверей. 5 із них відчинені. Скільки дверей зачинено?

Відповідь: \_\_\_\_\_

4. Підкресли терези, які показують правильно. \_\_\_\_\_




5. Домалюй потрібну фігуру.


# Десяток

1. 5 6 5 6 .



2. 1 2 . 4 . . 7 . . 10



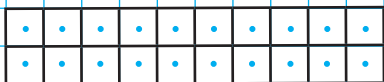
4. У білочки було 8 грибів. Їжачок подарував їй ще 2 гриби. Скільки грибів стало у білочки?

Відповідь: \_\_\_\_\_

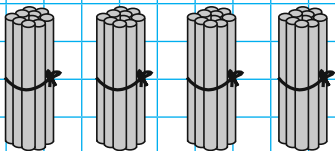
5. Виконай за зразком.



дес.



дес.



дес.

1. 7 8 7 8 .



2. Виконай за зразком.

Одинадцять — 1 дес. 1 од.

Вісімнадцять —  дес.  од.

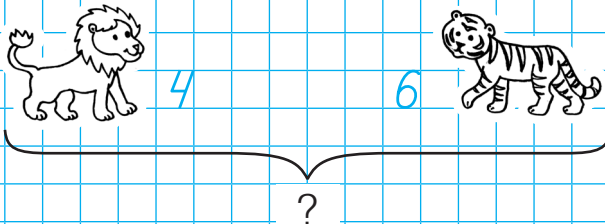
П'ятнадцять —  дес.  од.

Двадцять —  дес.  од.

3. Один цирковий силач підняв одночасно 10 гир, а другий — 8 гир. Який силач підняв більше гир? На скільки більше?

Відповідь:

4.



Відповідь: