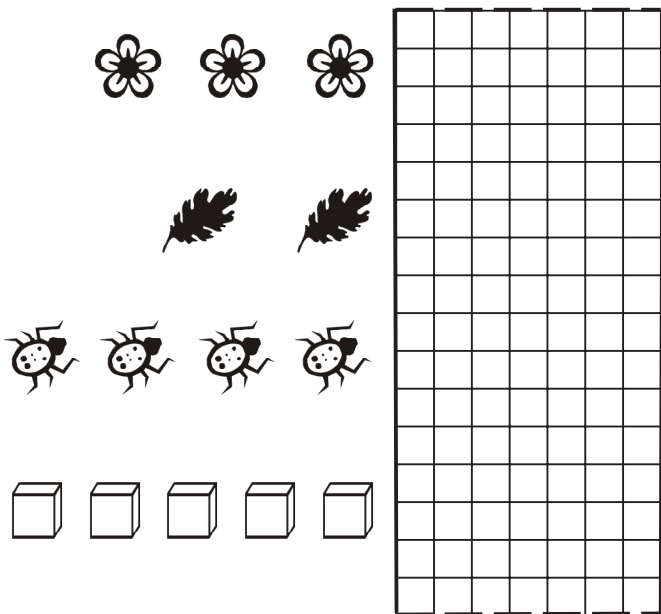


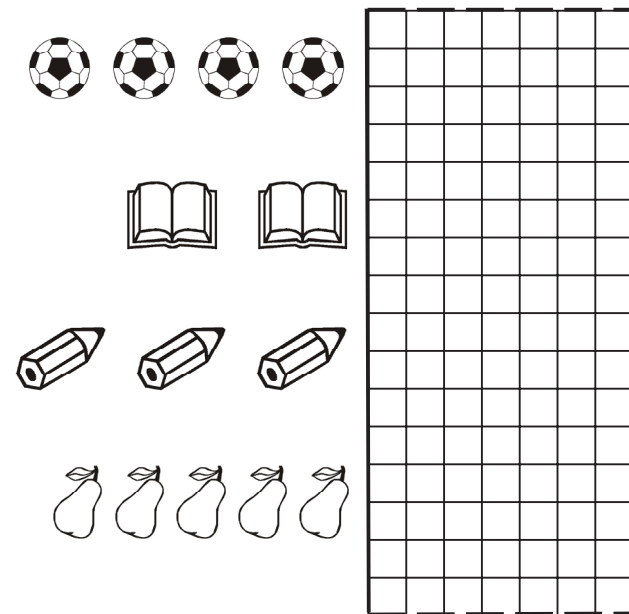
**Натисніть тут, щоб
купити книгу на сайті
або замовляйте за телефоном:
(0352) 51-97-97, (067) 350-18-70,
(066) 727-17-62**

Полічи. Запиши цифрою, скільки предметів у кожному рядку.



Counting exercise 1. A grid with 10 rows and 10 columns. The first row contains 3 flowers. The second row contains 2 leaves. The third row contains 4 beetles. The fourth row contains 5 cubes.

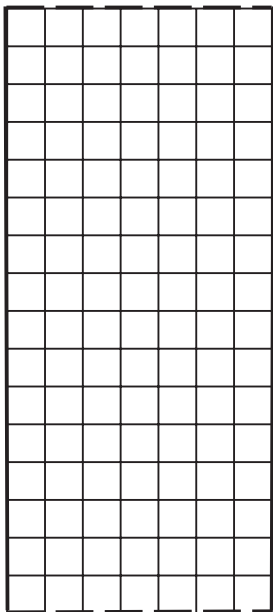
Полічи. Запиши цифрою, скільки предметів у кожному рядку.



Counting exercise 2. A grid with 10 rows and 10 columns. The first row contains 4 soccer balls. The second row contains 2 books. The third row contains 3 pencils. The fourth row contains 5 pears.

Напиши стільки паличок, скільки одиниць містить число.

5



8


2

6

4

Напиши стільки паличок, скільки одиниць містить число.

7



1

3

9

5

Із кожної пари чисел вибери
та запиши більше число.

3 і 2									
4 і 5									
10 і 9									
7 і 8									
6 і 7									

Із кожної пари чисел вибери
та запиши менше число.

2 і 1									
10 і 9									
3 і 4									
5 і 3									
6 і 5									