



**Натисніть тут, щоб
купити книгу на сайті
або замовляйте за телефоном:
(0352) 51-97-97, (067) 350-18-70,
(066) 727-17-62**



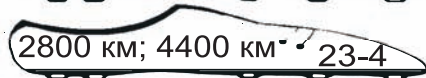
У 6 однакових пакетах 12 л гранатового соку. Скільки літрів гранатового соку у 9 таких пакетах?



«ПЛЮС»



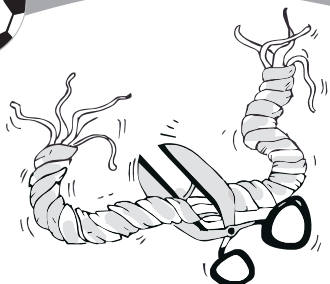
Протягом двох тижнів автомобіль проїхав 7200 км, причому першого тижня він був у дорозі 40 годин, а другого тижня — 80 годин. Скільки кілометрів автомобіль подолав кожного тижня окремо, якщо його швидкість весь час була однаковою?



РЕЗУЛЬТАТ

«МІНУС»





Мотузку завдовжки 270 м розрізали на 5 однакових кусків. Яка довжина кожного куска?



«ПЛЮС»

РЕЗУЛЬТАТ



ГОЛ !!!



МАЗИЛО !!!




Картина коштує 4860 гривень, а рама — $\frac{3}{10}$ від вартості картини. Скільки гривень коштує картина разом із рамою?



«МІНУС»



Два автомобілі, відстань між якими була 250 км, одночасно вирушили назустріч один одному. Швидкість одного автомобіля 90 км/год, а другого — 100 км/год. Яка відстань буде між автомобілями через 2 години? Чи будуть вони, як і раніше рухатися назустріч один одному?




«ПЛЮС»

РЕЗУЛЬТАТ



ГОЛ !!!



Довжина сторони рівностороннього трикутника 12 см. Знайди площу квадрата, периметр якого дорівнює периметру цього трикутника.

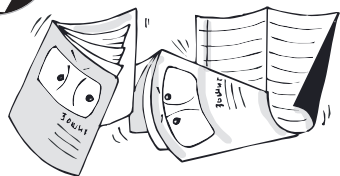


«МІНУС»



МАЗИЛО !!!





Для виготовлення 12 однакових зошитів витратили 144 аркуші паперу. Скільки аркушів паперу потрібно для виготовлення 5 таких зошитів?



«ПЛЮС»




ГОЛ !!!



РЕЗУЛЬТАТ



МАЗИЛО !!!



З одного пункту вийшов пішоход, а через 3 години вслід йому виїхав велосипедист. Швидкість пішохода 4 км/год, а швидкість велосипедиста 16 км/год. Через скільки годин велосипедист наздожене пішохода?



«МІНУС»