

Натисніть тут, щоб

КУПИТИ КНИГУ НА САЙТІ

або

замовляйте по телефону:

(0352) 28-74-89, 51-11-41

(067) 350-18-70

(066) 727-17-62

Н.П. Брудко,
О.Б. Сліпець, О.П. Фучила

Зошит
з математики
2 клас



ТЕРНОПІЛЬ
НАВЧАЛЬНА КНИГА – БОГДАН

УДК 51(075.2)
ББК 22.1я71
Б89

Рецензенти:
кандидат педагогічних наук, доцент
М.В. Козак
вчитель вищої категорії, старший вчитель
Н.Я. Походжай

*Рекомендовано до друку Науково-методичною радою
Тернопільського національного педагогічного університету
імені Володимира Гнатюка
(протокол № 7 від 13.03.2013 р.)*

Брудко Н.П.

Б89 Зошит з математики : 2 клас / Н.П. Брудко, О.Б. Слі-
пець, О.П. Фучила. — Тернопіль : Навчальна книга – Бог-
дан, 2013. — 64 с.

ISBN 978-966-10-3688-7

Зошит з математики для 2 класу містить матеріал,
який відповідає навчальній програмі МОНмолодьспор-
ту України, Державному стандарту початкової загаль-
ної освіти та доповнює підручник «Математика. 2 клас»
(авт. Ф.М. Рівкінд, Л.В. Оляницька).

Для учнів 2-го класу.

УДК 51(075.2)
ББК 22.1я71

*Охороняється законом про авторське право.
Жодна частина цього видання не може бути відтворена
в будь-якому вигляді без дозволу автора чи видавництва.*



1. Обчисли вирази. Намалюй  біля значень, більших за 10.

$14 - 4 + 2 = \square\square$

$16 + 1 - 7 = \square\square$

$7 + 3 + 10 = \square\square$

$9 + 1 + 5 = \square\square$

$8 + 2 + 8 = \square\square$


$4 + 6 - 3 = \square\square$

$20 - 1 - 10 = \square\square$

$13 - 3 - 3 = \square\square$

2. Розв'яжи задачу.

В Остапа було 18 зошитів. 5 зошитів він віддав братові.
Скільки зошитів залишилося в Остапа?



Склади задачі за малюнками та розв'яжи їх.

1)

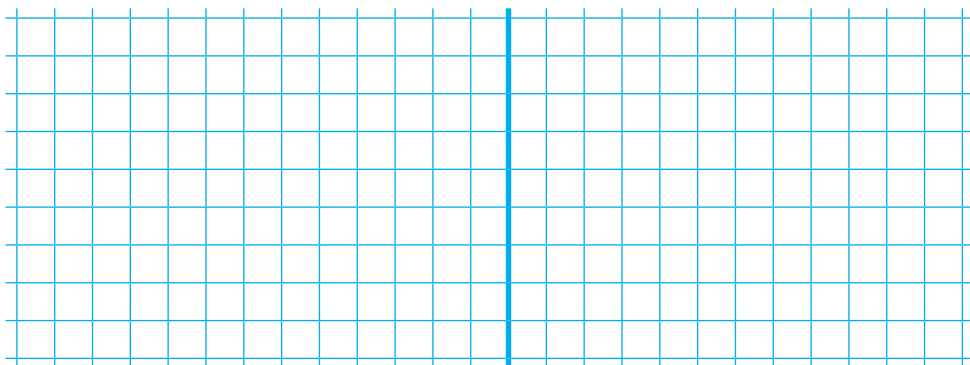


?, на 4 л більше

2)




?, на 3 л менше





1. На аеродромі було 6 вертольотів, а літаків — на 4 більше. Скільки літаків було на аеродромі? Скільки було вертольотів та літаків разом?



2. Розклади числа на розрядні доданки.

$$83 = \square\square + \square$$

$$52 = \square\square + \square$$

$$64 = \square\square + \square$$

$$44 = \square\square + \square$$



1. Запиши цифрами числа: сім $\square\square$, сімнадцять $\square\square$, сімдесят $\square\square$, сімдесят сім $\square\square$, сто $\square\square$, п'ятнадцять $\square\square$, сімдесят один $\square\square$, сімдесят п'ять $\square\square$.

2. Для оздоблення віночків купили 20 м червоної стрічки, 6 м блакитної і по 1 м жовтої та зеленої. Скільки всього метрів стрічки купили?

Розв'язання: $\square\square + \square + \square + \square = \square\square$ (м)

Відповідь: $\square\square$ м стрічки.

3. Порівняй ($>$, $<$, $=$).

$$65 \square 5 + 60$$

$$28 \square 80 + 2$$

$$41 - 1 \square 40$$

$$53 \square 60 + 3$$


$$79 \square 9 + 20$$

$$33 - 2 \square 13$$




1. Склади задачу за коротким записом і розв'яжи її.

1-ша полиця — 19 книг
2-га полиця — 28 книг
3-тя полиця — ?, на 24 менше, ніж



2. Накресли два відрізки: перший завдовжки 1 дм 2 см, а другий — на 7 см коротший.



1. Заміни додавання множенням.

$$6 + 6 + 6 + 6 = \square \square \square \square$$

$$8 + 8 + 8 + 8 + 8 + 8 + 8 = \square \square \square \square \square$$


$$7 + 7 + 7 + 7 + 7 + 7 + 7 + 7 = \square \square \square \square \square \square$$

2. Склади і розв'яжи задачу за коротким записом.

Було — ?



Продали — 16 м і 9 м

Залишилося — 40 м






1. Склади і розв'яжи задачу за малюнком. Розв'язання запиши спочатку додаванням, а потім множенням.



2. Чебурашка, крокодил Гена і Шапокляк чекали прибуття поїзда 3 години. Скільки годин чекав на поїзд кожен із них?



1. Обчисли.

$78 + 11 = \square\square$

$14 + 53 = \square\square$

$44 - 9 + 3 = \square\square$

$59 - 31 = \square\square$

$7 + 17 = \square\square$


$44 - (9 + 3) = \square\square$

$40 - 12 = \square\square$

$18 + 8 = \square\square$


$70 - 10 - 7 = \square\square$

2. Розв'яжи задачу спочатку додаванням, а потім множенням. Книжка коштує 18 гривень. Скільки треба заплатити за 4 такі книжки?





1. В їдальню привезли 14 кг черешень і 2 ящики персиків, по 11 кг у кожному. Скільки всього кілограмів фруктів привезли в їдальню?



2. Порівняй вирази.

$45 - 6 \square 28 + 4$


$88 + 8 \square 100 - 5$

$71 - 2 \square 77 - 8$

$63 + 7 \square 96 - 16$



1. У вагоні потяга їхало 35 пасажирів. На станції 5 пасажирів вийшло з вагона, а 4 увійшло. Скільки пасажирів стало у вагоні?



2. Обчисли.

$58 + 34 = \square \square$

$49 + 43 = \square \square$

$56 + 26 = \square \square$

$37 + 55 = \square \square$

$48 + 42 = \square \square$

$27 + 67 = \square \square$

3. Впиши пропущені числа.

$60 \text{ см} = \square \text{ дм}$

$48 \text{ см} = \square \text{ дм } \square \text{ см}$

$80 \text{ см} = \square \text{ дм}$

$5 \text{ дм } 4 \text{ см} = \square \square \text{ см}$



1. Знайди значення виразів.

$$67 - 19 + 28 = \square\square$$


$$24 : 4 + 29 = \square\square$$

$$17 + 45 - 27 = \square\square$$

$$(66 - 46) : 5 = \square\square$$

$$19 + 6 - (40 - 16) = \square\square$$

$$70 - (13 - 8) - 36 = \square\square$$



2. Порівняй вирази (>, <, =).

$$50 + 20 \square 50 + 10$$

$$10 + 30 \square 30 + 10$$

$$70 - 20 \square 60 - 10$$

$$64 - 30 \square 37 - 17$$

$$24 + 15 \square 32 + 16$$

$$46 + 22 \square 19 + 33$$

$$37 - 17 \square 40 - 15$$

$$89 - 82 \square 74 - 28$$

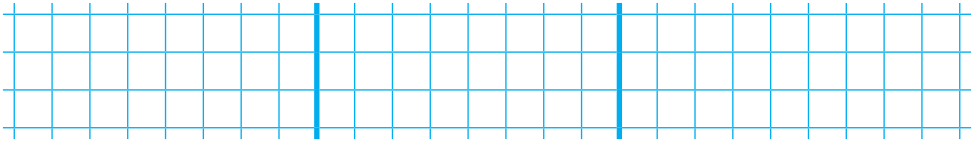


1. Розв'яжи рівняння.


$$x : 8 = 5$$

$$x \cdot 4 = 28$$


$$x : 7 = 7$$



2. З ділянки зібрали 4 кошики моркви, по 8 кг у кожному кошику, і 8 кошиків буряків, по 6 кг у кожному. Скільки кілограмів овочів зібрали з ділянки?



Для додаткових завдань





“КНИГА ПОШТОЮ” А/С 529
м. Тернопіль, 46008
т. (0352) 287489, 511141
(067) 3501870, (066) 7271762
mail@bohdan-books.com

Навчальне видання

БРУДКО Наталія Петрівна
СЛІПЕЦЬ Ольга Богданівна
ФУЧИЛА Олександра Петрівна

Зошит з математики **2 клас**

Головний редактор *Богдан Будний*
Редактор *Любов Левчук*
Технічний редактор *Оксана Чучук*
Обкладинка *Аліни Воронкової*
Комп'ютерна верстка *Надії Магаляс*

Підписано до друку 28.08.2013. Формат 70x100/16. Папір офсетний.
Гарнітура Прагматика. Умовн. друк. арк. 5,20. Умовн. фарбо – відб. 10,40.

Видавництво «Навчальна книга – Богдан»
Свідоцтво про внесення суб'єкта видавничої справи до Державного реєстру видавців,
виготівників і розповсюджувачів видавничої продукції
ДК №4221 від 07.12.2011 р.

Навчальна книга – Богдан, просп. С. Бандери, 34а, м. Тернопіль, 46002
Навчальна книга – Богдан, а/с 529, м. Тернопіль, 46008
тел./факс (0352) 52-06-07, 52-05-48, 52-19-66
office@bohdan-books.com
www.bohdan-books.com

ISBN 978-966-10-3688-7



9 789661 036887