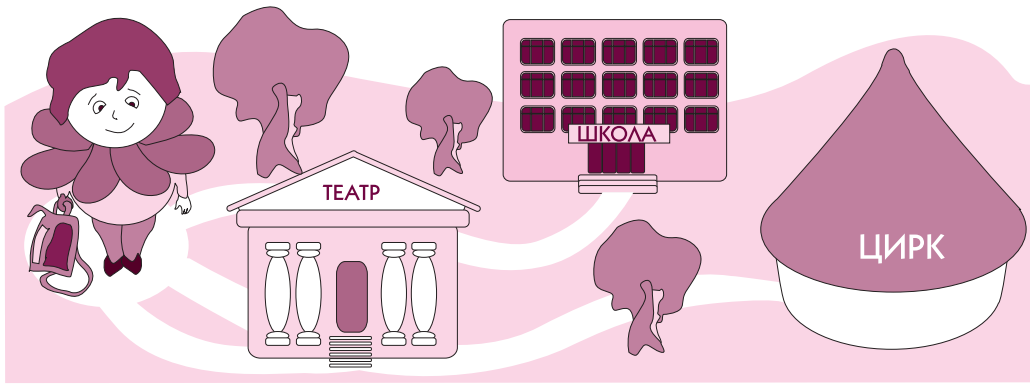
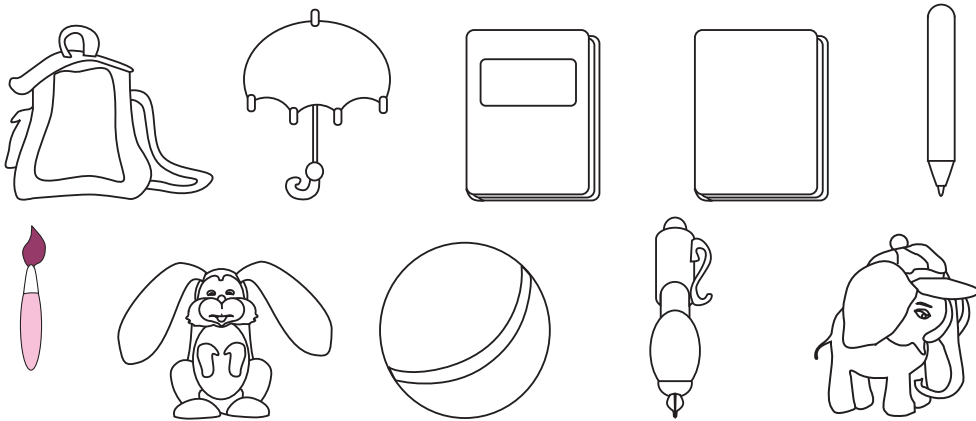


1. Допоможи Барвінкові знайти дорогу до школи. Зафарбуй дорогу до школи синім кольором.




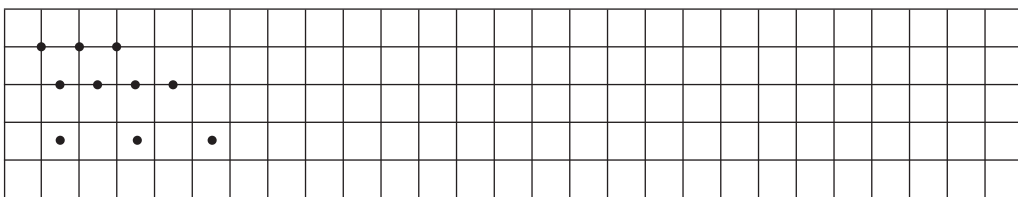
2. Розмалуй предмети, які потрібно взяти до школи.




3. Назви зображені фігури.




4.



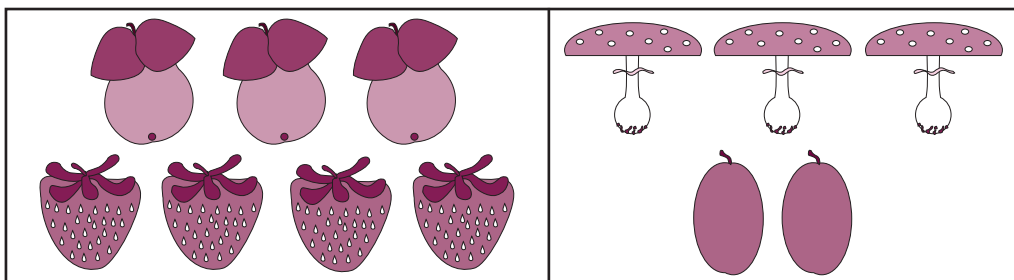
1. Чого менше? Домалюй, щоб стало порівну.



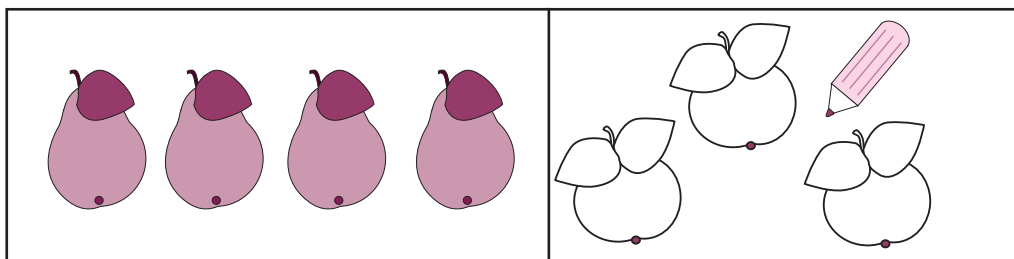
2. Чого більше? Закресли, щоб стало порівну.




3. Чого більше? На скільки більше?



4. Зміни малюнок так, щоб яблук стало більше, ніж груш.



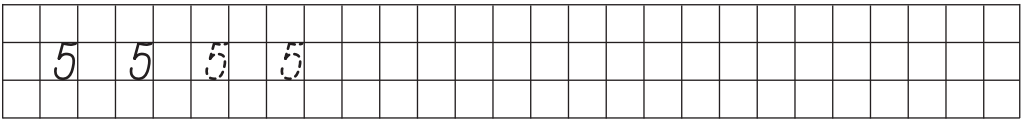
5.



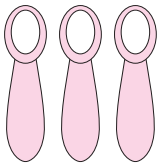
1. Яких предметів по п'ять? Розфарбуй їх.



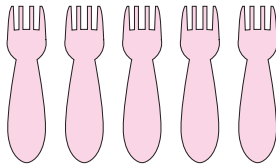
2.




3. Полічи предмети. Обведи відповідне число за зразком.




2 ③ 4



3 4 5

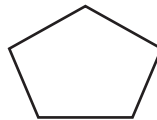
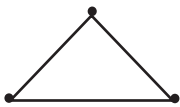


1 2 3


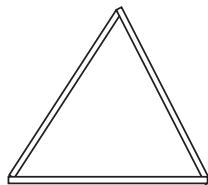


2 3 4

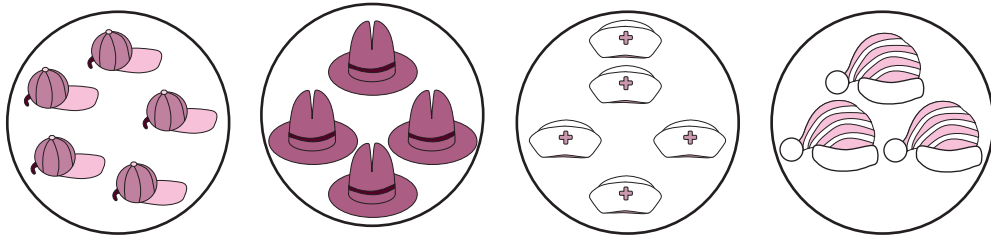
4. Познач вершини за зразком. Заштрихуй п'ятикутник.



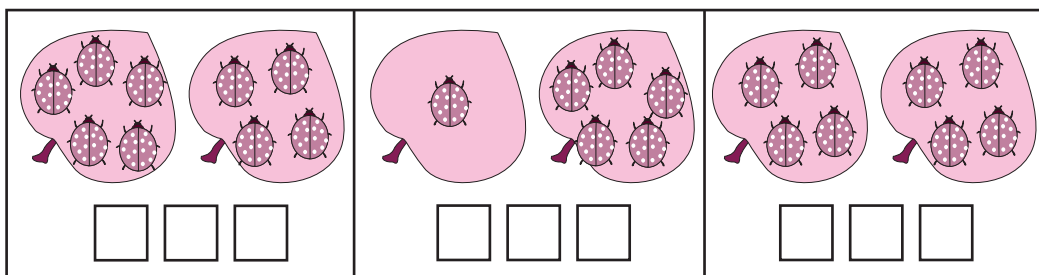
5.* Допоможи Барвінкові із п'яти паличок скласти два трикутники.



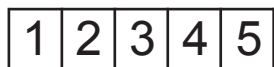
1. Зафарбуй круги, кількість предметів у яких менша від 5.



2. Порівняй кількість сонечок на листках кожного малюнка.



3.



4. Постав потрібні знаки.



$5 \square 5$

$4 \square 2$

$2 \square 1$

$3 \square 4$


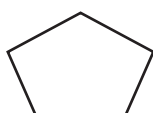
$4 \square 3$

$2 \square 3$

$1 \square 3$

$4 \square 4$

5. Зафарбуй п'ятикутник.



В 2

Обчисли і розфарбуй.

$5 - 0$

$1 + 1$

$3 + 0$

$4 + 1$

$1 + 3$

$0 + 2$

$3 + 2$

$2 + 2$

$0 + 5$

$1 + 4$

$3 + 1$

$2 + 1$



$4 - 0$

2 — червоний

3 — синій

4 — зелений

5 — жовтий



Перевір себе

ТЕСТ 1

В 1

1. Підкресли пропущені числа.

0 1 4 5 7 (2,4,3,7,6)

2. Підкресли «сусідів» кожного числа.

8 6 4
(6,7,5,9) (2,5,4,7) (3,6,5,2)

3. Постав потрібний знак (<, >, =).

3 4 6 5 10 10 7 5

4. Вибери правильну відповідь (2,6,5,8,9,4,1).

$3 + 1 =$ $2 + 0 =$ $7 - 1 =$ $0 + 5 =$

В 2

1. Підкресли пропущені числа.

0 1 2 5 6 9 10 (2,4,3,7,8)

2. Підкресли «сусідів» кожного числа.

7 5 3
(5,6,9,8) (3,4,7,6) (1,2,5,4)

3. Постав потрібний знак (<, >, =).

2 3 9 9 6 5 7 6

4. Вибери правильну відповідь (2,6,5,8,9,4,1).

$7 = 5 +$ $9 = 3 +$ $6 = 2 +$

