

Натисніть тут, щоб

КУПИТИ КНИГУ НА САЙТІ

або

замовляйте по телефону:

(0352) 28-74-89, 51-11-41

(067) 350-18-70

(066) 727-17-62

Додавання і віднімання чисел в межах 10

1. $1 + 2 + 1 + 2 = .$



2. $2 + 2 + 3 = .$

$7 + 2 - 4 = .$

$3 + 6 - 5 = .$

$9 - 5 - 3 = .$

$8 - 3 + 1 = .$

$6 - 4 + 1 = .$

3. Братові 9 років, а сестра на 2 роки молодша. Скільки років сестрі?

Відповідь: _____

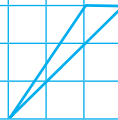
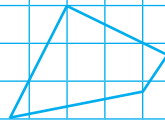
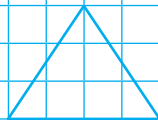
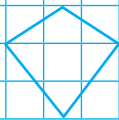
4.  — 5 років

 — 8 років

на скільки років старший?

Відповідь: _____

5. Зафарбуй трикутники зеленим кольором, а чотирикутники — жовтим.



Додавання і віднімання чисел по 1 та частинами

1. $2 + 3 = 2 + 3 = .$



2. $3 + 1 + 1 = .$ $3 + 2 = .$

$4 - 1 - 1 = .$ $4 - 2 = .$

$6 + 1 + 1 = .$ $6 + 2 = .$

3. Порівняй ($>$, $<$, $=$).

$2 + 6 \square 2 + 3 + 3$

$3 + 1 \square 3 + 3 + 2$

$10 - 3 \square 10 - 2 - 2$

$9 - 3 \square 9 - 1 - 1 - 1$

4. Різним рибкам потрібна різна кількість води для життя. Скільки рибок кожного виду можна поселити в акваріумі?



1 л



2 л



3 л



5 л

5. Накресли відрізок, довжина якого дорівнює сумі довжин даних відрізків.



Переставна властивість додавання

1. 1 2 3 1 2 3 .



2. Виконай за зразком.

$4 + 3 + 2 = 9$

$6 + 1 + 2 = .$

$3 + 4 + 2 = 9$

.



$2 + 4 + 3 = 9$

.

3. У глечик можна влити 5 склянок молока, а в пляшку — 2 склянки. Скільки склянок молока потрібно взяти, щоб наповнити глечик і пляшку?

Відповідь:

4.



Відповідь:

Відповідь:

5.

Доданок	6	1	2	3	6	7	4	1	5
Доданок	3	4	5	2	1	2	4	8	4
Сума

Додавання і віднімання чисел в межах 10

1. 3 4 3 4 .



2. $3 + 2 + 1 = .$

$7 + 3 = .$

$9 - 5 = .$

$3 + 3 + 2 = .$

$2 + 8 = .$

$8 - 3 = .$

$5 + 1 + 4 = .$

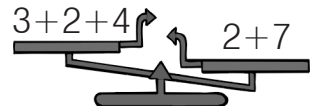
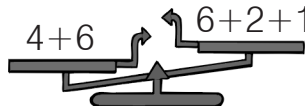
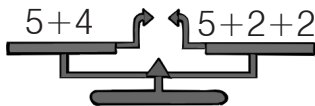
$1 + 9 = .$

$7 - 4 = .$

3. У шкільний коридор виходить 8 дверей. 5 із них відчинені. Скільки дверей зачинено?

Відповідь: _____

4. Підкресли терези, які показують правильно. _____



5. Домалюй потрібну фігуру.

Десяток

1. 5 6 5 6 .



2. 1 2 . 4 . . 7 . . 10

3.

10	9	8	.	6	5
	1	.	3	.	.


4. У білочки було 8 грибів. Їжачок подарував їй ще 2 гриби. Скільки грибів стало у білочки?

Відповідь:

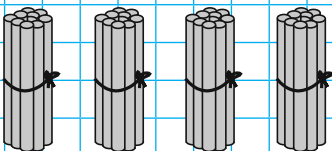
5. Виконай за зразком.



дес.



дес.



дес.