

Натисніть тут, щоб

КУПИТИ КНИГУ НА САЙТІ

або

замовляйте по телефону:

(0352) 28-74-89, 51-11-41

(067) 350-18-70

(066) 727-17-62

Г.П. Яріш

МАТЕМАТИКА

1 ПЕРШИЙ ВАРІАНТ

ЗОШИТ

для самостійних робіт

уч _____ 1 _____ класу



ТЕРНОПІЛЬ
НАВЧАЛЬНА КНИГА – БОГДАН

САМОСТІЙНА РОБОТА № 1

1. Порівняй.



$$2 \square 1$$



$$3 \square 1$$



$$2 \square 2$$



$$1 \square 3$$

2. Встав пропущені числа.

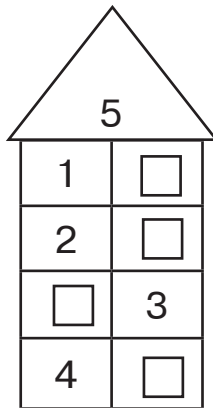
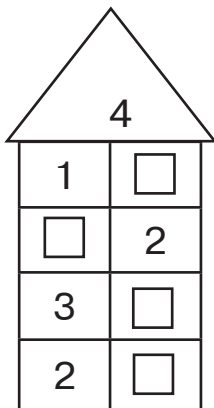
$$\square + 1 = 3$$

$$\square + 2 = 4$$

$$4 - \square = 1$$

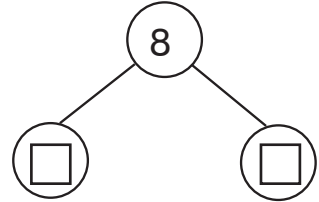
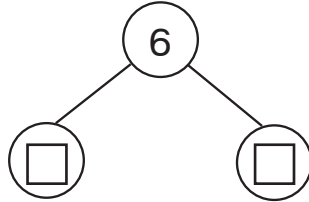
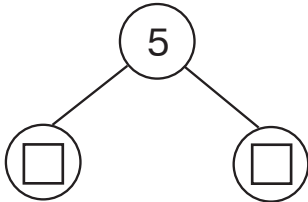
$$\square - 1 = 2$$

3. «Засели» числові будиночки.



САМОСТІЙНА РОБОТА № 2

1. Запиши «сусідів» даних чисел.



2. Обчисли.

$1 + 1 = \square$

$5 - 2 = \square$

$2 + 1 = \square$

$4 - 1 = \square$

$2 + 2 = \square$

$5 - 3 = \square$

$1 + 2 + 2 = \square$

$5 - 2 - 1 = \square$

3. Постав знаки «+» або «-».

$1 \square 4 = 5$

$2 \square 2 = 4$

$1 \square 1 \square 1 = 3$

$5 \square 2 \square 1 = 2$

Г.П. Яріш

МАТЕМАТИКА

2 ДРУГИЙ ВАРІАНТ

ЗОШИТ

для самостійних робіт

уч _____ 1 _____ класу



ТЕРНОПІЛЬ
НАВЧАЛЬНА КНИГА – БОГДАН

САМОСТІЙНА РОБОТА № 1

1. Порівняй.



$1 \square 3$



$3 \square 3$



$2 \square 1$



$2 \square 3$

2. Встав пропущені числа.

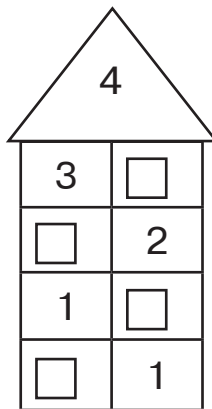
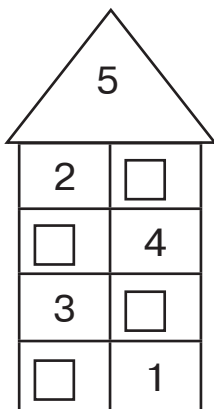
$1 + \square = 4$

$\square + 2 = 3$

$\square - 1 = 3$

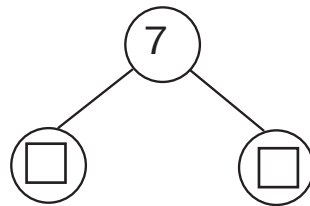
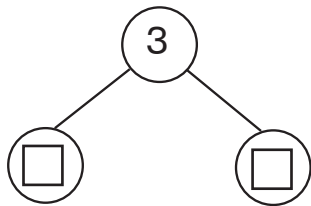
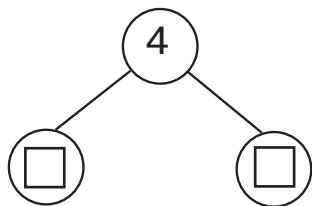
$4 - \square = 2$

3. «Засели» числові будиночки.



САМОСТІЙНА РОБОТА № 2

1. Запиши «сусідів» даних чисел.



2. Обчисли.

$2 + 2 = \square$

$3 - 1 = \square$

$1 + 4 = \square$

$5 - 3 = \square$

$4 - 2 = \square$

$3 + 1 = \square$

$5 - 1 - 1 = \square$

$2 + 1 + 1 = \square$

3. Постав знаки «+» або «-».

$4 \square 1 = 3$

$2 \square 1 = 3$

$2 \square 2 \square 1 = 5$

$5 \square 1 = 4$

САМОСТІЙНА РОБОТА № 23

1. Розв'яжи задачу.

На одній полиці 43 книги, а на другій — на 11 менше.
Скільки книг на другій полиці?

* Скільки книг на двох полицях разом?

Відповідь:

2. Заповни таблицю.

ЧИСЛО	45	67	87	26	12	59	75	36
ДОДАТИ	23	32	11	53	76	10	25	51
ВІДНЯТИ	23	51	13	24	12	36	50	24

3. Накресли два відрізки: один завдовжки 12 см, а другий — на 2 см коротший.