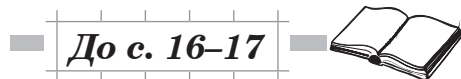

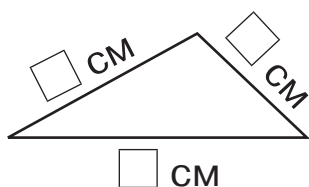


3. Виміряй довжини сторін даного трикутника. Знайди його периметр.




1. Знайди значення виразу.

$$42 - (56 : 7 : 4) + 12 = \square \square$$



2. Розв'яжи задачу.

24 кг картоплі розклали в однакові сітки, по 4 кг в кожну. Три таких сітки продали. Скільки сіток картоплі залишилося?



3. Різниця довжин двох відрізків дорівнює 9 см. Накресли менший із відрізків, якщо довжина більшого відрізка становить 11 см.

