

**Натисніть тут, щоб
купити книгу на сайті
або замовляйте за телефоном:
(0352) 51-97-97, (067) 350-18-70,
(066) 727-17-62**

Н.О. Будна

КАНІКУЛИ БЕЗ НУДЬГИ

Я ІДУ В 2-Й КЛАС!

- Спостерігаю, дізнаюсь
- Читаю
- Пишу грамотно
- Розв'язую
- Веду щоденник
- Розважаюсь
- Малюю, майструю, вишиваю
- Фотографую



Тернопіль
Навчальна книга – Богдан

ББК 74.26 я71
Б 90

Будна Н.О.
Б 90 Каникули без нудьги. Я їду в 2-й клас! —
Тернопіль : Навчальна книга — Богдан, 2019. — 64 с.: іл.
ISBN 978-966-10-5812-4

Посібник призначений для учнів, які закінчили перший клас.

Запропоновані завдання з української мови, літературного читання, математики, предмета “Я досліджую світ” розподілено за місяцями та тижнями.

Працюючи з посібником, майбутній другокласник має змогу протягом літніх канікул не лише повторити і закріпити вивчений матеріал, але й на основі цікавих пізнавальних текстів, нестандартних творчих завдань розвинути увагу, пам'ять, мислення, розширити кругозір, цікаво провести своє дозвілля.

Посібник містить щоденник здоров'я, читацький щоденник, зразок режиму дня, сторінки для малюнків та літнього фоторепортажу, кольорову вставку із зразками виробів (закладок, кошика, човника, черепашки), а також самоклеїтку з умовними знаками для ведення календарика погоди.

Робота з посібником сприятиме підготовці учнів до успішного навчання у другому класі.

ББК 74.26 я71

*Охороняється законом про авторське право.
Жодна частина цього видання не може бути відтворена
в будь-якому вигляді без дозволу автора чи видавництва.*

Умовні позначення



— заповни календарик погоди



— підкресли, розмалюй, познач



— напиши



— дай відповідь на запитання, поміркуй



— з'єднай



— прочитай



— завдання з навантаженням



1. Яка погода переважала цього тижня?

Скористайся такими умовними позначеннями:



– сонячно



– хмарно



– похмуро



– дощ


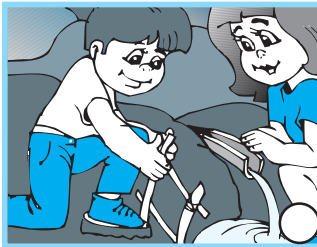


2. Вибери один предмет — дерево, кущ чи квітку. Протягом літа спостерігай за ним і записуй зміни, які відбуваються з цією рослиною.

Дата квітування _____



3. Які правила поведінки в природі ти знаєш?
Хто з дітей поводить себе правильно?



4. Продовж речення.

Природу треба любити і

Дата _____

Читаю

1-й тиждень



1. Прочитай виразно вірші.

Справжнє диво

У погожу літню днину
зайчик вибіг із хатини
та й завмер: під пісню пташки
зацвіли навкруг ромашки!
Зайчик вигукнув щасливо:
— Тепле літо — справжнє диво!

Марія Пономаренко

Що подарує літо?

— Літо, що мені готуєш?
Що на спомин подаруєш?
— Подарую, — каже літо, —
сонячне тепло і квіти,
в небі — райдугу-дугу
і ромашки на лузі.

Володимир Орлов



2. Дай відповідь на запитання.

Про яку пору року розповідається у віршах?



Запиши назви літніх місяців.

Blank handwriting lines for writing the names of summer months.



3. Де і як ти відпочиваєш влітку? Напиши.

Що плануєш робити?

Що чекаєш від літа?

Чого хочеш навчитися? Про що дізнатися? і т.п.

Blank handwriting lines for writing answers to the questions.



1. Спиши каліграфічно.

А О м Н а у К і І н М о н Г г

мак сік кава вінок наука

Дмитрик і Семенко носили від ставка воду.

Діти поливали молоді дерева та квіти.

Handwriting practice lines consisting of five sets of horizontal lines with a dashed midline and a slanted line on the left side.



2. Друге речення зобрази схематично.

Handwriting practice lines consisting of five sets of horizontal lines with a dashed midline and a slanted line on the left side.



3. Впізнай предмет за його ознаками.

Сірий, вухатий, боягузливий —

Високе, голубе, чисте, хмарне —

Нова, цікава, бібліотечна —

Handwriting practice lines consisting of three sets of horizontal lines with a dashed midline and a slanted line on the left side.

? 1. Задача.

На галявині зранку почервоніло 4 сунички, а в обід — ще 3 сунички. Скільки всього суничок почервоніло за день?

$$\square \square \square \square \square (\dots)$$



Відповідь: \square _____

? 2. Заповни «віконця».

$10 - 2 - 5 = \square$

$9 + \square = 10$

$5 + 3 \square 8$

$6 - 3 + 3 = \square$

$8 - \square = 2$

$10 - 2 \square 7$

$7 + 2 - 3 = \square$



$3 + \square = 6$

$10 - 8 \square 10$

? 3. Цікаве завдання.

Олегові 4 роки, Андрій — на 3 роки молодший, а Надійка ходить у перший клас.

Хто з дітей наймолодший? Найстарший?

**✎ 4. Накресли відрізок завдовжки 5 см.**



1. Яка погода переважала цього тижня?

Blank box for drawing weather.



2. Замалюй (або наклеї у зошит) листочки рослини, за якою ти спостерігаєш.

Blank box for drawing or pasting leaves.



3. Які свята відзначають у червні?


Handwriting practice lines for listing holidays.



4. Розгадай кросворд «Ягоди».




4



1



3



2