



Наклади кальку на сторінку і «помісти» в кружечок кожен із зображених будиночків. Скільки кружечків на кальці? Скільки будиночків? Чого більше: кружечків чи будиночків? А, може, будиночків стільки ж, скільки і кружечків?




Намалюй квадратик довкола кожної ялинки. Полічи спочатку квадратики, а потім — ялиночки. Чи однаковий результат у тебе вийшов?



Намалюй стільки трикутників, скільки коників-стрибунців на малюнку.




Чого на малюнку більше: курчат чи овалів? Намалюй хрестик **X** біля кожного курчатка і кружечок **O** біля кожного овала.




Чого на малюнку більше: наметів чи прапорців? Якщо більше наметів, підкресли намети. Якщо більше прапорців, підкресли кожен прапорець.



Домалюй стільки паличок, щоб їх стало більше, ніж соняхів.



Намалюй будиночок для кожного кошеняти. І ще один — для їхніх гостей. На скільки більше будиночків, ніж кошенят?



Намалюй перлини у кожній мушлі, крім однієї. Чого тепер більше: перлин чи мушель?



Домалюй палички біля сніговиків, щоб їх було на одну більше, ніж сніговиків.



Намалюй стільки паличок, скільки слоненят, і ще дві.

