

Натисніть тут, щоб

КУПИТИ КНИГУ НА САЙТІ

або


замовляйте по телефону:

(0352) 28-74-89, 51-11-41

(067) 350-18-70

(066) 727-17-62

Н.М. Бенцал



Зошит з математики

уч_____ класу

_____ ШКОЛИ

*Схвалено для використання у загальноосвітніх навчальних закладах комісією
з педагогіки та методики початкового навчання
Науково-методичної ради з питань освіти Міністерства освіти і науки України*



ТЕРНОПІЛЬ
НАВЧАЛЬНА КНИГА – БОГДАН

УДК 51:372.4
ББК 22.1я71
Б 46

Рецензенти:
вчитель початкових класів, вчитель-методист
Н.О. Будна
вчитель початкових класів, старший вчитель
Н.Я. Походжай

*Схвалено для використання у загальноосвітніх навчальних закладах комісією
з педагогіки та методики початкового навчання
Науково-методичної ради з питань освіти
Міністерства освіти і науки України
(лист ІТЗО № 14.1/12-Г-1258 від 18.07.2014 р.)*

Бенцал Н.М.

Б 46 Зошит з математики : 1 кл. : в 2 ч. Ч.1. : до підр.
Ф.М. Рівкінд, Л.В. Оляницька / Н.М. Бенцал. — Тернопіль :
Навчальна книга – Богдан, 2017. — 64 с.

ISBN 978-966-10-4870-5

Зошит з математики для 1 класу відповідає оновленій навчальній програмі МОН України та підручнику “Математика. 1 клас” (автори Ф.М. Рівкінд, Л.В. Оляницька).

Матеріал до кожного уроку подано на одній сторінці.

Посібник містить вправи для вироблення навичок каліграфічного письма, різні за складністю завдання творчого характеру, завдання для самостійної роботи під рубрикою “Перевір свої знання”.

Зошит призначено для учнів 1 класу.

УДК 51:372.4
ББК 22.1я71

УВАГА!


Завантажуйте безкоштовний інтерактивний додаток,
використовуючи детальну інструкцію, за посиланням:

Технічна підтримка: (0352) 52-91-05, 067-352-09-89;
admin@bohdan-digital.com


*Охороняється законом про авторське право.
Жодна частина цього видання не може бути відтворена
в будь-якому вигляді без дозволу автора чи видавництва.*

**Ближче, далі, зліва, справа,
вгорі, внизу, між, за, у, на, під**

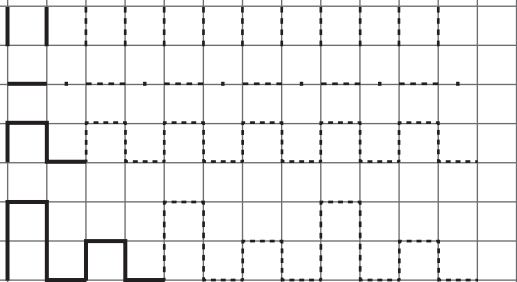
1. Де знаходяться тварини? Розфарбуй тих, які під парканом.




2. Хто заховався за парканом? Скільки тваринок?



3.



4.

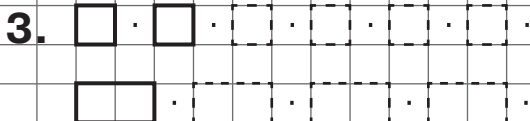


Лічба предметів. Підготовчі вправи до написання цифр

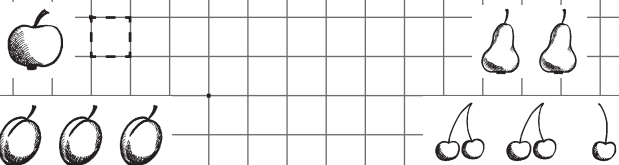
1. Полічи квіти та дерева. Зафарбуй стільки ж клітинок.



2. Розфарбуй квадрати.



4. Полічи фрукти. Намалюй стільки ж квадратів.



5.


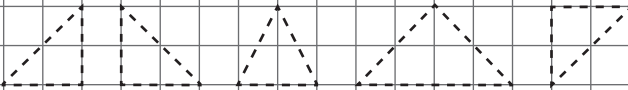



Групи об'єктів

1. Обведи овочі. Розфарбуй їх.



2. Зафарбуй стільки клітинок, скільки об'єктів у групі.



3. A dashed zigzag line consisting of five peaks and six valleys, intended for tracing.

4. Two rockets. The first is a solid line drawing of a rocket with three windows. The second is a dashed line drawing of the same rocket, intended for tracing.

Число 0


1. Назви і обведи зайвий об'єкт.



Скільки об'єктів у групі?

0 1 2 3 4 5 6 7 8 9 10


2. Скільки рибок у кожному акваріумі?



0 1 2 3 4 5

3. 0 0 0 0 0 0 0
0 0 0 0

4.



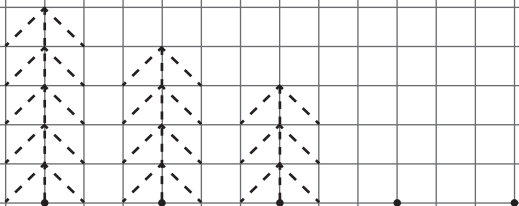
Порядкова лічба

1. Скільки гномів?

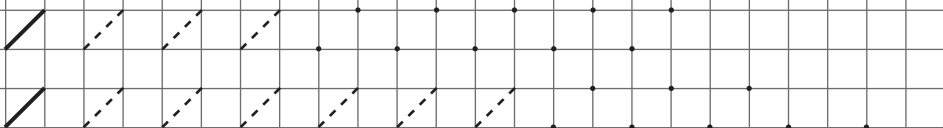


Розфарбуй першого, четвертого і останнього гномів.

2.



3.



4. Домалюй у кожній групі один об'єкт.

