

ПОВТОРЕННЯ ВИВЧЕНОГО В 3 КЛАСІ. ПИСЬМОВЕ МНОЖЕННЯ І ДІЛЕННЯ

До с. 3–5



1. Обчисли.

$50 - 4 \cdot 6 = \square \square$

$35 + 3 \cdot 6 = \square \square$

$12 : (12 : 3) = \square$


$2 \cdot 6 + 4 \cdot 6 = \square \square$

$600 + 60 = \square \square \square$

$600 + 6 = \square \square \square$

2. Розв'яжи задачу.

Посадили 4 ряди каштанів, по 9 саджанців у кожному ряду, і ще декілька рядів кленів — усього 6 саджанців. У скільки разів більше посадили каштанів, ніж кленів.



До с. 6–7



1. Обчисли.

$700 + 200 = \square \square \square$

$425 - 400 = \square \square$

$700 + 20 = \square \square \square$


$425 - 25 = \square \square \square$

$700 + 2 = \square \square \square$

$525 - 5 = \square \square \square$

2. Розв'яжи задачу.

18 кг смородини та 45 кг порічок розклали у кошики, по 7 кг у кожен. Скільки кошиків для цього знадобилося?




До с. 7-9



1. Розв'яжи рівняння.

$$x + 280 = 650 \quad x - 365 = 189 \quad 952 - x = 413$$

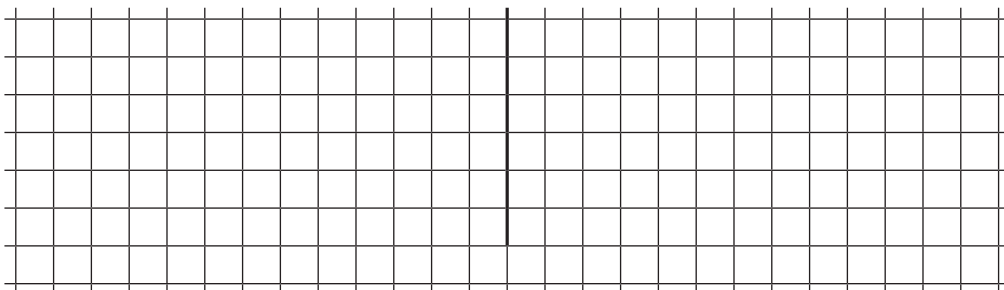


2. Розв'яжи задачу двома способами.

Перша вантажівка перевозила 3 т піску, а друга — 9 т. Кожна машина зробила по 5 рейсів. Скільки всього тонн піску перевезли ці машини?

1 спосіб

2 спосіб





1. Обчисли.

$568 + 333 = \square\square\square$


$480 - 360 : 4 = \square\square\square$

$647 - 208 = \square\square\square$

$950 + (750 - 700) = \square\square\square\square$

2. Розв'яжи задачу.

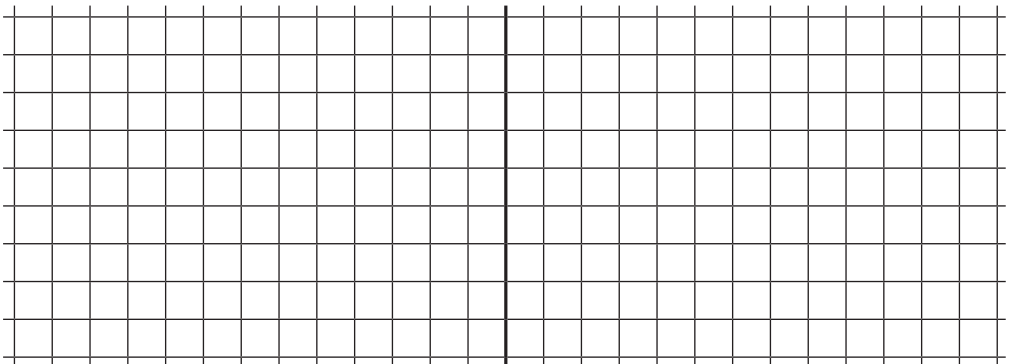
Для робітників агрофірми збудували 3 будинки, по 6 квартир у кожному, і 4 будинки, по 8 квартир у кожному. Скільки всього квартир збудували для робітників агрофірми?



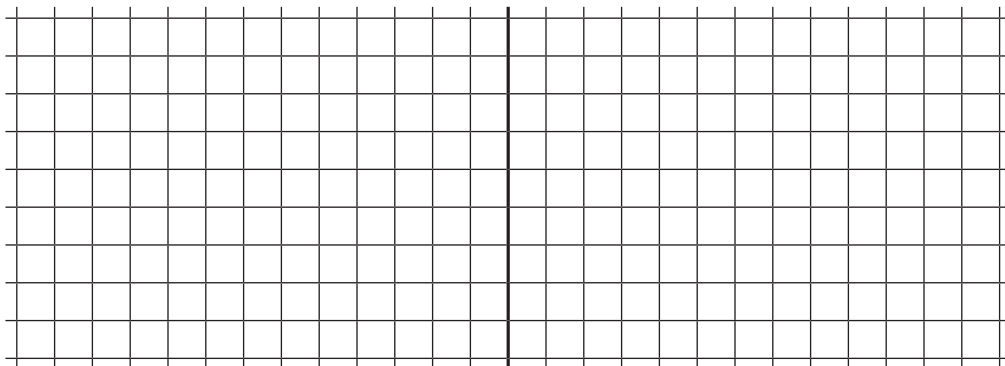
1. Склади та розв'яжи взаємно обернені задачі за поданими короткими записами.

1) 3 ряди — по 9 к. }
5 рядів — по 6 к. } ?

2) 3 ряди — по 9 к. }
5 рядів — ? } 57 к.



$$\left. \begin{array}{l} 3) \text{ 3 ряди — по ?} \\ 5 \text{ рядів — по 6 к.} \end{array} \right\} 57 \text{ к.} \quad \left. \begin{array}{l} 4) \text{ ? — по 9 к.} \\ 5 \text{ рядів — по 6 к.} \end{array} \right\} 57 \text{ к.}$$



2. Обчисли.

$200 \cdot 2 + 300 = \square \square \square$

$736 - 20 \cdot 6 = \square \square \square$


$100 \cdot 7 - 384 = \square \square \square$

$421 - 45 : 9 = \square \square \square$

До с. 13–15




1. Знайди значення виразу $800 - a \cdot 10$, якщо $a = 3$.




2. Розв'яжи задачу.

На склад привезли 620 ц цукру. Протягом 5 днів у магазини відвантажували по 9 ц цукру щодня. Скільки центнерів цукру залишилося на складі?






1. Знайди $\frac{1}{6}$ чисел 18, 54, 48, 360.



2. Розв'яжи задачу.

На птахофабриці було 420 птахів. Гуси становили $\frac{1}{6}$ усіх пернатих, а решту — качки. Скільки качок було на птахофабриці?



1. Виконай ділення з остачею.

$$56 : 6 = \square \text{ (ост. } \square \text{)}$$

$$35 : 4 = \square \square \square \square \square \square$$

$$78 : 8 = \square \text{ (ост. } \square \text{)}$$

$$48 : 9 = \square \square \square \square$$

2. Розв'яжи задачу.

46 цукерок розклали в пакети, по 7 штук у кожен. Скільки пакетів для цього знадобилося? Скільки цукерок залишилося?

