




2. У майстерні в 4 коробки склали по 6 глечиків у кожну і ще залишилося 38 глечиків. Скільки глечиків було в майстерні?




## Усне додавання і віднімання чисел у межах 1000

До с. 7–9 (№ 27–37)



1.  $100 + 1 = \square\square\square$      $121 - 1 = \square\square\square$      $200 + 40 = \square\square\square$   
 $101 + 1 = \square\square\square$      $120 - 1 = \square\square\square$      $300 + 56 = \square\square\square$   
 $109 + 1 = \square\square\square$      $140 - 1 = \square\square\square$      $400 + 5 = \square\square\square$   
 $110 + 1 = \square\square\square$      $139 - 1 = \square\square\square$      $185 + 1 = \square\square\square$

2. До новорічних свят тато придбав кілька коробок ялинкових іграшок, по 9 штук у кожній. Коли він повісив на ялинку 36 іграшок, то залишилося повісити ще 36. Скільки коробок ялинкових іграшок купив тато?






1. 1 грн =  коп.    1 грн 40 коп. =  коп.  
 7 грн =  коп.    6 грн 20 коп. =  коп.

2. На озері плавало 6 лебедів, а качок — у 7 разів більше. Скільки всього птахів плавало на озері?

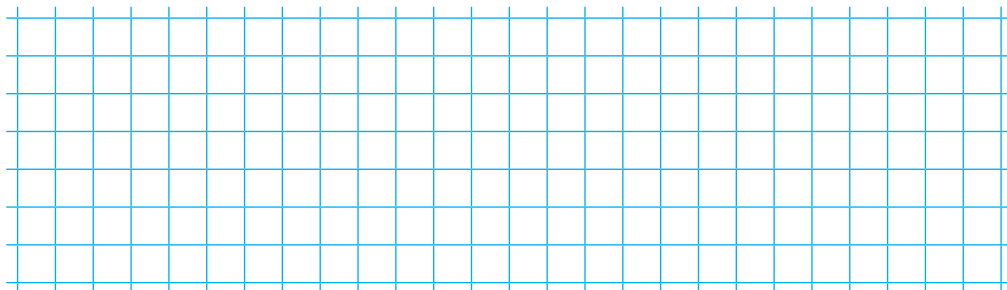
*Зміни числові дані у задачі і розв'яжи її.*



1.  $700 + 70 + 7 =$         $800 + 1 =$    
 $700 + 70 =$         $800 - 1 =$    
 $700 + 7 =$         $800 + 80 =$

2. Довжина одного відріза тканини 16 м, а довжина другого становить четверту частину довжини першого. Яка довжина другого відріза тканини?

*Зміни запитання так, щоб задача розв'язувалася двома діями. Розв'яжи задачу.*




До с. 11-12 (№ 60-70)



1.  $300 + 400 = \square\square\square$        $900 - 500 = \square\square\square$   
 $400 + 100 = \square\square\square$        $500 + 300 = \square\square\square$   
 $800 - 300 = \square\square\square$        $700 - 100 = \square\square\square$

2. У гаражі було 32 машини. Коли декілька машин виїхало в рейс, у гаражі залишилося 24 машини. Скільки машин виїхало в рейс?



До с. 13-14 (№ 71-80)



1.  $400 + 4 = \square\square\square$        $700 + 1 = \square\square\square$   
 $400 + 40 = \square\square\square$        $700 - 1 = \square\square\square$   
 $400 + 400 = \square\square\square$        $700 - 100 = \square\square\square$   
 $300 + 700 = \square\square\square\square$        $500 + 500 = \square\square\square\square$

2. Довжина городу 24 м, а ширина становить третю частину довжини. Знайди периметр городу.

