

**Натисніть тут, щоб
купити книгу на сайті
або замовляйте за телефоном:
(0352) 51-97-97, (067) 350-18-70,
(066) 727-17-62**

«ГОЛ»

Гра для однієї та більше осіб

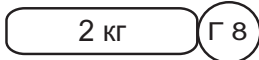
Гра тренує пам'ять, логічне мислення та дає змогу перевірити знання з математики.

Мета гри

Правильно розв'язавши задачу, або обчисливши вираз, або підібравши відповідь до запитання, ти знаходиш футбольний м'яч і забиваєш гол. Два м'ячі — два голи. Хто заб'є найбільше голів, той — переможець.

Порядок гри

«Забивають» голи на ігрових пронумерованих сторінках від 3 до 31. На кожній ігровій сторінці є три завдання (задача, числовий вираз чи запитання): по одному в літерах Г, О і Л. Біля кожного завдання подано три варіанти відповіді, а біля них кружечки з буквами і цифрами (вони означають сторінки та букви відповідно на цих сторінках). Одна відповідь правильна, дві інші — ні. Обравши правильний, на думку гравця, варіант відповіді, він розгортає зазначену біля нього сторінку і дивиться саме на ту літеру (Г, О, Л), відповідь біля якої він обрав. Якщо на зазначеній сторінці в цій літері є футбольний м'яч, то відповідь — правильна. Якщо ж м'яча немає, то відповідь — неправильна.



Маса кавуна 8 кг. За обідом з'їли 1/4 частину кавуна.

Скільки кілограмів кавуна з'їли?



Наприклад, у даній задачі бачимо три варіанти відповіді. Розв'язавши задачу, вирішуємо обрати варіант 2 кг. Дивимосся поруч із 2 кг у кружечку подано Г 8. Тоді розгортаємо книжечку на сторінці 8 і шукаємо у літері «Г» футбольний м'яч. Якщо всередині літери є футбольний м'яч, то відповідь — правильна. В нашому випадку м'яч є, отож, відповідь — правильна. Якби ми обрали варіанти 3 кг або 4 кг, то на 22-й та 11-й сторінках у літерах «Г» ми не знайшли б футбольних м'ячів, адже це — неправильні відповіді.

Правила гри

Якщо вас двоє і більше, встановіть черговість виконання ходів, час, який надається гравцеві на вибір відповіді (до одної хвилини), та кількість голів, які необхідно забити, щоб перемогти.

Гра починається так: перший гравець розгортає книжку на будь-якій ігровій сторінці, читає завдання, виконує його і намагається підібрати до нього правильну відповідь. Зробивши свій вибір, гравець називає вголос літеру та число біля обраного варіанта відповіді, написані всередині круга (на приклад, «Г-вісім»), а тоді розгортає книжечку на сторінці з названим числом (у нашому випадку на сторінці 8).

У названій букві (у нашому випадку це — «Г») він або отримує футбольний м'яч (якщо відповідь правильна), або не отримує (якщо помиляється). Перший гравець передає розгорнуту книжку другому гравцеві, і той продовжує гру: читає завдання в тій букві, де завершив гру перший гравець (у нашому випадку — у літері «Г»). До запитання він також намагається підібрати правильну відповідь. Знайшовши м'яч чи помилившись, він передає розгорнуту книжку далі. Перемагає у гри той, хто назбирав найбільше футбольних м'ячів за визначений час, або той, хто швидше заб'є встановлену кількість голів.

Хай щастить!



Довжина стрибка кенгуру 12 м.
Скільки метрів подолає кенгуру за три таких стрибки?

Г12

24 м

32 м

Г27

36 м

О19



2 кг

Г 8

Маса кавуна 8 кг. За обідом з'їли $\frac{1}{4}$ частину кавуна. Скільки кілограмів кавуна з'їли?

Г22

3 кг

4 кг

Г11



Г30

1 грн 43 к.
3 грн 65 к.

Знайди суму:
 $1 \text{ грн } 43 \text{ к.} + 2 \text{ грн } 32 \text{ к.}$

3 грн 75 к.

О29

3 грн 85 к.

Л13





30 км

О19

Кінь біжить зі швидкістю 15 км/год, а поїзд рухається у 6 разів швидше. Скільки кілометрів подолає поїзд за півгодини?

Л31

40 км

О4

45 км



100 м/хв

Л26

Відстань між двома пунктами 400 м. Хлопчик пробіг цю відстань туди і назад за 4 хв. З якою швидкістю біг хлопчик?

О7

50 м/хв

200 м/хв

Г9



5 кг 100 г

Л7

Знайди різницю:


8 кг 100 г - 3 кг 600 г.

4 кг 500 г

4 кг 300 г

Г25

Г28



4 год

Г 6


Автомобіль проїхав 210 км, рухаючись зі швидкістю 70 км/год. Скільки годин був у дорозі автомобіль?

3 год

Г 29

7 год

Г 11



1 т 20 кг

О 8

Маса корови 500 кг, а теляти — 40 кг.
Яка маса двох таких корів і трьох таких телят?

О 4

1 т 120 кг

1 т 200 кг

О 28



1 м 25 см

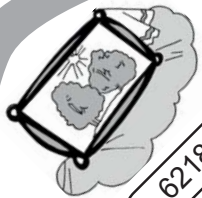
Г 8

Знайди різницю:
2 м 5 см - 8 дм.

1 м 15 см

1 м 30 см

Л 11



6218 грн

Г20

Картина коштує 4860 гривень, а рама —
3/10 від вартості картини. Скільки
гривень коштує картина разом із рамою?

Г10 6328 грн

6318 грн

Г7



17 століть

О17

Скільки століть існує Київ,
який засновано приблизно в 430 році?

О24

16 століть

15 століть

О9



О24

9 діб

Скільки діб мінає від
Дня незалежності України до Дня знань?

7 діб

О21

8 діб

Г17

