

Натисніть тут щоб

КУПИТИ КНИГУ НА САЙТІ

або


замовляйте по телефону:

(0352) 28-74-89, 51-11-41

(067) 350-18-70

(066) 727-17-62

Н.М. Бенцал



Зошит з математики

уч _____ класу

_____ ШКОЛИ



ТЕРНОПІЛЬ
НАВЧАЛЬНА КНИГА - БОГДАН

УДК 51:372.4

ББК 22.1я71

Б 46

Рецензенти:

вчитель початкових класів, вчитель-методист

Н.О. Будна

вчитель початкових класів, старший вчитель

Н.Я. Походжай

*Рекомендовано до друку вченою радою
Тернопільського національного педагогічного університету
імені Володимира Гнатюка
(протокол від 29.05.2012 р. №10)*

Бенцал Н.М.

Б 46 Зошит з математики. 1 клас. Ч. 1. / Н.М. Бенцал. —
Тернопіль : Навчальна книга — Богдан, 2012. — 64 с.

ISBN 978-966-10-3053-3

Зошит з математики для 1 класу відповідає навчальній програмі МОНмолодьспорту України та підручнику “Математика. 1 клас” (автори Ф.М. Рівкінд, Л.В. Оляницька).

Матеріал до кожного уроку подано на одній сторінці.

Посібник містить вправи для вироблення навичок каліграфічного письма, різні за складністю завдання творчого характеру, завдання для самостійної роботи під рубрикою “Перевір свої знання”.

Зошит призначено для учнів 1 класу.

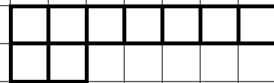
УДК 51:372.4

ББК 22.1я71

*Охороняється законом про авторське право.
Жодна частина цього видання не може бути відтворена
в будь-якому вигляді без дозволу автора чи видавництва.*



1. 9 9 .

7 8 9 .



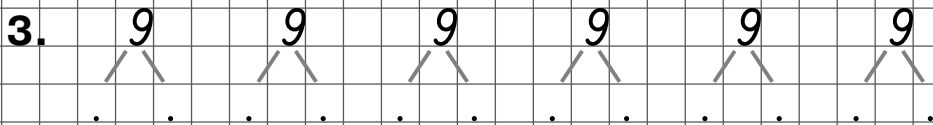
9 = . + .

9 = . + .

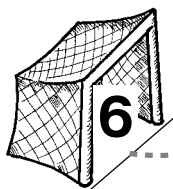


9 = . + .

9 = . + .



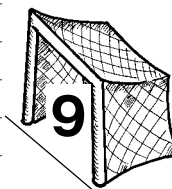
4. 6 9 .



3 + 3



8 - 2




5 + 4



6 + 3



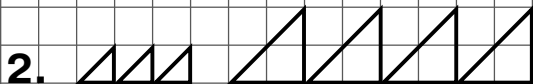
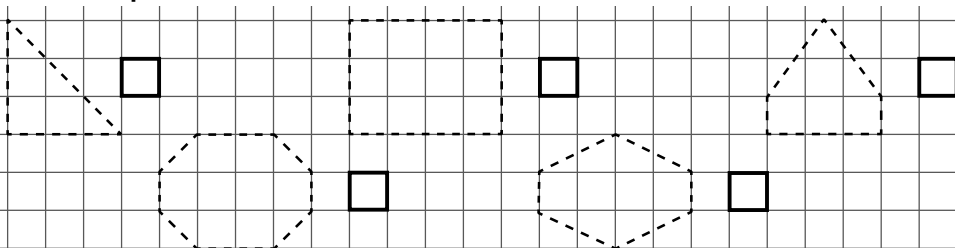
2 + 2 + 2



. + . + . = .

Многокутники

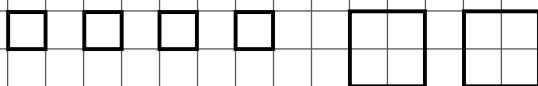
1. Обведи многокутники. Напиши скільки кутів, сторін і вершин має кожний.



$$. + . = .$$



$$. + . = .$$



$$. + . = .$$



$$. - . = .$$



$$. - . = .$$



$$. - . = .$$

4. $6 + 2 = .$

$8 + 1 = .$

$3 + 2 = .$

$5 + 3 = .$

$3 + 3 = .$

$5 + 2 = .$

5. $8 - 2 = .$

$9 - 4 = .$

$6 - 2 = .$

$7 - 1 = .$

$5 - 3 = .$

$8 - 7 = .$

1. Намалюй на 2 кружечки більше.



.

2. Намалюй на 2 квадрати менше.



.

3. Збільш на 2.

6 5 3 7

↓

. . . .

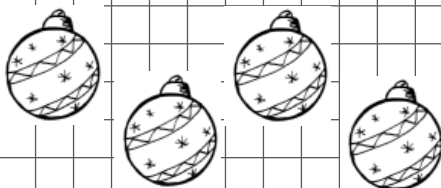
Зменш на 2.

10 8 7 6

↓

. . . .

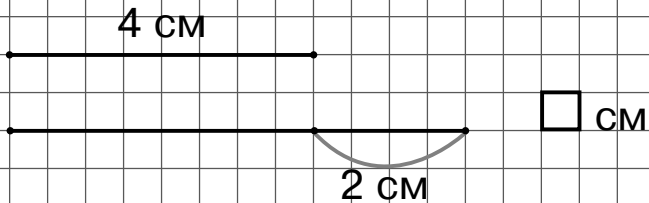
4.



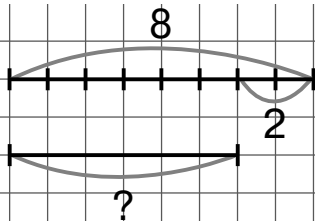
.

Відповідь: кульок.

1. Яка довжина другого відрізка?



2. Від телевізора до дивана молодший брат зробив 8 кроків, а старший брат — на 2 кроки менше. Скільки кроків зробив старший брат?



Відповідь: кроків.

3. $6 + 1 + 1 =$

$10 - 1 - 1 =$

$7 + 2 =$

$6 + 2 =$

$10 - 2 =$

$7 - 2 =$

4. $(5) + (2) \rightarrow \bigcirc - (1) \rightarrow \bigcirc - (2)$
 $(1) + \bigcirc$



Навчальне видання
БЕНЦАЛ Наталя Миколаївна
ЗОШИТ З МАТЕМАТИКИ
1 клас
Частина 1

Головний редактор *Богдан Будний*
Редактор *Наталія Шост*
Технічний редактор *Оксана Чучук*
Обкладинка *Володимира Басалиги*
Комп'ютерна верстка *Надії Магаляс*

Підписано до друку 03.09.2012. Формат 70х84/16. Папір офсетний.
Гарнітура Pragmatica. Умовн. друк. арк. 4,36. Умовн. фарбо-відб. 4,36.

Видавництво «Навчальна книга – Богдан»
Свідоцтво про внесення до Державного реєстру видавців ДК №370 від 21.03.2001р.

Навчальна книга – Богдан, просп. С. Бандери, 34а, м. Тернопіль, 46002
Навчальна книга – Богдан, а/с 529, м. Тернопіль, 46008
тел./факс (0352) 52-06-07; 52-05-48; 52-19-66;
office@bohdan-books.com www.bohdan-books.com

ISBN 978-966-10-3053-3

