

Василь Тесля

Серія «Хочу вчитися краще»

ФУТБОЛЬНА МАТЕМАТИКА

Книга-гра

2 клас

Варіант 1



ТЕРНОПІЛЬ
НАВЧАЛЬНА КНИГА — БОГДАН

Правила гри

- Лічилкою або жеребкуванням гравці встановлюють черговість виконання ходів.
 - Домовляються, яку кількість ходів будуть виконувати (10-15-21) та скільки часу можна витратити на розв'язування задачі (1-2-5 хв).
 - *Перший учасник* відкриває книгу на довільній ігровій сторінці, а *другий* вказує йому, за якого футболіста грати («**Плюс**» або «**Мінус**»). *Числа* на м'ячі біля вказаного уявного *футболіста* означають *номер сторінки* та *задачі*, яку розв'язує гравець, а *числа* біля обраної *відповіді* – *номер результату*. Якщо гравець правильно розв'яже задачу, то «**заб'є гол**»; якщо ж він помилиться, то знайде напис «**Мазило!!!**». На цьому перший хід першого гравця завершено.
 - З цієї сторінки у гру вступає *другий учасник*. *Перший гравець* вказує йому, за якого *футболіста* треба грати.
 - *Другий учасник* розв'язує задачу, обирає відповідь і зачитує *результат*: «**Гол!!!**» або «**Мазило!!!**».
 - Далі до гри долучається *наступний учасник*, починаючи зі сторінки, на якій завершив свій хід *другий гравець*.
 - *Перемагає той*, хто заб'є більше голів за визначену кількість ходів. У випадку нічиєї, можна виконувати додаткові ходи до тих пір, поки хтось із гравців не помилиться. Якщо учасників гри *багато*, їх можна розбити *на пари*. Переможці пар утворюють нові пари.
- За такою *кубковою системою* можна визначити чемпіона.

Нехай щастить!




Восьмеро учнів ходять у школу з портфелями, а з рюкзаками — у 8 разів більше. На скільки більше учнів носять рюкзаки, ніж портфелі?



«ПЛЮС»

РЕЗУЛЬТАТ

«МІНУС»



На каруселі каталося п'ятеро хлопчиків і троє дівчаток, а дорослих стільки, скільки всіх дітей разом. Скільки дорослих каталося на каруселі?





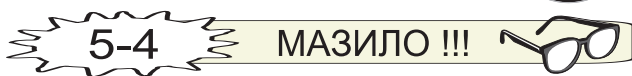
Король наказав з кожної золоті монети викарбувати по 3 медалі. Скільки отримали медалей, якщо в королівській скарбниці було лише 7 монет?



«ПЛЮС»

РЕЗУЛЬТАТ

«МІНУС»



У коробці було 12 цукерок. Діти брали цукерки з коробки доти, поки там не залишилося 4 цукерки. Скільки цукерок взяли діти?





Вранці на галявині квітло 38 кульбабок. До вечора 12 із них дозріло, але розквітло ще 26. Скільки кульбабок квітне на галявині?




«ПЛЮС»



18-4

ГОЛ !!!



Тато купив тоненьку книжку за 8 грн, товсту — за 12 грн, а фотоальбом — за 48 грн. На скільки гривень менше коштували книги, ніж альбом?




«МІНУС»



18-3

МАЗИЛО !!!






В одній пачці 3 вафельки. Скільки вафельок у 5 таких пачках?



«ПЛЮС»



П'ять слонів поділили між собою 40 кавунів. Скільки кавунів отримав кожен слон, якщо всім дісталосся порівну?



РЕЗУЛЬТАТ

«МІНУС»



ГОЛ !!!



МАЗИЛО !!!



Серію «Хочу вчитися краще» започатковано 2009 року

Тесля В.В.

ФУТБОЛЬНА МАТЕМАТИКА

Книга-гра

2 клас

Варіант 1

Головний редактор *Богдан Будний*

Редактори *Ірина Чорненька, Наталя Шост*

Обкладинка *Володимира Басалиги*

Комп'ютерна верстка *Юрія Шведа*

Підписано до друку 20.08.2010. Формат 60x84/16. Папір офсетний.

Гарнітура Таймс. Умовн. друк. арк. 1,86. Умовн. фарбо-відб. 1,86.

Видавництво “Навчальна книга – Богдан”

Свідоцтво про внесення до Державного реєстру видавців ДК №370 від 21.03.2001 р.

Навчальна книга – Богдан, а/с 529, м. Тернопіль, 46008

тел./факс (0352) 52-06-07; 52-05-48; 52-19-66

publishing@budny.te.ua, office@bohdan-books.com www.bohdan-books.com

Тесля В.В.

Т36 Футбольна математика. Книга-гра. 2 клас. Варіант 1. – Тернопіль: Навчальна книга – Богдан, 2010. – 32 с.

ISBN 978-966-10-0849-5 (серія)

ISBN 978-966-10-1588-2

ББК 74.100.58