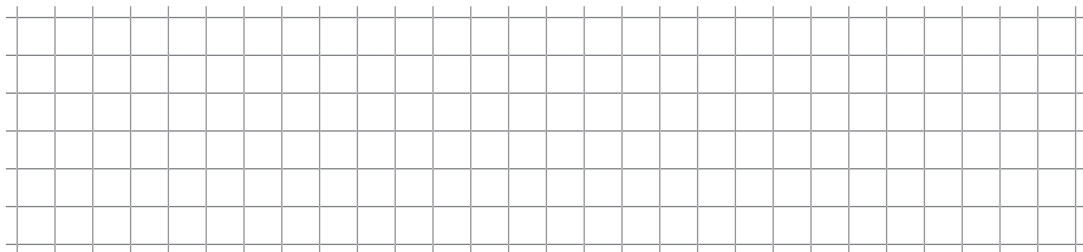


Повторення вивченого в 3 класі

1. Розв'яжи задачу.


Зібрали 622 кг винограду. У магазин відвезли 350 кг, а решту винограду поклали у ящики, по 8 кг у кожний. Скільки ящиків для цього знадобилося?



2. Обчисли.

$157 + 638 = \square\square\square$

$883 - 362 = \square\square\square$



3. Обчисли.

$217 \cdot 4 = \square\square\square$

$876 : 3 = \square\square\square$



4. Знайди значення виразів.

$480 - 360 : 4 = \square\square\square$

$120 + 8 \cdot 2 = \square\square\square$

5. Виконай дії з іменованими числами.

$2 \text{ м} - 4 \text{ дм} = \square\square\square\square$

$1 \text{ м} : 5 \text{ дм} = \square$

6. Знайди значення виразу $(40 - b) : 5$, якщо $b = 0$.

7. Довжина прямокутника 10 см, ширина — на 4 см менша.
Знайди периметр прямокутника.

Робота над помилками

A large grid of graph paper, consisting of 20 columns and 20 rows of small squares, intended for working on errors.

**Нумерація чисел в межах мільйона.
Величини**

1. Розв'яжи задачу.

На 8 однакових костюмів витратили 24 м тканини.
Скільки таких костюмів можна пошити із 18 м тканини?



2. Знайди значення виразів.

$$14\ 000 : 100 + 50 \cdot 10 = \square\square\square$$

$$100 \cdot (9350 - 9000) = \square\square\square\square$$



3. Порівняй (>, <, =).


$$832\ 000 \square 93\ 000$$

$$800\ 000 \square 88\ 888$$

$$12\ 000 \square 120\ 000$$

$$585\ 600 \square 558\ 600$$

4. а) Запиши цифрами числа: двісті десять тисяч сто одиннадцять; сімсот сорок три тисячі триста вісімнадцять; чотиреста тисяч дев'ять.
- б) Запиши «сусідів» числа 4341.
- в) Розклади на розрядні доданки число 206 310.



5. Устав пропущені числа.

$$4520 \text{ г} = \square \text{ кг } \square \square \square \text{ г} \quad 10\,250 \text{ м} = \square \square \text{ км } \square \square \square \text{ м}$$

$$185 \text{ хв} = \square \text{ год } \square \text{ хв}$$

6. Виконай ділення з остачею.

$$289 : 10$$

$$3518 : 100$$



7. Накресли квадрат із стороною 4 см. Знайди його периметр і площу.



Робота над помилками

A large grid of graph paper, consisting of 20 columns and 30 rows of small squares, intended for writing answers to the exercises.

ЗМІСТ

Робота 1. Повторення вивченого в 3 класі	2
Робота 2. Нумерація чисел в межах мільйона. Величини	5
Робота 3. Додавання і віднімання багатоцифрових чисел	8
Робота 4. Підсумкова робота за I семестр	11
Робота 5. Множення і ділення багатоцифрових чисел.....	14
Робота 6. Дроби. Швидкість, час, відстань	18
Робота 7. Множення та ділення на двоцифрове число	22
Робота 8. Підсумкова робота за II семестр	26