



1. Встанови закономірність і продовж ряд чисел до 20.

2, 4, 6, , , , 14, , , 20.


2. Заміни додавання множенням.

$$6 + 6 + 6 + 6 = \boxed{} \boxed{} \boxed{} \boxed{} \boxed{} \boxed{}$$

$$8 + 8 + 8 + 8 + 8 + 8 + 8 = \boxed{} \boxed{} \boxed{} \boxed{} \boxed{} \boxed{} \boxed{}$$

$$7 + 7 + 7 + 7 + 7 + 7 + 7 + 7 = \boxed{} \boxed{} \boxed{} \boxed{} \boxed{} \boxed{} \boxed{} \boxed{}$$

3. Знайди значення виразу $a - 34$, якщо $a = 50; 47; 62$.




4. Склади і розв'яжи задачу за коротким записом.


Було — ?

Продали — 16 м і 9 м

Залишилося — 40 м



5. Накресли ламану, яка складається з трьох ланок, задовжки 2 см кожна. Знайди довжину ламаної.





1. Встанови закономірність, продовж ряд чисел.

4, 6, , , , , , 18, 20.

2. Порівняй вирази ($>$, $<$, $=$).

$2 + 2 + 2 + 2 \square 2 \cdot 6$

$2 \cdot 7 \square 2 + 2 + 2 + 2$


$2 + 2 + 2 + 2 + 2 \square 2 \cdot 5$

$2 \cdot 3 \square 2 + 2 + 2$

$2 + 2 \square 2 \cdot 2$

$2 \cdot 4 \square 2 + 2 + 2 + 2 + 2$

3. В одному пакеті 2 кг яблук. Скільки кілограмів яблук у 4 таких пакетах?



4. Встав пропущені числа.

$1 \text{ дм } 2 \text{ см} = \square \square \text{ см}$

$54 \text{ см} = \square \text{ дм } \square \text{ см}$


$4 \text{ дм } 2 \text{ см} = \square \square \text{ см}$

$20 \text{ см} = \square \text{ дм}$

$8 \text{ дм } 8 \text{ см} = \square \square \text{ см}$

$32 \text{ см} = \square \text{ дм } \square \text{ см}$

5. Накресли квадрат, сторона якого дорівнює 3 см. Знайди його периметр.





1. Встав пропущені числа.

2, 3, 4, , , , , 9.

Кожне число помнож на 2. Запиши результати.



2. Встав пропущені числа.

$19 < 25$ на

$23 + 9 < 90$ на


$79 > 22$ на

$13 + 4 > 10$ на

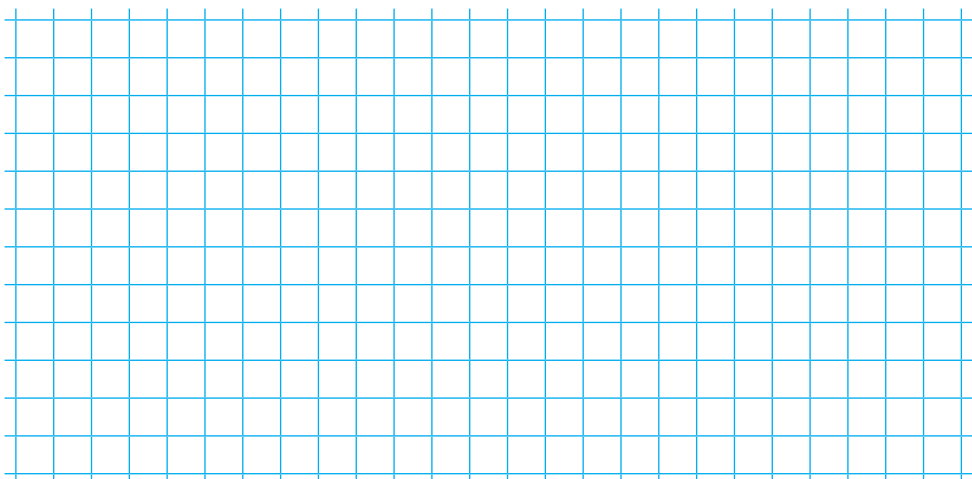
$26 < 40$ на

$9 + 36 < 65$ на

3. Купили блузку за 80 грн і дві майки, по 30 грн кожна. На скільки гривень більше заплатили за блузку, ніж за дві майки?



4. Ширина прямокутника 3 см, а довжина — на 1 см довша. Накресли прямокутник і обчисли периметр.





1. Запиши всі непарні числа дев'ятого десятка.

2. Обчисли.

$2 \cdot 7 + 14 = \square \square$

$2 \cdot 3 + 60 = \square \square$

$2 \cdot 8 - 4 = \square \square$

$2 \cdot 4 + 24 = \square \square$

$2 \cdot 9 - 9 = \square \square$

$2 \cdot 6 - 12 = \square \square$

3. Маса курки 2 кг. Яка маса трьох таких курок?

4. Іринка розклала 6 яблук на дві тарілки порівну. Скільки яблук поклала Іринка на кожную тарілку? Намалюй.

5. Накресли два відрізки: перший завдовжки 2 см, а другий — у 4 рази довший.