

**Натисніть тут, щоб
купити книгу на сайті
або замовляйте за телефоном:
(0352) 51-97-97, (067) 350-18-70,
(066) 727-17-62**

Нова  українська школа

М.В. Богданович
Н.О. Будна

МАТЕМАТИКА
КАРТКИ
ДЛЯ САМОСТІЙНОЇ РОБОТИ
2 КЛАС



ТЕРНОПІЛЬ
НАВЧАЛЬНА КНИГА — БОГДАН

УДК 51.(075.2)
ББК 22.1.я71
Б73

Богданович М.В.

Б73 Математика. Картки для самостійної роботи : 2 кл. / М.В. Богданович, Н.О. Будна. — Тернопіль : Навчальна книга — Богдан, 2019. — 64 с.
2005000013638

Пропонований посібник відповідає Державному стандарту початкової освіти та типовим освітнім програмам і призначений для оперативної перевірки знань учнів та своєчасного виявлення і усунення прогалин у засвоєнні вивченого матеріалу.

У посібнику міститься 33 самостійні роботи, які доцільно використовувати як доповнення до діючих підручників. Матеріал посібника розташовано за варіантами. Кожен варіант є окремим блоком сторінок, позначених зображеннями звірят.

I блок (I варіант, сторінки 1–20) — їжачок;

II блок (II варіант, сторінки 1–20) — лисичка;

III блок (III варіант, сторінки 1–20) — зайчик.

Розшийте посібник. Таким чином ви отримаєте три окремі брошури з математичними завданнями для самостійної роботи учнів за кожним із трьох варіантів.

Для вчителів і учнів початкових класів.

УДК 51.(075.2)
ББК 22.1.я71

Охороняється законом про авторське право. Жодна частина видання не може бути відтворена в будь-якому вигляді без дозволу видавництва.

Навчальне видання

БОГДАНОВИЧ Михайло Васильович
БУДНА Наталя Олександрівна

МАТЕМАТИКА
Картки для самостійної роботи
2 клас

Головний редактор *Богдан Будний*

Редактор *Наталія Шост*

Обкладинка *Володимира Басалиги*

Комп'ютерна верстка *Тетяни Золосдової, Галини Телев'як*

Підписано до друку 23.01.2019. Формат 70х84/16. Папір офсетний. Гарнітура Pragmatica.
Умовн. друк. арк. 1,16. Умовн. фарбо-відб. 1,16.

Видавництво «Навчальна книга — Богдан»
Свідоцтво про внесення суб'єкта видавничої справи до Державного реєстру видавців, виготівників і розповсюджувачів видавничої продукції ДК № 4221 від 07.12.2011 р.

Навчальна книга — Богдан, просп. С. Бандери, 34а, м. Тернопіль, 46002
Навчальна книга — Богдан, а/с 529, м. Тернопіль, 46008
тел./факс (0352) 52-06-07; 52-05-48 office@bohdan-books.com www.bohdan-books.com

Видавництво «Навчальна книга — Богдан» у соцмережах:



bohdanbooks



bohdan_books



YouTube с/НКBohdan



t.me/bohdanbooks



РОБОТА 1

1. Скільки грошей у хлопчиків? У кого з них найбільше грошей?
Укого — найменше?



Сергій

Пилип

Карпо

2. Дідусь посадив 4 вишні, 5 слив і одну тополя. Скільки всього плодкових дерев посадив дідусь?
3. Обчисли.

$$40 - 10$$

$$60 - 30$$

$$67 - 20$$

$$67 - 60$$

$$10 + 60$$


$$70 - 50$$

$$67 - 2$$

$$67 - 7$$

РОБОТА 2

1. Яка маса гуски?



2. Мама купила 36 зошитів у клітинку і 12 зошитів у лінійку. На скільки більше зошитів у клітинку купила мама?
3. 1) Запиши і обчисли вирази:
5 плюс 5; до 6 додати 4; 8 мінус 5; 8 зменшити на 6.
- 2) Знайди: суму чисел 7 і 2; різницю чисел 9 і 8.



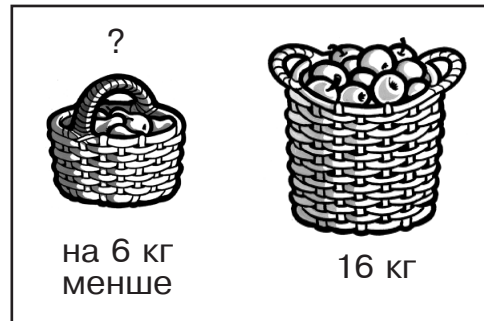
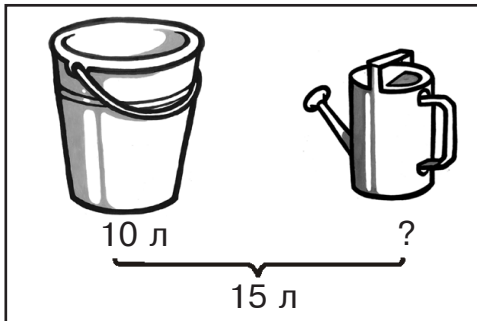
РОБОТА 3

1. Запиши і обчисли вирази.


Числа	Знайди
8 і 3	суму
20 і 1	різницю
11 і 3	різницю

Числа	Знайди
13 і 4	різницю
17 і 10	різницю
7 і 3	суму

2. Склади задачі за малюнками і розв'яжи їх.



3. Виміряй довжину даних відрізків.



РОБОТА 4

1. 1) Знайди суму $8 - a$, якщо $a = 2$, $a = 4$.

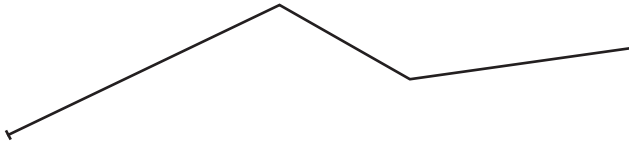
2) Знайди різницю $a - 3$, якщо $a = 13$.



2.	Було води	Витратили на полив дерев	Залишилося
	12 відер	?	3 відра

Скільки відер води витратили на полив дерев?

3. Знайди довжину ламаної.



РОБОТА 5

1. Рибалка зловив 9 карасів, 5 щук, а окунів стільки, скільки карасів і щук разом. Скільки окунів зловив рибалка?

2. На яких терезах помилка?


$$\begin{array}{r} 9 + 4 \quad 13 \\ \hline \triangle \end{array}$$

$$\begin{array}{r} 12 \quad 8 + 9 \\ \hline \triangle \end{array}$$

$$\begin{array}{r} 14 - 4 \quad 4 \\ \hline \triangle \end{array}$$

$$\begin{array}{r} 10 \quad 6 + 5 \\ \hline \triangle \end{array}$$

3. На скільки сантиметрів перший відрізок коротший, ніж другий?





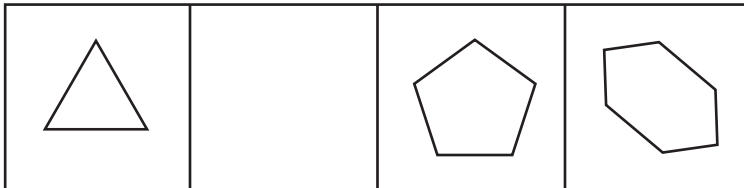
РОБОТА 6

1. Розв'яжи і порівняй задачі.

1) У фермера було 12 поросят. 7 поросят він продав. Скільки поросят залишилося у фермера?

2) Фермер продав 7 поросят. Після цього у нього залишилося ще 5 поросят. Скільки поросят було у фермера спочатку?

2. Накресли пропущений багатокутник.



3. Обчисли.

$1 - 6 + 5$

$6 + 7 - 5$

$9 + 4 - 7$

$13 - 7 + 5$

$3 + 3 - 7$

$6 + 6 - 5$

$4 + 4 + 7$

$9 + 2 - 6$

РОБОТА 7

1. *Задача на дві дії.* У шкільній їдальні було 15 кг моркви. На сніданок витратили 3 кг моркви, а на обід 5 кг. Скільки кілограмів моркви залишилося в їдальні?

2. *Цікаві рамки.* Знайди і запиши невідомі числа.

