


Розглянь малюнок. Познач правильні твердження знаком плюс, а неправильні — знаком мінус.

- Зліва на малюнку дерев більше, ніж справа.
- Справа на малюнку дерев більше, ніж зліва.
- Колесо огляду вище від усіх дерев.




1. Розглянь малюнок. Обведи гнома, який наздоганяє іншого гнома. Підкресли гнома, назустріч якому біжать кілька гномів. Намалюй трикутник над гномом, який біжить справа наліво.



2. Розглянь малюнок. Прочитай речення. Обведи в ньому слово, яке не відповідає малюнку.

Усі музиканти стали в ряд.



1. Розглянь малюнок. Прочитай запитання і познач (✓) правильну відповідь.

1) Чи всі бейсболки однакові?

Так

Ні

2) Чого більше на малюнку: бейсболок чи метеликів?

Бейсболок

Метеликів



2. Намалюй перед півнем трикутник і позаду півня — коло. Що буде перед півнем, якщо він повернеться у протилежний бік? Намалюй у клітинці.



Розглянь малюнок. Познач правильні твердження знаком плюс, а неправильні – знаком мінус.

- На острові дві статуї.
- Усі статуї на малюнку дивляться в один бік.
- Усі статуї на малюнку стоять на одній прямій лінії.




1. Розглянь малюнок. Чого більше: копиць сіна чи кінцівок у коня? Познач трикутником.



2. Розглянь малюнок і прочитай речення. Обведи в ньому слово, яке не відповідає малюнку.

Балерини в однакових сукнях дивляться одна на одну.



1. Розглянь малюнок. Обведи ведмедя, перед яким їдуть ще два ведмеді. Підкресли його сусіда.



2. Розглянь малюнок. Прочитай речення. Які слова потрібно в нього вставити? Проведи стрілки від персонажів на малюнку до відповідних місць цих слів у реченні.

На ринку _____
продавала велику білу _____.

