

**Натисніть тут, щоб
купити книгу на сайті
або замовляйте за телефоном:
(0352) 51-97-97, (067) 350-18-70,
(066) 727-17-62**

ЛЮБИЙ ДРУЖЕ!

Ось і прийшла чарівниця-зима. Накрила весь світ широкими білими крильми, огортаючи його казковістю і неповторністю. Особливо прекрасний перший сніг, який чомусь завжди випадає вночі і на ранок вражає усіх своєю чистотою і свіжістю. Він неначе спеціально створений для дитячої радості. Адже тільки взимку можна досхочу покататися на санчатах, лижах, ковзанах... А ще в цю пору приходять зимові канікули. Ти відпочиватимеш, святкуватимеш, але не забувай і того, чого навчився в першому семестрі. У цьому тобі допоможе даний зошит. Виконуючи запропоновані завдання, ти повториш вивчений матеріал, перевіриш свої знання, а також дізнаєшся багато цікавої інформації.

**Приємних тобі канікул
і успіхів у навчанні в наступному семестрі!**





1. Прочитай текст. Познач (✓) правильну відповідь.

ЯК РИБАЛКИ ДОПОМАГАЮТЬ ВЗИМКУ РИБІ

Коли річка замерзає, чисте повітря не потрапляє у воду. Це дуже небезпечно для риб. Рибалки продовбують лід, щоб ловити рибу, і цим допомагають їй дихати.



Від чого рибалки рятують рибу?

- Від нестачі води.
- Від нестачі повітря.
- Від нестачі їжі.

2. Продовж речення.

Лід небезпечний для риб тому, що


Four sets of handwriting practice lines, each consisting of a solid top line, a dashed middle line, and a solid bottom line, with a diagonal slash indicating the start of a line.

3. Напиши подані слова каліграфічно. На яке питання вони відповідають?

лід _____ річка _____

вода _____ повітря _____








33. Прочитай текст. Назви дні тижня.

ТИЖДЕНЬ МІЦНИЙ СЕРЕДОЮ

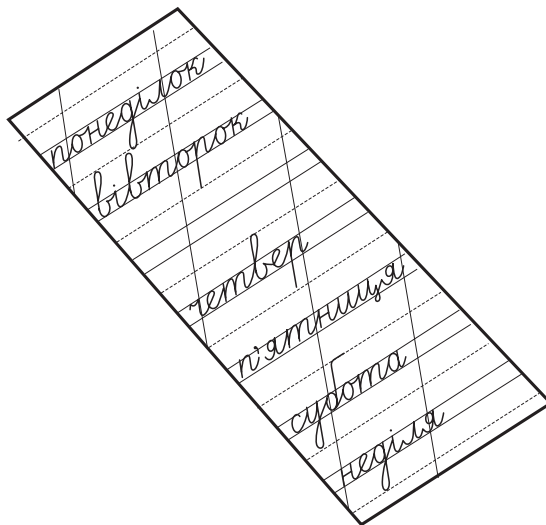
Так говорять, тому що в понеділок важко налаштуватися на роботу. У вівторок вже легше, а середа вважається основним робочим днем. У четвер і п'ятницю ми починаємо замислюватися над тим, що робитимемо у вихідні.



34. Розгадай ребуси. Запиши звукові схеми слів-відгадок, надрукуй ці слова і запиши їх каліграфічно.



35. Запиши назву третього дня тижня.





36. Допиши.

У середи є два брати:

_____ і четвер.

37. Виконай дії додавання і віднімання та розшифруй слова.

А	Д	І	С	Г	Н	В	К	Р	О
1	2	3	4	5	6	7	8	9	10

$3 + 5 = \square\square\square$

$1 + 6 = \square\square\square$

$10 - 8 = \square\square\square$

$2 + 8 = \square\square\square$

$3 + 7 = \square\square\square$

$1 + 9 = \square\square\square$

$1 + 8 = \square\square\square$

$3 + 6 = \square\square\square$

$2 + 7 = \square\square\square$

$4 + 6 = \square\square\square$

$4 + 6 = \square\square\square$

$6 + 4 = \square\square\square$

$2 + 5 = \square\square\square$

$9 - 3 = \square\square\square$

$10 - 5 = \square\square\square$

$8 - 7 = \square\square\square$

$9 - 8 = \square\square\square$

$10 - 9 = \square\square\square$

38. Розв'яжи задачу.

У дворі гуляло 9 дівчаток. Коли кілька з них розійшлися по домівках, у дворі залишилося 6 дівчаток. Скільки дівчаток пішло додому?



Розв'язання

$\square\square\square - \square\square\square = \square\square$

Відповідь: _____

39. Поміркуй!

За допомогою стрілок встанови відповідність між множиною *A* і множиною *B*, тобто кожен елемент множини *A* з'єднай з відповідним елементом множини *B*.

A		B
Грудень	•	• 28
Січень	•	• 29
Лютий	•	• 30
		• 31

