

І.М. Чорненька

МАТЕМАТИКА

1 ПЕРШИЙ ВАРІАНТ

*Схвалено комісією з педагогіки та методики початкового навчання
Науково-методичної ради з питань освіти
Міністерства освіти і науки України
(лист №1.4/18-873 від 20.03.2009 р.)*

ЗОШИТ

для контрольних робіт

уч _____ 4 _____ класу

Дата

1. Обчислити письмово.

$$348 + 285$$

$$105 \cdot 6$$

$$816 : 4$$

$$632 - 194$$

$$218 \cdot 3$$

$$581 : 7$$

2. Знайти значення виразів.


$$190 + 360 : 6$$

$$70 \cdot 3 - 50$$

3. Розв'язати задачу.


У покупця було 350 гривень. Він купив 4 м тканини, по 28 грн. за метр. Скільки гривень залишилося у покупця?

4. Накреслити відрізок AB , довжина якого становить $\frac{1}{6}$ від 4 дм 2 см.



**Бали (рівень
навчальних досягнень)**

Додаткові завдання



Аналіз контрольної роботи

A large grid of graph paper, consisting of 20 columns and 30 rows of small squares, intended for writing the analysis of the control work.

Дата

1. а) Записати цифрами числа : вісімдесят дві тисячі триста сорок п'ять; шість тисяч вісімдесят; дванадцять тисяч чотириста.
б) Записати "сусідів" числа 4341.
в) Розкласти на розрядні доданки число 75 308.
г) Записати суму як одне число : $40\ 000 + 1000 + 60 + 2$.
г) Записати, скільки всього десятків у числі 24 705.

2. Обчислити письмово.

$218 \cdot 4$

$968 : 8$

$4 \text{ дм} : 8$

$305 \cdot 9$

$882 : 2$


$2 \text{ ц} - 20 \text{ кг}$

3. Виконати дії.


$652 : 2 - 139$

4. Розв'язати задачу.

У трьох будинках 140 квартир. У першому будинку 32 квартири, в другому — на 16 квартир більше, ніж у першому, а в третьому — решта. Скільки квартир у третьому будинку?



Додаткові завдання



Аналіз контрольної роботи

A large grid of graph paper, consisting of 20 columns and 30 rows of small squares, intended for writing the analysis of the control work.