
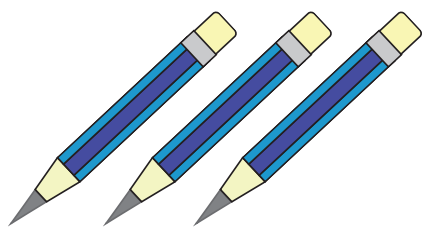


Сашко мав 2 пензлі та 3 олівці. Скільки всього пензлів та олівців було в Сашка?

1. Закресли «зайве» на малюнку.
2. Розв'яжи задачу.



Відповідь:

Мама купила в магазині 1 тістечко, а льодяників — на 2 більше. Скільки льодяників купила мама в магазині?

1. Підкресли ті зображення солодоців, які допоможуть розв'язати задачу.
2. Розв'яжи задачу.



Відповідь:

Наклейка із зображенням країн світу в магазині коштує 4 гривні, а наклейка із зображенням глобуса — на 2 гривні дорожча. Скільки гривень коштує наклейка із глобусом?

1. Домалюй стільки кіл, на скільки гривень наклейка з глобусом дорожча.

2. Розв'яжи задачу.



Відповідь: _____

На дні моря було 5 морських коників. Згодом кілька з них поплили, а на дні залишилися 2 морських коники. Скільки морських коників поплило?

1. Обведи стільки морських коників, скільки їх залишилося на дні.


2. Розв'яжи задачу.



Відповідь: _____

Дорогою йшли кілька солдатів. Потім їх наздогнали ще 2 солдати, і всіх стало 5. Скільки солдатів ішло по дорозі спочатку?


1. Обведи стільки солдатів, на скільки їх стало більше.
2. Розв'яжи задачу.



Відповідь: _____

Перший паровоз тягне за собою 4 вагони, а другий паровоз — на 2 вагони менше. Скільки вагонів тягне за собою другий паровоз?

1. Запиши в клітинках, скільки вагонів тягне за собою перший паровоз, скільки — другий.
2. Розв'яжи задачу.



Відповідь: _____

Розглянь зображення монет. Запиши, скільки монет і скільки грошей у кожній групі.

У якій групі більше монет, а в якій більше грошей?



монет

гривень



монет

гривень

1. Підкресли в першій групі дві монетки.

2. У другій групі обведи стільки грошей, скільки ти підкреслив у першій.

На одній вулиці було 5 будинків із червоними дахами і 7 будинків із синіми. На скільки більше було на вулиці будинків із синіми дахами?

1. Розв'яжи задачу.

2. Обведи стільки будинків, скільки вийде у відповіді.



--	--	--	--	--	--	--	--	--	--

Відповідь: на _____