


**Натисніть тут, щоб
купити книгу на сайті
або замовляйте за телефоном:
(0352) 51-97-97, (067) 350-18-70,
(066) 727-17-62**

ТРЕНУЄМОСЯ ДОДАВАТИ

1. Обчисли.

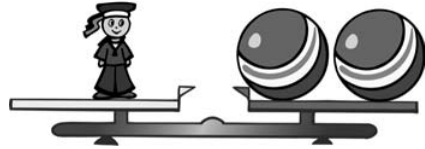
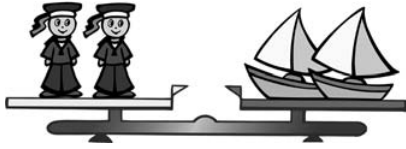
$6 + 3 = .$	$3 + 4 = .$
$5 + 3 = .$	$7 + 2 = .$
$4 + 3 = .$	$9 + 1 = .$
$3 + 3 = .$	$8 + 2 = .$
$2 + 4 = .$	$6 + 1 = .$
$5 + 1 = .$	$4 + 2 = .$
$6 + 2 = .$	$5 + 2 = .$
$7 + 3 = .$	$1 + 8 = .$

2. Склади і запиши свої рівності.




МІРКУЄМО

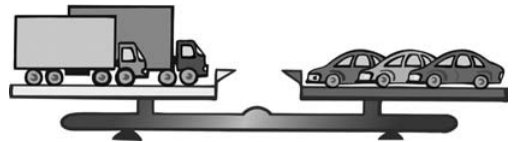
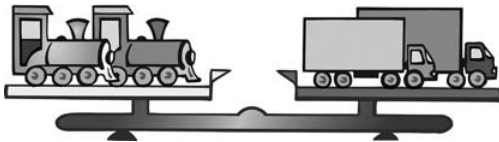
1. Яка іграшка найлегша? Обведи.



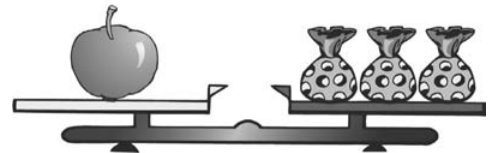
2. Який фрукт найважчий? Обведи. Який найлегший? Закресли.




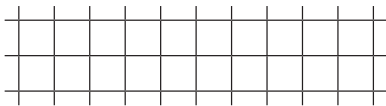
3. Яка іграшка найлегша? Обведи.




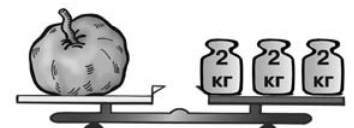
4. Яка маса яблука? Чому масу вимірюють кілограмами, а не цукерками?



5. Яка маса товстуна?
Яка маса гир?



6. Скільки треба взяти гир масою 3 кг, щоб зважити цей гарбуз?



ДОДАЄМО В МЕЖАХ 100

1. Обчисли.

$40 + 30 = \square\square$

$70 + 30 = \square\square\square$

$20 + 20 = \square\square$

$20 + 80 = \square\square\square$

$50 + 20 = \square\square$

$90 + 10 = \square\square\square$

$10 + 40 = \square\square$

$50 + 50 = \square\square\square$

2.

 $50 + 6 = \square\square$

$90 + 9 = \square\square$

$30 + 1 = \square\square$

$40 + 3 = \square\square$

$80 + 4 = \square\square$

$20 + 5 = \square\square$

$20 + 8 = \square\square$

$30 + 7 = \square\square$

$40 + 4 = \square\square$

$50 + 7 = \square\square$

$40 + 6 = \square\square$

$70 + 6 = \square\square$

3.

 $18 + 1 = \square\square$

$19 + 1 = \square\square$

$72 + 1 = \square\square$

$48 + 1 = \square\square$

$24 + 1 = \square\square$

$81 + 1 = \square\square$

$53 + 1 = \square\square$


$39 + 1 = \square\square$

$96 + 1 = \square\square$

$34 + 1 = \square\square$

$65 + 1 = \square\square$

$99 + 1 = \square\square\square$



ВІДНІМАЄМО В МЕЖАХ 100

1. Обчисли.

$70 - 10 = \square\square$

$100 - 40 = \square\square$

$50 - 40 = \square\square$

$60 - 30 = \square\square$

$90 - 30 = \square\square$

$80 - 20 = \square\square$

$40 - 20 = \square\square$

$30 - 20 = \square\square$

2.

 $37 - 30 = \square$

$37 - 7 = \square\square$

$56 - 50 = \square$

$56 - 6 = \square\square$

$94 - 90 = \square$

$94 - 4 = \square\square$

$43 - 30 = \square$

$43 - 3 = \square\square$

3.

 $18 - 1 = \square\square$

$20 - 1 = \square\square$

$36 - 1 = \square\square$

$48 - 1 = \square\square$

$30 - 1 = \square\square$

$66 - 1 = \square\square$

$59 - 1 = \square\square$


$40 - 1 = \square\square$

$99 - 1 = \square\square$


$24 - 1 = \square\square$

$50 - 1 = \square\square$

$73 - 1 = \square\square$



МОЇ УСПІХИ



ЗМІСТ

Записуємо числа	3
Тренуємося додавати	4
Тренуємося віднімати	5
Креслимо відрізки.....	6
Розв'язуємо задачі	7
Розв'язуємо задачі	8
Міркуємо.....	9
Міркуємо.....	10
Міркуємо.....	11
Класифікуємо.....	12
Тренуємося додавати, віднімати, порівнювати	13
Розв'язуємо задачі	14
Розв'язуємо задачі	15
Знаходимо невідомий доданок	16
Складаємо обернені задачі.....	17
Пишемо двоцифрові числа	18
Вчимо «круглі» числа	19
Вчимо числа в межах 100	20
Вчимо числа в межах 100	21
Найбільше і найменше число.....	22
Шукаємо «зайву» фігуру.....	23
Міркуємо.....	24
Додаємо в межах 100	25
Віднімаємо в межах 100.....	26
Знаходимо невідоме зменшуване.....	27
Знаходимо невідомий від'ємник	28
Додаємо і віднімаємо в межах 100	29

Складаємо і розв'язуємо задачі.....	30
Мої задачі	32
Розпізнаємо об'ємні фігури	33
Вивчаємо діаграми і графіки	34
Числові кросворди.....	37
Яке наступне число?.....	38
Визначаємо час	39
Повторюємо.....	40
Мої успіхи	43
Мої успіхи	44
Мої успіхи	45