

**Натисніть тут, щоб
купити книгу на сайті
або замовляйте за телефоном:
(0352) 51-97-97, (067) 350-18-70,
(066) 727-17-62**

Урок №1. АРХІТЕКТУРА ТА ЇЇ ВИДИ



3. *Горголевський.*

Львівський національний академічний театр опери та балету імені С. Крушельницької



1. Альтанка в парку Сучжоу, *Китай*



2. Будинок в передмісті, *Англія*



3. Вузтєва фабрика,
м. Альфельд, Німеччина

Визнач, до якого виду архітектури належать представлені на світлинах твори, та впиши назву виду відповідно до номера світлини.

1.

4.

2.

5.

3.

6.



4. Міланський
кафедральний собор, *Італія*

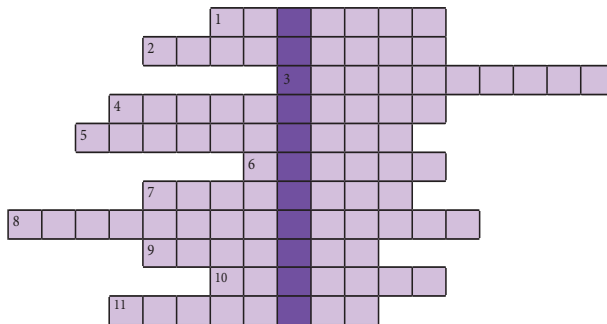
5. Хокейна арена
«Пенгрут-Седдлоум»,
м. Калгарі, Канада




6. Житловий комплекс
«Набережний квартал»,
м. Вінниця (проект)

ЗНАЙДИ КЛЮЧОВЕ СЛОВО, РОЗВ'ЯЗАВШИ КРОСВОРД

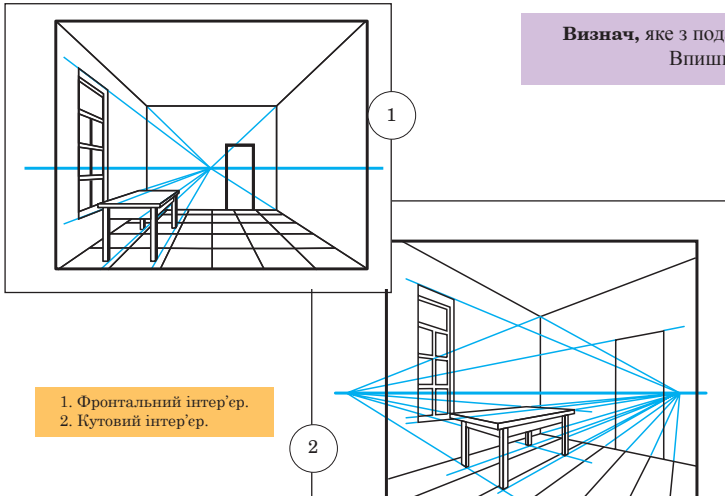
1. Вид образотворчого мистецтва, основним виражальним засобом якого є лінія, точка, штрих, пляма.
2. Жанр, присвячений зображенню неживих предметів.
3. Назва кольорів сонячного спектру в образотворчому мистецтві.
4. Жанр, в основі якого лежать сюжети на релігійну тематику.
5. Вид образотворчого мистецтва, в якому дійсність відтворюється пластично в об'ємних формах.
6. Жанр, в якому основним предметом зображення є первозданна або змінена людиною природа.
7. Народне мистецтво, головною метою якого є створення та оздоблення художніх виробів, що мають практичне призначення у побуті.
8. Жанр, присвячений зображенню тварин.
9. Рельєф поверхні предмета в образотворчому мистецтві.
10. Жанр, в якому зображується людина або група людей задля відтворення зовнішності, індивідуальності та відображення їхньої духовної суті.
11. Яскраво виражена протилежність будь-яких якостей і властивостей.



Урок №2. ІНТЕР'ЄР. ПЕРСПЕКТИВА В ІНТЕР'ЄРІ




4



1. Фронтальний інтер'єр.
2. Кутівий інтер'єр.

Визнач, яке з поданих зображень є інтер'єром (1), а яке – екстер'єром (2).
Впиши відповідні номери у поданих зображеннях.

Виконай завдання: поміркуй, яка об'ємна геометрична фігура лежить в основі форми столу, та зобрази її відносно поданої лінії горизонту в обраній тобою проєкції.



Впиши відповіді на тестові завдання:

1

2

3



Відтвори видимі перспективні зміни інтер'єру кімнати, зобразивши її в кутовому або фронтальному вигляді.


Уроки №3-4. ІНТЕР'ЄР В ЖИТТІ ЛЮДИНИ



6

Виконай завдання: проаналізуй твір за планом:

1. Визнач, до якого типу інтер'єру належить подане зображення.
2. У якому виді, фронтальному чи кутовому, подано інтер'єр вітальні?
3. Якою є загальна колірна гама приміщення?
4. Визнач, як між собою поєднуються колір меблів, стін і різних декоративних елементів.
5. Яке враження справила на тебе ця композиція?



Визнач, які з інтер'єрів подано у фронтальному вигляді (1), а які — в кутовому (2). Впиши відповідні номери у поданих зображеннях.

Виконай завдання: побудуй зображення будь-якого предмета інтер'єру в кутовому або фронтальному положенні.

Впиши відповіді на тестові завдання:

1

2

3



Виконай проект інтер'єру власної кімнати або сучасної навчальної аудиторії.