
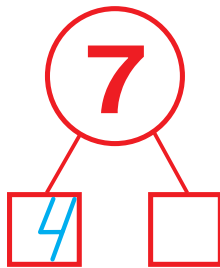





✪ Встав пропущені числа.



Спекли

З'їли

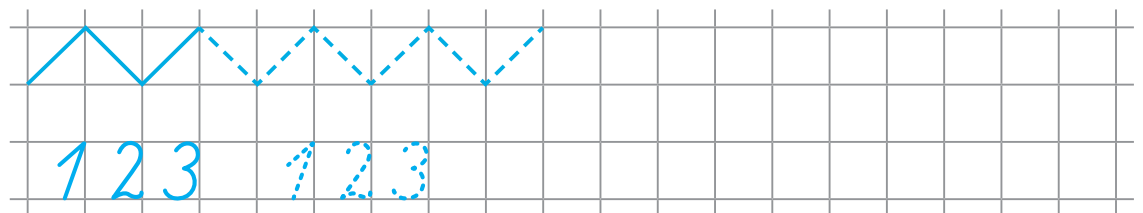
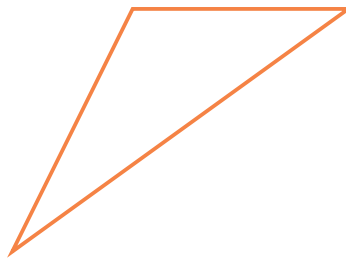


Залишилося



$$\square \square \square - \square \square = \square$$



Назви зображені геометричні фігури. Розфарбуй (або заштрихуй) фігури, у яких три кути.



Запиши й обчисли.



$$\square + \square = \square$$



$$\square + \square = \square$$




$$\square - \square = \square$$



$$\square - \square = \square$$



У першому
кошику



У другому
кошику






Всього




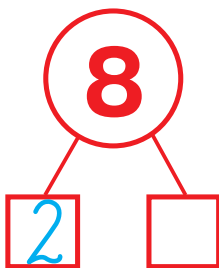

$$\square + \square = \square$$



Домалюй стільки геометричних фігур, щоб у кожній рамочці їх стало по 4.



✿ Встав пропущені числа.



Летіло

Приєдналося
до гурту

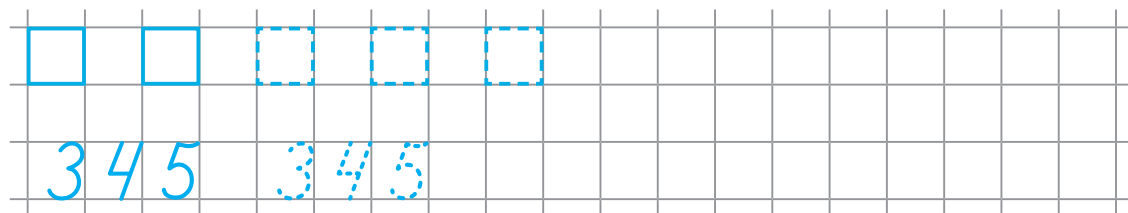

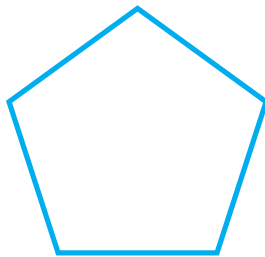

Стало



$$\square \square \square = \square$$



Заштрихуй п'ятикутник.



✿ Запиши й обчисли.



	+		=	
--	---	--	---	--



	-		=	
--	---	--	---	--



	+		=	
--	---	--	---	--



	-		=	
--	---	--	---	--



Було

Полетіло

Залишилося
на гілці



			=	
--	--	--	---	--



Обведи квадрат.

