



**Натисніть тут, щоб
купити книгу на сайті
або замовляйте за телефоном:
(0352) 51-97-97, (067) 350-18-70,
(066) 727-17-62**



$30+10$	$39-1$	$42-3$	$68+3$
$29+1$	$90-80$	$58-8$	$35+42$



Кроків — ?

3 дм



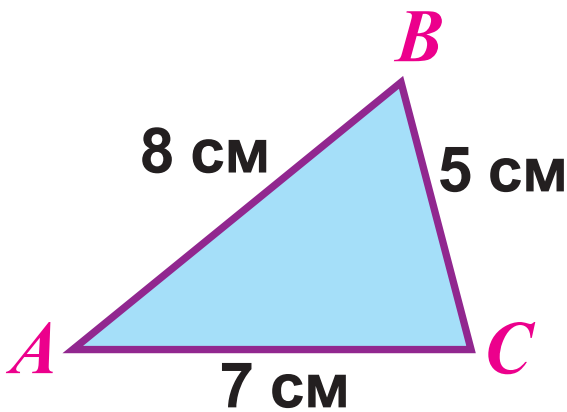
21 дм

Diagram showing a number path starting from 18. The path consists of yellow circles connected by red arrows. The sequence is: 18 → 33 → 21 → 36 → (empty circle) → (empty circle). To the left of the path, there are two red arrows: one pointing up from 18 labeled '+15', and one pointing down from 33 labeled '-12'.

Велика буква	<i>A</i>	<i>B</i>	<i>C</i>	<i>D</i>	<i>E</i>	<i>F</i>	<i>I</i>	<i>K</i>	<i>L</i>	<i>M</i>	<i>O</i>	<i>X</i>
Мала буква	<i>a</i>	<i>b</i>	<i>c</i>	<i>d</i>	<i>e</i>	<i>f</i>	<i>i</i>	<i>k</i>	<i>l</i>	<i>m</i>	<i>o</i>	<i>x</i>
Назва букви	а	бе	це	де	е	еф	і	ка	ель	ем	о	ікс

$$k + l = m$$

$$f - d = e$$



Периметр — ?

$$\square + \square + \square = \square \text{ (см)}$$

$$1 \text{ дм} = 10 \text{ см}$$



$$1 \text{ м} = 10 \text{ дм}$$

$$9 \text{ дм} + 6 \text{ дм} = \square \text{ м } \square \text{ дм}$$

$$5 \text{ см} + 8 \text{ см} = \square \text{ дм } \square \text{ см}$$

$$3 \text{ дм} + 7 \text{ дм} = \square \text{ м}$$

$$60 + 50 = 110$$

$$\text{6 дес.} + \text{5 дес.} = \text{11 дес.}$$

$$80 + 40 = \square$$

$$\text{8 дес.} + \text{4 дес.} = \square \text{ дес.}$$

2 год — 8 глечиків
6 год — ?

Розв'язання

$$\square : \square \cdot \square = \square \text{ (гл.)}$$

2 год — 8 глечиків
6 год (щогодини
на 1 гл. більше) — ?

Розв'язання

$$(\square : \square + 1) \cdot \square = \square \text{ (гл.)}$$

$$110 - 60 = 110 - 10 - 50 = \square$$

$$\text{10} \quad \text{50}$$

$$\text{11 дес.} - \text{6 дес.} = \square \text{ дес.}$$



$$390 + 230 = (300 + 200) + (90 + 30) = 500 + 120 = 620$$



$$280 + 360$$



$$200 + 300 = 500$$

$$80 + 60 = \square$$

$$500 + \square = \square$$

Привезли — 8 ящ., по 7 кг
Продали — 25 кг
Залишилося — ?

Розв'язання

$$\square \cdot \square = \square \text{ (кг)}$$



дерев


 — $\frac{1}{4}$ усіх дерев


 — $\frac{1}{2}$ кількості


 — ?



Купили

**Ви-
кори-
стали**

**За-
лиши-
лося**



—




КГ



— ?, у

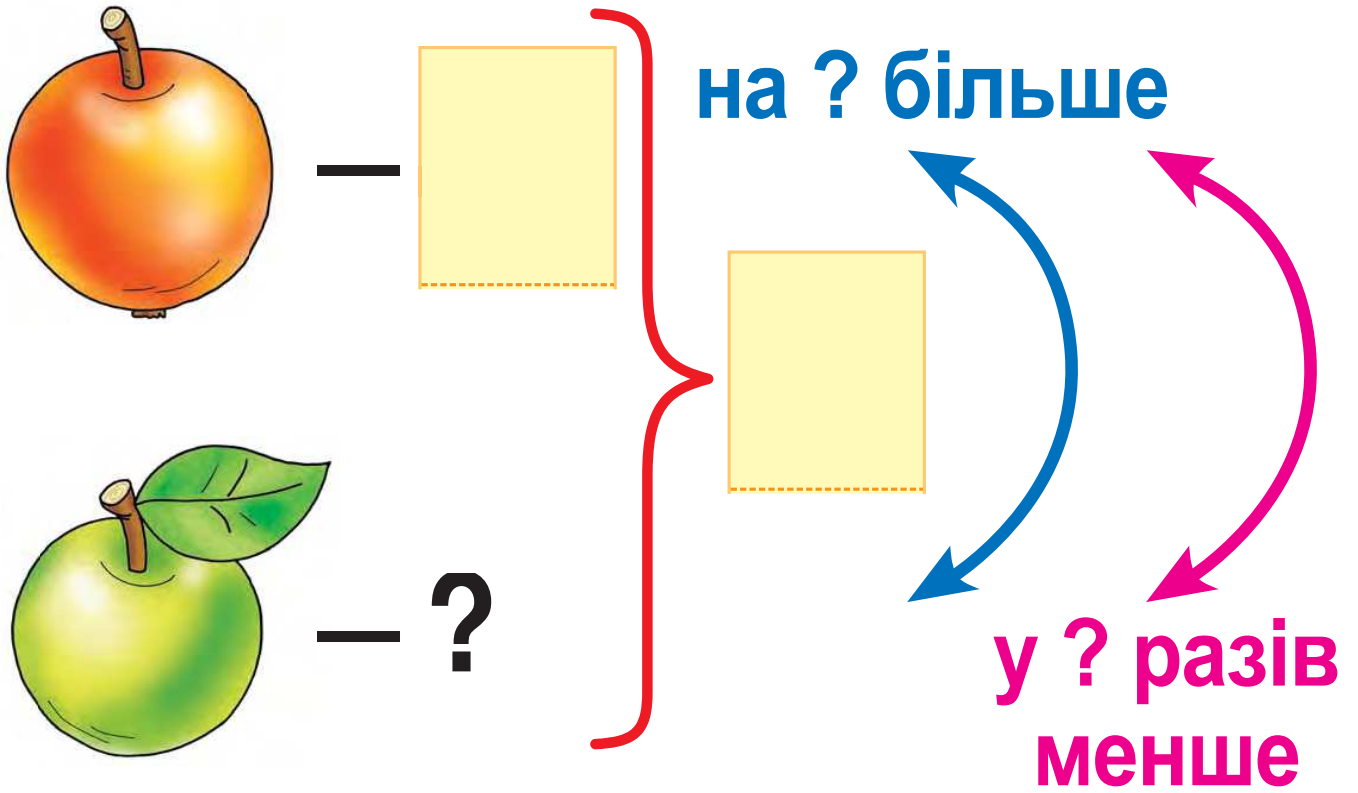






**разів
більше**



 $\frac{1}{2}$

?



Місткість банки	Кількість банок	Кількість соку
 <p>л</p>		 <p>л</p>
 <p>л</p>	<p>?</p>	