


1 Вибери правильну відповідь.

На Місяці

На Місяці немає повітря. Тому люди, які потрапили на цю планету, змушені ходити в спеціальних важких скафандрах, а повітря для дихання носити з собою.



Чи є повітря на Місяці?

Так

Ні

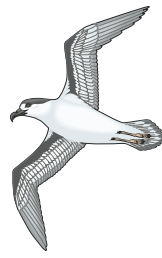
2 З'єднай стрілочкою кожне слово з відповідним малюнком за зразком.



Орел



Синичка

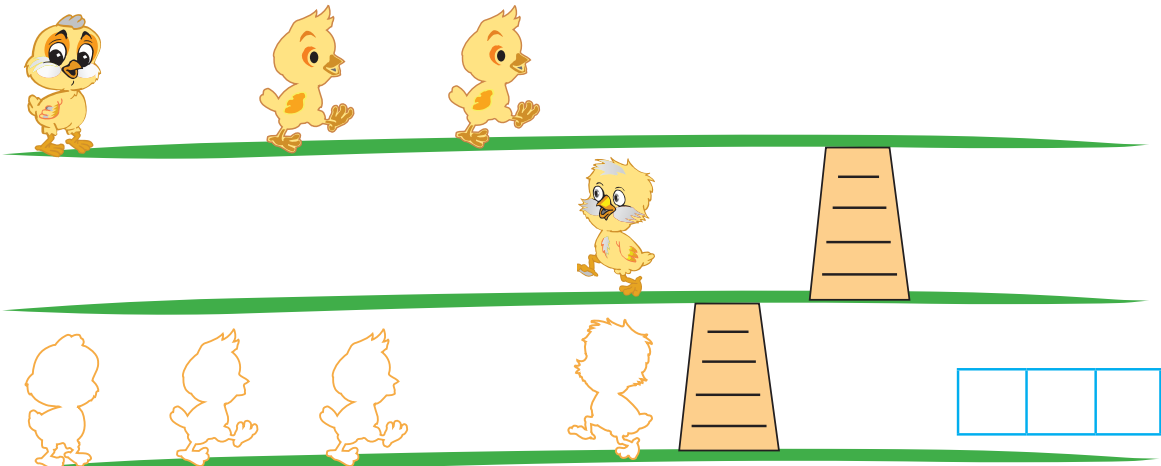


Ластівка

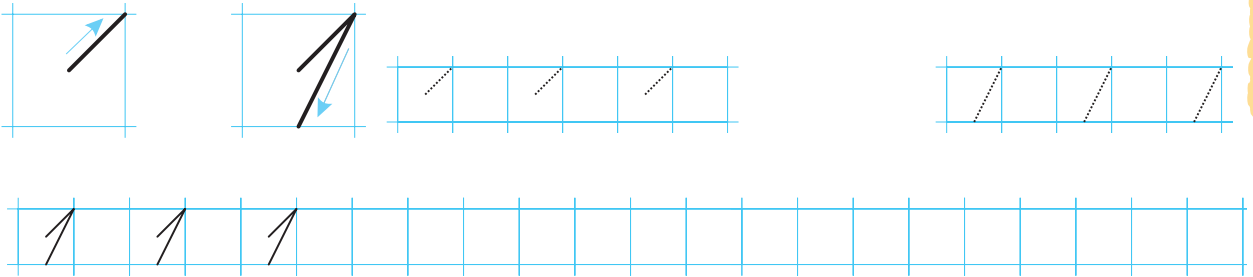


Чайка

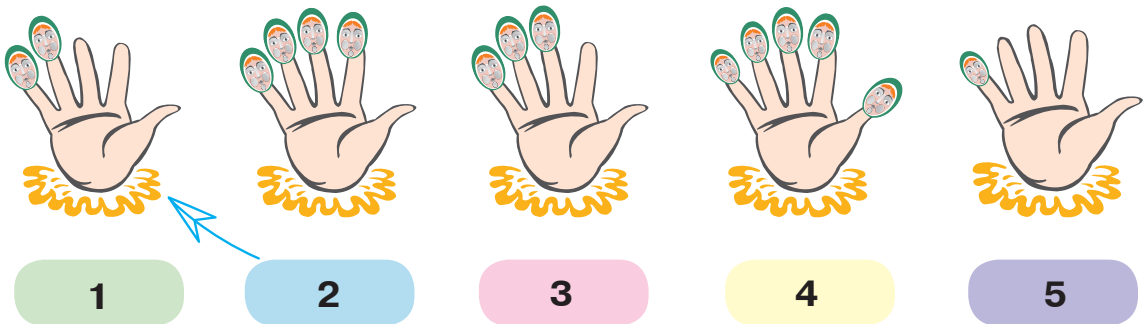
3 Чи вистачить місця, щоб пересадити усіх курчат з двох верхніх сідал на нижнє?



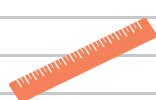


4 Цифра **один** складається з двох елементів. Напиши цю цифру.



5 На пальці наділи кульки. З'єднай кожну руку з відповідним числом за зразком.

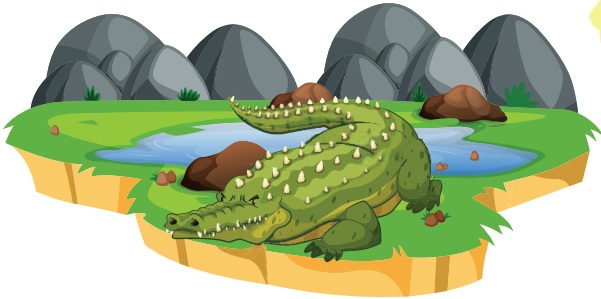


6 Мавпочка збирається подолати весь шлях від пеньочка з числом 1 до пеньочка з числом 5. Допоможи їй, позначивши цей шлях стрілочками від найменшого до найбільшого числа.



1 Вибери правильну відповідь.

Ти їси три-чотири рази на день. А крокодил — лише раз на тиждень. Якщо ж обід був особливо ситним, то й місяць після цього йому не хочеться їсти. Він лежить собі на міліні, гріється на сонечку, доки знову не зголодніє. А тоді виходить на полювання.



Хто їсть частіше — людина чи крокодил?

- Людина.
 Крокодил.
 Однакову кількість разів.

2 З'єднай стрілочкою кожне слово з відповідним малюнком.



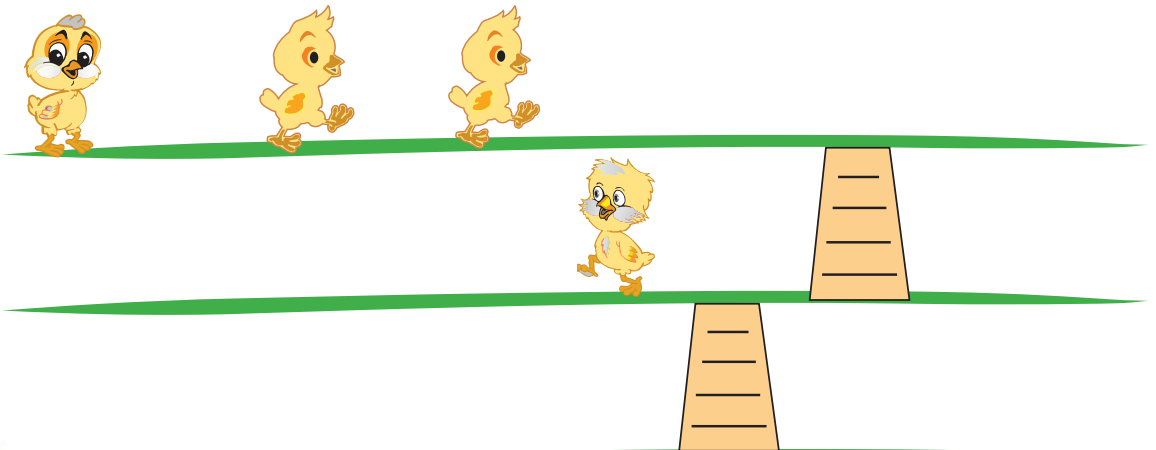
Яблуко

Цибуля

Груша

Перець


3 Усі курчатка хочуть перейти з двох верхніх сідал на нижнє. Познач трикутними прапорцями місця для них.



4



4 Цифра **два** складається з двох елементів. Напиши цю цифру.




5 Обведи число, яке не відповідає кількості кульок на жодній руці.



- 1
- 2
- 3
- 4
- 5

6 Мавпочка збирається подолати весь шлях від пеньочка з числом 5 до пеньочка з числом 1. Допоможи їй, позначивши цей шлях стрілочками від найбільшого до найменшого числа.



7

