


**Натисніть тут, щоб
купити книгу на сайті
або замовляйте за телефоном:
(0352) 51-97-97, (067) 350-18-70,
(066) 727-17-62**

Правила гри

- Лічилкою або жеребкуванням гравці встановлюють черговість виконання ходів.
 - Домовляються, яку кількість ходів будуть виконувати (10-15-21) та скільки часу можна витратити на розв'язування задачі (1-2-5 хв).
 - *Перший учасник* відкриває книгу на довільній ігровій сторінці, а *другий* вказує йому, за якого футболіста грати («Плюс» або «Мінус»). Числа на м'ячі біля вказаного уявного футболіста означають номер сторінки та задачі, яку розв'язує гравець, а числа біля обраної відповіді – номер результату. Якщо гравець правильно розв'яже задачу, то «заб'є гол»; якщо ж він помилиться, то знайде напис «Мазило!!!». На цьому перший хід першого гравця завершено.
 - З цієї сторінки у гру вступає *другий учасник*. *Перший гравець* вказує йому, за якого футболіста треба грати.
 - *Другий учасник* розв'язує задачу, обирає відповідь і зачитує результат: «Гол!!!» або «Мазило!!!».
 - Далі до гри долучається *наступний учасник*, починаючи зі сторінки, на якій завершив свій хід *другий гравець*.
 - *Перемагає той*, хто заб'є більше голів за визначену кількість ходів. У випадку нічиєї, можна виконувати додаткові ходи до тих пір, поки хтось із гравців не помилиться. Якщо учасників гри *багато*, їх можна розбити *на пари*. Переможці пар утворюють нові пари.
- За такою *кубковою системою* можна визначити чемпіона.


Нехай щастить!



У класі було 12 хлопчиків і 14 дівчаток. Після перерви в клас увійшло двоє вчителів. Скільки всього осіб стало в класі?



«ПЛЮС»

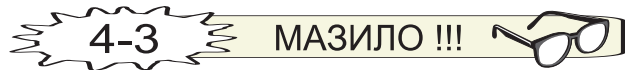



Із мінерального джерела наповнили водою 53 пляшки і для перевезення упаковали їх в поліетилен по 6 пляшок. Скільки упаковок мінеральної води отримали? Скільки пляшок залишилося без упаковки?



РЕЗУЛЬТАТ

«МІНУС»





На озері вудило рибу 26 рибалок. Підійшла ще одна компанія, і на озері стало 38 рибалок. Скільки рибалок підійшло?



«ПЛЮС»

РЕЗУЛЬТАТ



Висота телевізійної вежі 369 м. Щодня малярі фарбують 9 м вежі. Через скільки днів вони закінчать роботу?



«МІНУС»



ГОЛ !!!



МАЗИЛО !!!





Машина «швидкої допомоги» отримувала протягом 5 робочих днів по 9 викликів щодня, а протягом 2 вихідних — по 14 викликів. Скільки викликів отримала машина «швидкої допомоги» протягом тижня?



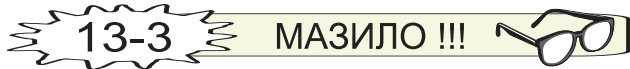
«ПЛЮС»




У геологів є 35 звичайних літаків, а гідролітаків — у 5 разів менше. Скільки всього літаків у геологів?



«МІНУС»



31-1



У коробці було 100 лампочок.
Кожну п'яту лампочку вкрутили
в люстру. Скільки лампочок
залишилося в коробці?


75 лампочок ²²⁻⁴

80 лампочок ²¹⁻⁴

6-2

«ПЛЮС»

31-2



Старовинну скриньку прикрашало 250 діамантів, смарагдів було у 4 рази більше, ніж діамантів, а рубінів — стільки, скільки діамантів і смарагдів разом. Скільки всього коштовних каменів прикрашали скриньку?

2250 каменів ²³⁻⁴

2500 каменів ²⁰⁻⁴

7-1

РЕЗУЛЬТАТ

«МІНУС»

31-4

ГОЛ !!!



31-3

МАЗИЛО !!!

