

**Натисніть тут, щоб
купити книгу на сайті
або замовляйте за телефоном:
(0352) 51-97-97, (067) 350-18-70,
(066) 727-17-62**

О.М. Тітченко, І.П. Васильків, Л.Л. Гулик

МАТЕМАТИКА

1 ПЕРШИЙ ВАРІАНТ


Діагностичні роботи

уч _____ 3 _____ класу


*Схвалено для використання у загальноосвітніх навчальних закладах комісією
з педагогіки та методики початкового навчання
Науково-методичної ради з питань освіти
Міністерства освіти і науки України
(лист ІМЗО від 06.09.2017 р. № 21.1/12-Г-639)*



ТЕРНОПІЛЬ
НАВЧАЛЬНА КНИГА – БОГДАН



5. Накресли квадрат зі стороною завдовжки 3 см. Знайди його периметр.



6*. Розстав дужки, щоб утворилася правильна рівність.

$$24 - 12 : 2 + 14 = 4$$

Робота над помилками

A large grid of graph paper, consisting of 20 columns and 25 rows of small squares, intended for writing answers to the task.

Дата

1. Обчисли.

$600 + 200$

$300 + 90$

$940 - 400$

2. Знайди значення виразу.


$4 \text{ м } 2 \text{ дм} + 8 \text{ дм} = \square \text{ м}$

3. Знайди значення виразу $700 + a$, якщо $a = 42$.

4. Розв'яжи задачу.

Школярі зібрали 4 ящики яблук, по 9 кг у кожному, і 6 ящиків груш, по 7 кг у кожному. Скільки кілограмів фруктів зібрали школярі?

5. Знайди довжину сторони квадрата, периметр якого дорівнює 16 см. Накресли такий квадрат.



6*. Розв'яжи задачу.

За 15 хв Оленка ліпить 25 вареників. Скільки вареників зліпить дівчинка за півгодини, якщо працюватиме з такою ж продуктивністю?

