



1. Обчисли.

$49 - 1 - 48 = \square$

$76 - 6 + 1 = \square \square$

$24 - 24 + 1 = \square$

$39 - 10 + 1 = \square \square$

2. Розв'яжи задачу.

У першому мотку було 25 м дроту, у другому — на 10 м більше, ніж у першому, а в третьому — на 1 м менше, ніж у другому. Скільки метрів дроту було в третьому мотку?

Відповідь:

3. Кожне з чисел 28, 16, 41, 55 записати у вигляді суми розрядних доданків.



1. Обчисли.

$66 + 15 = \square \square$

$32 - 16 = \square \square$

$25 + 27 = \square \square$

$43 - 27 = \square \square$

3. Було — ?, на 26 пт. м.
Прилетіло — 44 пт.

Відповідь:

До с. 10–11



1. Порівняй ($>$, $<$, $=$).

$$40 - 9 \square 40 + 1$$

$$22 + 8 \square 17 + 3$$

$$50 - 3 \square 50 - 30$$

$$63 + 7 \square 45 + 5$$

2. Розв'яжи задачу.

У кошик поклали 16 яблук, 4 груші, а слив стільки, скільки яблук і груш разом. Скільки всього фруктів поклали в кошик?

Відповідь:

3. Устав пропущені числа.

$$52 \text{ см} = \square \text{ дм } \square \text{ см}$$

$$4 \text{ дм } 8 \text{ см} = \square \square \text{ см}$$

$$3 \text{ м} = \square \square \square \text{ см}$$

$$3 \text{ м} = \square \square \text{ дм}$$

До с. 12–13



1. Обчисли.

$$28 + 39 = \square \square$$

$$71 - 38 = \square \square$$

$$34 + 56 = \square \square$$

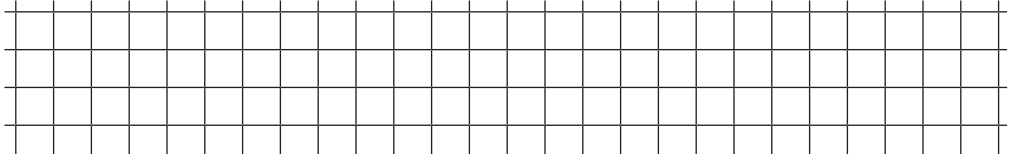
$$83 - 15 = \square \square$$

$$28 + 6 = \square \square$$

$$45 - 8 = \square \square$$


2. Розв’яжи задачу.

Господар посадив 19 яблунь, а вишень — на 5 більше. Скільки вишень посадив господар? Скільки всього дерев посадив господар?



Відповідь:

3. Накресли один відрізок завдовжки 7 см, а другий — на 5 см довший.



До с. 14–15



1. Обчисли зручним способом.

$$38 + (5 + 2) = \square\square$$

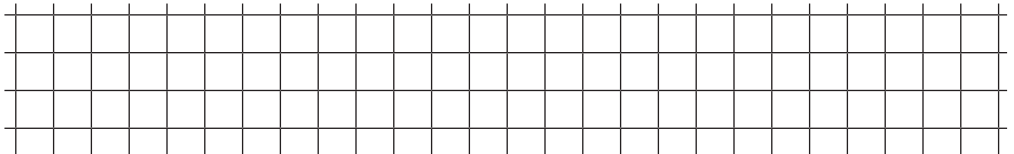
$$71 + (5 + 9) = \square\square$$

$$34 + (6 + 8) = \square\square$$

$$65 + (4 + 7) = \square\square$$

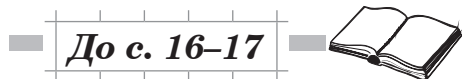

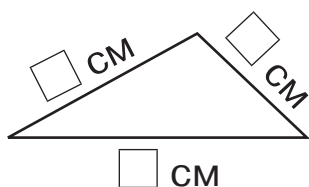
2. Розв’яжи задачу.

Ведмідь зловив 12 рибин, вовк — на 4 рибини менше, ніж ведмідь, а лисиця зловила стільки рибин, скільки ведмідь і вовк разом. Скільки рибин зловила лисиця?



Відповідь:

3. Виміряй довжини сторін даного трикутника. Знайди його периметр.




1. Знайди значення виразу.

$$42 - (56 : 7 : 4) + 12 = \square \square$$



2. Розв'яжи задачу.

24 кг картоплі розклали в однакові сітки, по 4 кг в кожну. Три таких сітки продали. Скільки сіток картоплі залишилося?



3. Різниця довжин двох відрізків дорівнює 9 см. Накресли менший із відрізків, якщо довжина більшого відрізка становить 11 см.

