

**Натисніть тут, щоб
купити книгу на сайті
або замовляйте за телефоном:
(0352) 51-97-97, (067) 350-18-70,
(066) 727-17-62**

Додавання і віднімання чисел в межах 10

1. $1 + 2 = 3$.



2. $2 + 2 + 3 = 7$.

$7 + 2 - 4 = 5$.

$3 + 6 - 5 = 4$.

$9 - 5 - 3 = 1$.

$8 - 3 + 1 = 6$.

$6 - 4 + 1 = 3$.

3. Братові 9 років, а сестра на 2 роки молодша. Скільки років сестрі?


.

Відповідь: _____

4.



— 5 років



— 8 років



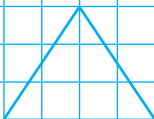
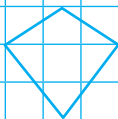


на скільки років старший?

.

Відповідь: _____

5. Зафарбуй трикутники зеленим кольором, а чотирикутники — жовтим.



Додавання і віднімання чисел по 1 та частинами

1. $2 + 3 = 2 + 3 = .$



2. $3 + 1 + 1 = .$ $3 + 2 = .$

$4 - 1 - 1 = .$ $4 - 2 = .$

$6 + 1 + 1 = .$ $6 + 2 = .$

3. Порівняй ($>$, $<$, $=$).

$2 + 6 \square 2 + 3 + 3$

$3 + 1 \square 3 + 3 + 2$

$10 - 3 \square 10 - 2 - 2$

$9 - 3 \square 9 - 1 - 1 - 1$

4. Різним рибкам потрібна різна кількість води для життя. Скільки рибок кожного виду можна поселити в акваріумі?



1 л



2 л



3 л



5 л

5. Накресли відрізок, довжина якого дорівнює сумі довжин даних відрізків.



Переставна властивість додавання

1. 1 2 3 1 2 3 .



2. Виконай за зразком.

$4 + 3 + 2 = 9$

$6 + 1 + 2 = .$

$3 + 4 + 2 = 9$

.


$2 + 4 + 3 = 9$

.

3. У глечик можна влити 5 склянок молока, а в пляшку — 2 склянки. Скільки склянок молока потрібно взяти, щоб наповнити глечик і пляшку?

Відповідь:

4.



Відповідь:

Відповідь:

5.

| | | | | | | | | | |
|---------|---|---|---|---|---|---|---|---|---|
| Доданок | 6 | 1 | 2 | 3 | 6 | 7 | 4 | 1 | 5 |
| Доданок | 3 | 4 | 5 | 2 | 1 | 2 | 4 | 8 | 4 |
| Сума | . | . | . | . | . | . | . | . | . |

1. $3 + 4 = 3 + 4 = .$



2. $3 + 2 + 1 = .$

$7 + 3 = .$

$9 - 5 = .$

$3 + 3 + 2 = .$

$2 + 8 = .$

$8 - 3 = .$

$5 + 1 + 4 = .$

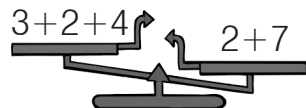
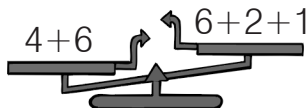
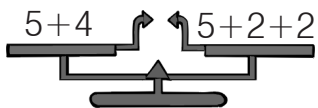
$1 + 9 = .$

$7 - 4 = .$

3. У шкільний коридор виходить 8 дверей. 5 із них відчинені. Скільки дверей зачинено?

Відповідь: _____

4. Підкресли терези, які показують правильно. _____



5. Домалюй потрібну фігуру.


| | | | |
|--|--|--|--|
| | | | |
| | | | |
| | | | |

Десяток

1. 5 6 5 6 .



2. 1 2 . 4 . . 7 . . 10



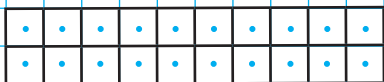
4. У білочки було 8 грибів. Їжачок подарував їй ще 2 гриби. Скільки грибів стало у білочки?

Відповідь: _____

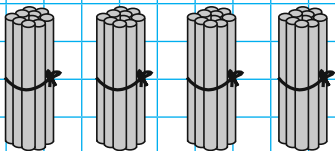
5. Виконай за зразком.



дес.



дес.



дес.

1. 7 8 7 8 .



2. Виконай за зразком.

Одинадцять — 1 дес. 1 од.

Вісімнадцять — дес. од.

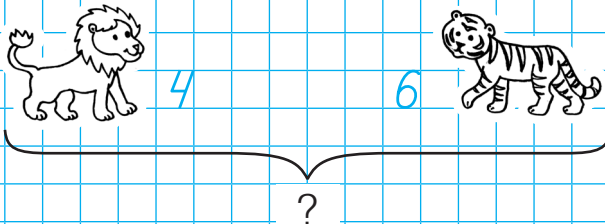
П'ятнадцять — дес. од.

Двадцять — дес. од.

3. Один цирковий силач підняв одночасно 10 гир, а другий — 8 гир. Який силач підняв більше гир? На скільки більше?

Відповідь:

4.



Відповідь: