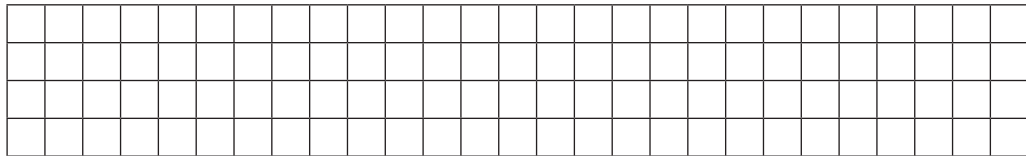


№1

I відрізок – 8 см, він на 2 см коротший, ніж II.
II – ?

Накресли ці два відрізки.

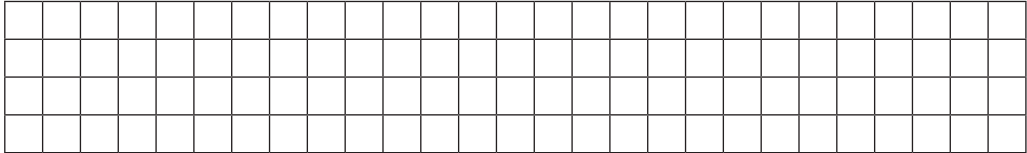


№2

I відрізок – ?

II – 9 см, він на 3 см довший, ніж I.


Накресли ці два відрізки.



I відрізок – 5 см

II – ?, на 4 см коротший, ніж I.

Накресли ці два відрізки.

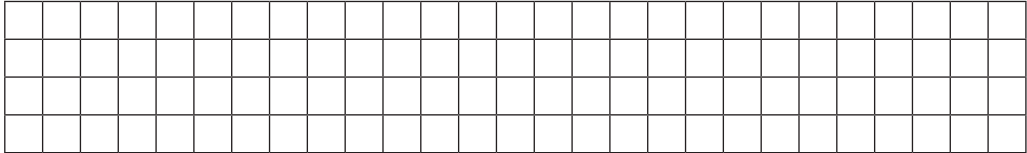


№4

I відрізок – 8 см

II – ?, на 2 см довший, ніж I.


Накресли ці два відрізки.



№5

I відрізок – 5 см, а II – 4 см. На скільки сантиметрів довжина першого відрізка більша від другого?

Накресли ці два відрізки.



№6

I відрізок – 6 см, II – 9 см. На скільки сантиметрів довжина другого відрізка менша за довжину першого?

Накресли ці два відрізки.

