

**Натисніть тут, щоб
купити книгу на сайті
або замовляйте за телефоном:
(0352) 51-97-97, (067) 350-18-70,
(066) 727-17-62**

Нова  українська школа

Н.О. Будна

МАТЕМАТИКА

1 ПЕРШИЙ ВАРІАНТ

ЗОШИТ

для контрольних робіт

уч _____ 2 _____ класу



ТЕРНОПІЛЬ
НАВЧАЛЬНА КНИГА – БОГДАН

Дата

1. Першого дня Оленка прочитала 24 сторінки книжки, другого — на 3 сторінки більше. Скільки сторінок прочитала Оленка другого дня?

2. Обчислити.

$48 - 12$

$78 - 30$

$65 + 2 + 20$

$57 + 20$

$83 + 7$


$49 - 5 - 30$

3. Поставити знаки $>$, $<$ чи $=$.


$60 - 10 \dots 60 + 10$

$80 - 20 \dots 50 + 10$

4. Накреслити два відрізки: перший завдовжки 1 дм 1 см, а другий — на 2 см коротший.




Бали (рівень навчальних досягнень)



A large grid of graph paper, consisting of 20 columns and 30 rows of small squares, intended for calculations or drawing.

Додаткові завдання



Аналіз контрольної роботи

