


**Натисніть тут, щоб
купити книгу на сайті
або замовляйте за телефоном:
(0352) 51-97-97, (067) 350-18-70,
(066) 727-17-62**



Однієї банки фарби вистачає, щоб пофарбувати 3 катери. Скільки катерів можна пофарбувати, маючи 8 банок фарби?



«ПЛЮС»

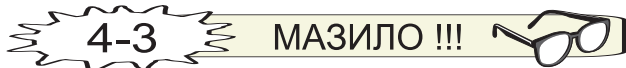


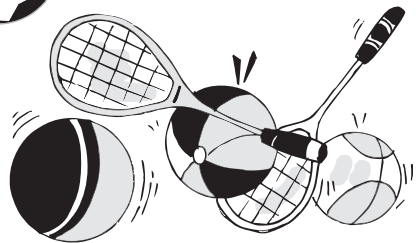
На полиці магазину стоїть 12 чайників: 3 чайники для кип'ятіння води, а решта — для заварювання чаю. Скільки чайників для заварювання чаю є в магазині?



РЕЗУЛЬТАТ

«МІНУС»





Купили 6 м'ячів, по 3 грн кожен, і 2 ракетки, по 7 грн кожна. Скільки гривень коштувала вся покупка?



«ПЛЮС»

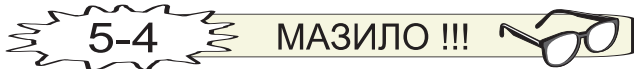
РЕЗУЛЬТАТ




На клумбі було 9 квіток. Коли розцвіло ще декілька, то на клумбі стало 12 квіток. Скільки квіток розцвіло?



«МІНУС»



17-1



Одного дня бригада шляховиків проклала 28 м дороги, а другого — в 4 рази менше. На скільки менше метрів дороги проклали шляховики другого дня?

на 20 м $31-3$

на 21 м $30-3$

«ПЛЮС»

РЕЗУЛЬТАТ

17-2



У спортивних змаганнях взяло участь 47 бігунів і 32 тенісисти. Троє спортсменів отримали призи. Скільки спортсменів призів не отримали?

66 спортсменів $5-4$

76 спортсменів $4-4$

«МІНУС»

25-2

24-2

17-3

ГОЛ !!!




17-4

МАЗИЛО !!!



31-1



В ящику вміщується 9 пачок соку. Скільки пачок соку вміщується у 6 таких ящиків?

63 пачки $17-4$ 54 пачки $16-4$

11-2

«ПЛЮС»

31-4

ГОЛ !!!



31-2



У 4 портфелях лежало по 6 книжок. Усі книжки переклали в інші портфелі, але по 3 книжки в кожний. Скільки портфелів довелося додати до тих, що були спочатку?

6 портфелів $18-3$ 4 портфелі $19-3$

10-1

РЕЗУЛЬТАТ

«МІНУС»

31-3

МАЗИЛО !!!

