

ПОВТОРЕННЯ ВИВЧЕНОГО ЗА 2 КЛАС. СОТНЯ

До с. 4–6 (№ 1–12)



1. Допиши пропущені числа.


48, . . . , . . . , 51, 52, . . . , 54, . . .

2. Обчисли. Обведи найменший результат.

$56 - 6 = \square\square \quad 56 + 1 = \square\square \quad 56 - 10 + 1 = \square\square$

$56 - 50 = \square \quad 56 - 1 = \square\square \quad 56 - 1 + 5 = \square\square$

3. На галявині росло 40 ромашок, 50 квіток конюшини білого кольору і 30 — рожевого. На скільки менше росло на галявині ромашок, ніж квіток конюшини?



До с. 6–8 (№ 13–25)



1. $58 = 50 + 8$ $36 = \square\square + \square$ $74 = \square\square + \square$

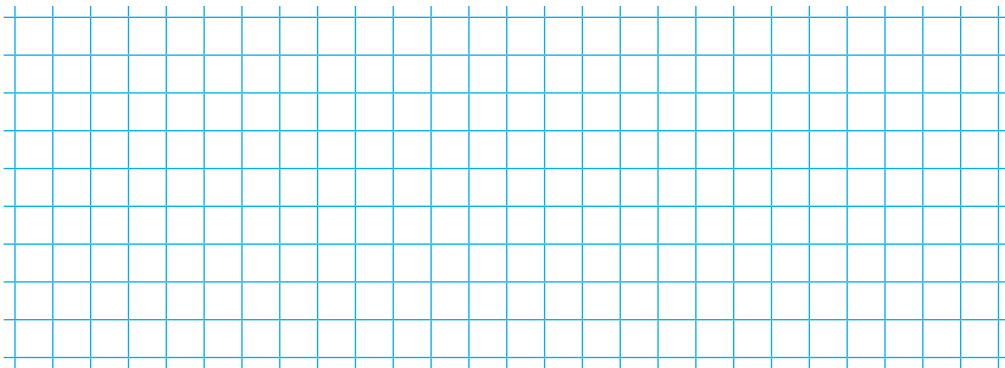
2. Обчисли. Обведи найбільший результат.

$52 + 14 = \square\square \quad 54 - 11 + 7 = \square\square$

$87 - 32 = \square\square \quad 54 - 14 + 7 = \square\square$

$39 - 9 - 5 = \square\square \quad 45 + 15 - 20 = \square\square$

3. На яблуні виросло 30 яблук, а на кожній із двох груш — по 8 грушок. Скільки всього плодів виросло на трьох деревах?

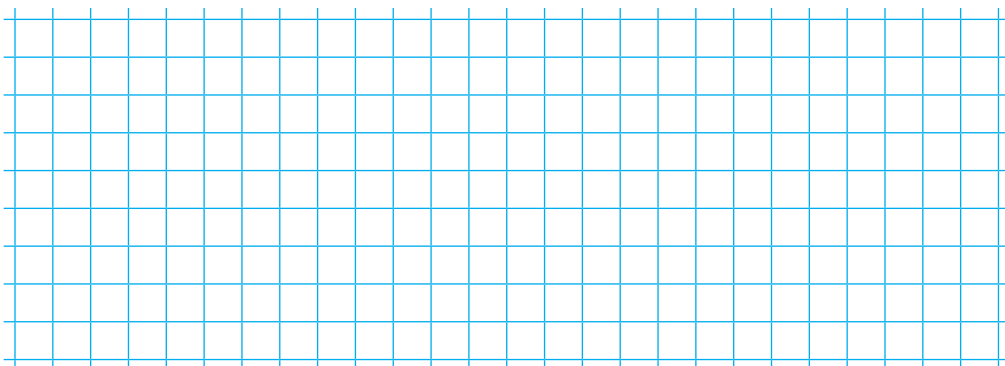


До с. 8–9 (№ 26–38)



1. $58 + 14 = \square\square$ Перевірка. $\square\square - 58 = \square\square$
 $\square\square - 14 = \square\square$

2. Майстриня мала пришити 54 гудзики. За дві години вона пришила по 9 гудзиків за годину. Скільки гудзиків залишилося пришити майстрині?




3. Сума крапочок на протилежних гранях кубика дорівнює 7. Скільки крапочок “потрапить” на порожні клітинки, коли кубик покотиться вперед? Намалюй їх.





1. $x + 18 = 25$

$46 + x = 95$



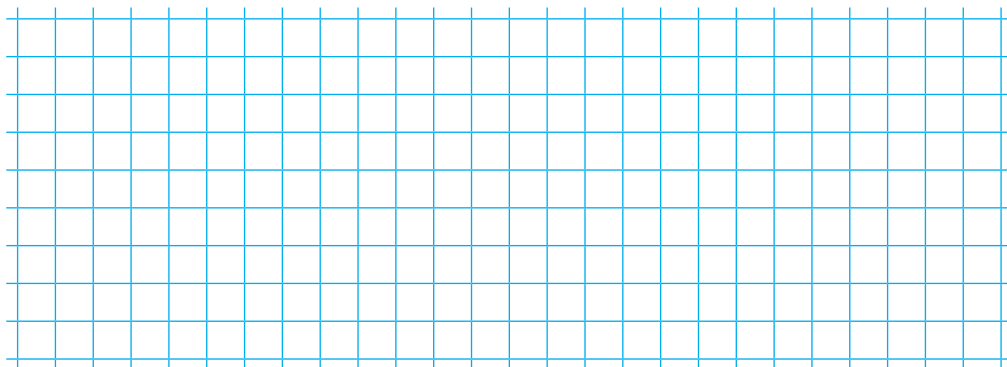
2. В акваріумі плавало 25 гупі, 6 скалярій і 9 вуалехвостих рибок. На скільки менше плавало в акваріумі вуалехвостих рибок, ніж гупі і скалярій разом?

Склади і розв'яжи обернену задачу.

Гупі — 25 р.

Скалярій — 6 р.

Вуалехвостих — ?, на 22 р. менше, ніж



1. Обчисли. Підкресли рівності, в яких останньою є дія віднімання.

$21 + 25 + 26 = \square\square$

$18 + (65 - 14) = \square\square$


$28 - 24 + 35 = \square\square$

$26 + (12 + 45) = \square\square$


$32 + 45 - 21 = \square\square$

$45 - (14 + 16) = \square\square$

2. До годівниці прилетіло 15 синиць, а сорок — на 9 менше. Скільки всього птахів прилетіло до годівниці?



3. Знайди периметр прямокутника, довжина сторін якого 4 см і 9 см.



До с. 12–13 (№ 58–65)



1. Обчисли. Підкресли рівність з найбільшим першим доданком.

$7 + 5 = \square\square$

$6 + 7 = \square\square$

$16 - 8 = \square$

$8 + 3 = \square\square$

$9 + 3 = \square\square$

$18 - 9 = \square$

$11 - 5 = \square$

$13 - 7 = \square$

2. Продовж запитання і розв'яжи задачу.

Дорожній коток мав заасфальтувати 80 м доріжки. Першого дня він заасфальтував 35 м, а другого — 26 м. Скільки метрів доріжки

