

**Натисніть тут, щоб
купити книгу на сайті
або замовляйте за телефоном:
(0352) 51-97-97, (067) 350-18-70,
(066) 727-17-62**

Повторюємо вивчене за 2 клас (комбінована)

Дата

1. Розв'яжи задачу.

Уранці на пошту привезли 38 посилок, удень — 12 посилок, а ввечері — 15. Скільки всього посилок привезли на пошту за весь день?

2. Обчисли зручним способом.

$$38 + 20 + 2 = \square\square \quad 8 + 1 + 32 = \square\square \quad 12 + 29 + 8 = \square\square$$

3. Виконай дії.

$$5 + 50 - 45 : 5 = \square\square$$

4. Порівняй ($>$, $<$, $=$).


$3 \text{ см} \square 3 \text{ дм}$

$86 \text{ см} \square 68 \text{ см}$

$2 \text{ дм} \square 20 \text{ см}$

$1 \text{ ц} \square 1 \text{ кг}$


5. Знайди значення виразу $90 - (a - 32)$, якщо $a = 60$.




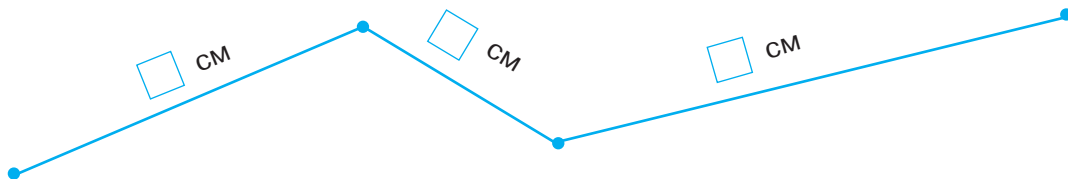
6. Обчисли з перевіркою.

$56 + 39 = \square \square$


$66 - 27 = \square \square$




7. Вимірй довжину кожної ланки ламаної. Обчисли загальну довжину ламаної.



8*. У класі 15 дівчаток, їх на 7 більше, ніж хлопчиків. Скільки учнів у класі?



Аналіз діагностичної роботи




Повторюємо множення і ділення чисел (2–6) (комбінована)

Дата

1. Розв'яжи задачу.


Посадили 8 рядів яблунь, по 4 саджанці в кожному, і 35 саджанців груш. Скільки всього саджанців посадили?



2. Обчисли.

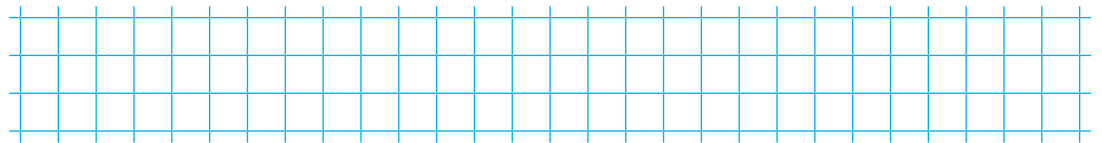
$54 : 6 + 9 \cdot 5 = \square \square$

$(63 - 9) : 6 = \square \square$

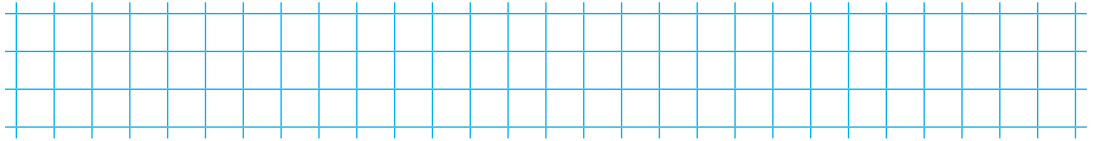


3. Виконай дії.

$30 - 24 : 6 : 2 = \square \square$



4. Знайди значення виразу $a + a \cdot 4$, якщо $a = 9$.



5. Порівняй ($>$, $<$, $=$).

5 м 30 см 5 м 3 см

3 ц 100 кг

5 дм 3 см 35 см

7 кг 7 ц

6. Устав пропущені числа.


40 см = дм

74 дм = дм см

1 дм = см

58 см = дм см

7. Накресли прямокутник зі сторонами 1 см і 4 см. Обчисли його периметр.



8*. Розстав дужки так, щоб утворилась правильна рівність.

$$32 - 12 : 2 + 24 = 2$$

