

Натисніть тут щоб

купити книгу на сайті

або

замовляйте по телефону:

(0352) 28-74-89, 51-11-41

(067) 350-18-70

(066) 727-17-62

Н.О. Будна, Н.Б. Шост


ЗОШУТ З МАТЕМАТИКИ

№ 1

1 клас

Четверте видання, перероблене та доповнене

*Схвалено для використання у загальноосвітніх навчальних закладах
комісією з педагогіки та методики початкового навчання
Науково-методичної ради з питань освіти
Міністерства освіти і науки, молоді та спорту України*



ТЕРНОПІЛЬ
НАВЧАЛЬНА КНИГА – БОГДАН

УДК 51(075.2)

ББК 22.1я71

Б90

Рецензенти:

М. В. Козак — кандидат педагогічних наук, доцент;

Н. Я. Походжай — учитель вищої категорії, старший учитель.

Схвалено для використання у загальноосвітніх навчальних закладах комісією з педагогіки та методики початкового навчання Науково-методичної ради з питань освіти Міністерства освіти і науки, молоді та спорту України (Лист №1.4/18-Г-529 від 22.12.2009 р.)

Будна Н.О.

Б90 Зошит з математики №1 : 1 клас / Н.О. Будна, Н.Б. Шост. — 4-те вид., переробл. та доповн. — Тернопіль : Навчальна книга – Богдан, 2012. — 64 с.

ISBN 978-966-10-2984-1

Зошит з математики для 1 класу містить навчальний матеріал, який відповідає новій програмі Міністерства освіти і науки, молоді та спорту України, Державному стандарту початкової загальної освіти та підручнику «Математика. 1 клас» (автори Богданович М.В., Лищенко Г.П.).

Матеріал до кожного уроку подано на одній сторінці. Під рубрикою «Перевір себе» містяться завдання для самостійної роботи і тести у двох варіантах.

У кутику кожної сторінки є значок  для оцінювання результатів роботи учня.

Домалювавши сонечкові «ротик», учитель і учень зможуть оцінити виконане завдання:



чудово;



добре;



спробуй ще.

У зошиті №1 подано матеріал до тем «Властивості предметів. Просторові відношення», «Нумерація чисел від 1 до 10», «Додавання і віднімання чисел в межах 10».

Зошит призначено для учнів 1 класу початкової школи.

УДК 51(075.2)

ББК 22.1я71

Охороняється законом про авторське право. Жодна частина цього видання не може бути відтворена у будь-якому вигляді без дозволу автора чи видавництва.

Навчальне видання

БУДНА Наталя Олександрівна

ШОСТ Наталія Богданівна

Зошит з математики №1

1 клас

Четверте видання, перероблене та доповнене

Головний редактор *Богдан Будний*

Редактор *Грина Чоренька*

Обкладинка *Володимира Басалиги*

Комп'ютерна верстка та художнє оформлення *Любомира Бейгера*

Підписано до друку 16.08.2012. Формат 70x100/16. Папір офсетний. Гарнітура Arial.
Друк офсетний. Умовн. друк. арк. 5,2. Умовн. фарбо-відб. 10,4.

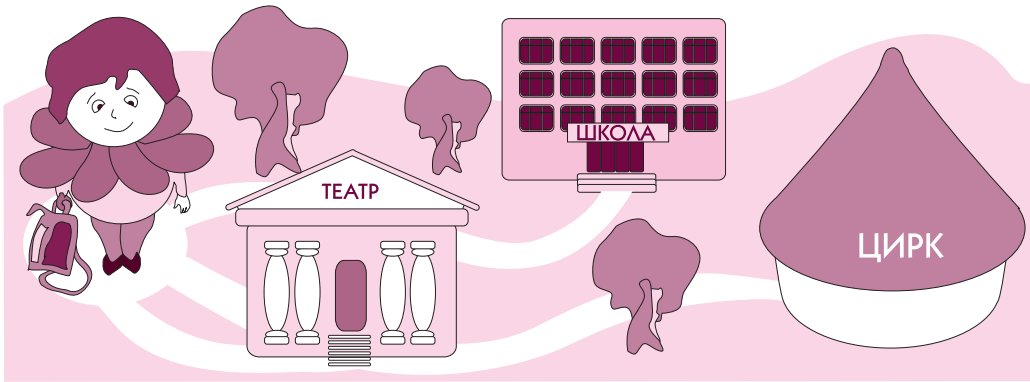
ISBN 978-966-10-2984-1



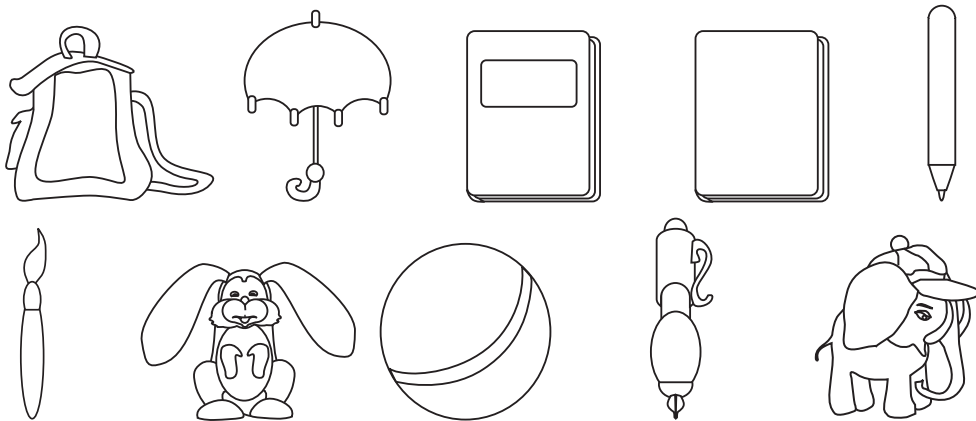
9 789661 029841

© Навчальна книга – Богдан, 2012

1. Допоможи Барвінкові знайти дорогу до школи.
Зафарбуй цю дорогу синім кольором.





2. Розмалюй предмети, які потрібно взяти до школи.




3. Назви зображені фігури.




4.



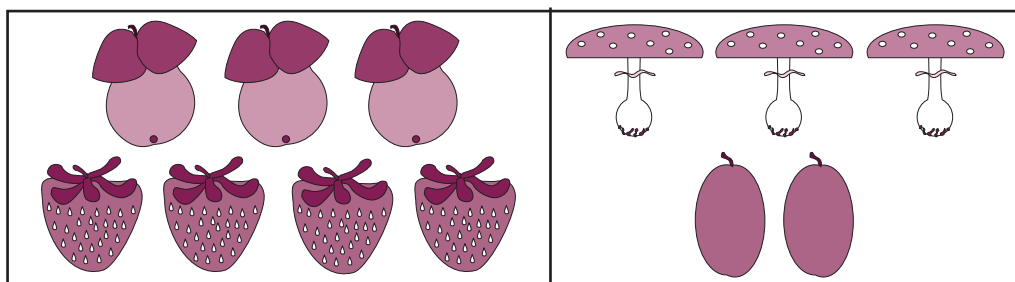
1. Чого менше? Домалюй, щоб стало порівну.




2. Чого більше? Закресли, щоб стало порівну.




3. Чого більше? На скільки більше?



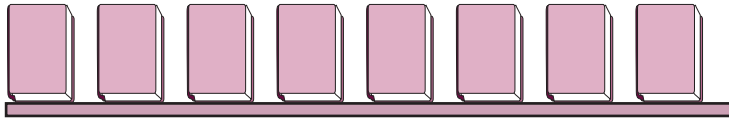
4. Зміни малюнок так, щоб яблук стало більше, ніж груш.



5.




1. Як утворили число 9? Запиши відповідь.



$$8 + 1 = \square$$



2.

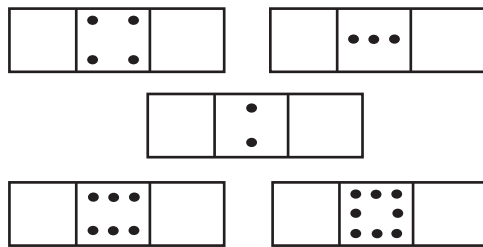


3. Встав числа.


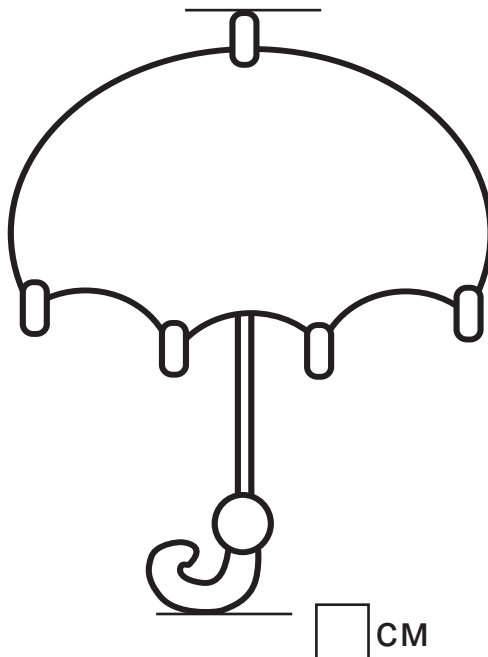
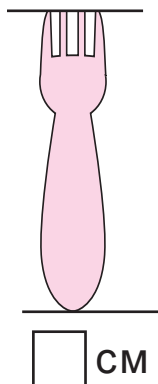
Після	
5	→ 6
7	<input type="checkbox"/>
4	<input type="checkbox"/>
8	<input type="checkbox"/>

Перед	
9	← 8
2	<input type="checkbox"/>
6	<input type="checkbox"/>
8	<input type="checkbox"/>

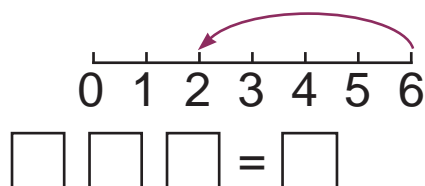
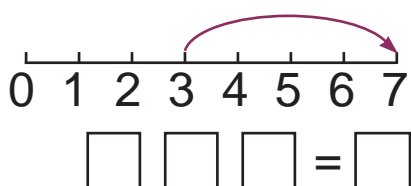
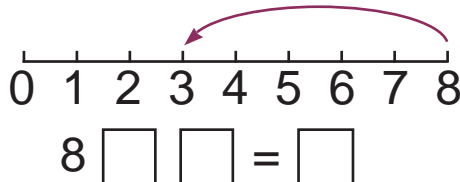
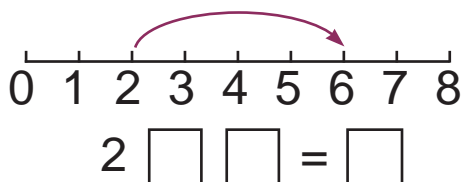
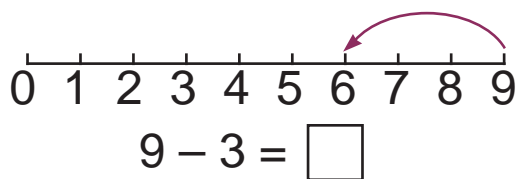
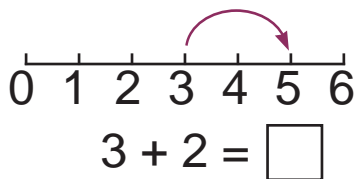
Домалюй «сусідів».



4. Виміряй і запиши.



1. Склади вирази і знайди їх значення.



2. На клумбі росло 8 тюльпанів, а нарцисів — на 2 менше. Скільки нарцисів росло на клумбі?

$\square \square \square = \square$ (____)

Відповідь: \square нарцисів.

3. Порівняй і постав потрібні знаки ($>$, $<$, $=$).

$5 + 2 > 2$

$3 + 1 \square 6$

$8 - 3 \square 5$

4. Допоможи Незнайкові закінчити малюнок. З'єднай точки, починаючи з нуля.



