


СЕРІЯ «ПІДГОТОВКА ДИТИНИ ДО ШКОЛИ»

Н.О. Будна, З.Л. Головко

Розумійко

Вчимося розв'язувати задачі



ТЕРНОПІЛЬ
НАВЧАЛЬНА КНИГА – БОГДАН

УДК 51(075.2)
ББК 22.1я71
Г 61

Серію «Підготовка дитини до школи» засновано в 2000 р.

Будна Н.О.


Б 90 Розумійко : вчимося розв'язувати задачі / Н.О. Будна,
З.Л. Головка. — Тернопіль : Навчальна книга — Богдан,
2012. — 64 с. — (Серія «Підготовка дитини до школи»).

ISBN 978-966-10-1781-7 (серії)

ISBN 978-966-10-3060-1

Посібник «Розумійко. Вчимося розв'язувати задачі» складено відповідно до освітньої лінії «Дитина в сенсорно-пізнавальному світі» Базового компонента дошкільної освіти.

Він містить цікаві завдання та вправи, які допоможуть формувати елементарні математичні уявлення, розвивати увагу, логічне мислення, вміння порівнювати і аналізувати, здійснювати найпростіші обчислення, розв'язувати задачі, а також сприятимуть розвитку дрібної моторики руки дітей старшого дошкільного віку.

У кутику кожної сторінки посібника є значок  для оцінювання результатів роботи учня. Домалювавши сонечкові «ротик», дорослий і дитина зможуть оцінити виконане завдання:



— «чудово»;



— «добре»;



— «спробуй ще».

Для вихователів дошкільних навчальних закладів, батьків, учителів, які готують дітей до школи.

УДК 51(075.2)
ББК 22.1я71

*Охороняється законом про авторське право.
Жодна частина цього видання не може бути відтворена
у будь-якому вигляді без дозволу автора чи видавництва.*

Навчальне видання

Серія «Підготовка дитини до школи»

БУДНА Наталя Олександрівна
ГОЛОВКО Зоя Лук'янівна

Розумійко

Вчимося розв'язувати задачі

*Комп'ютерна верстка та художнє оформлення
Любомира Бейгера*

Підписано до друку 13.08.2012. Формат 70x100/16. Папір офсетний. Гарнітура Аріал.
Друк офсетний. Умовн. друк. арк. 5,2. Умовн. фарбо-відб. 10,4.



ISBN 978-966-10-3060-1



9 789661 030601

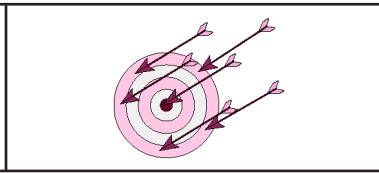
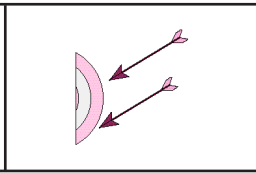
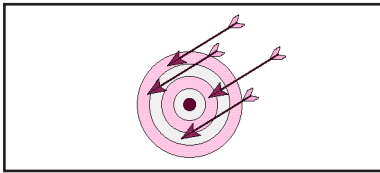
© Навчальна книга — Богдан, 2012

1. На гілці сиділа пташка. До неї прилетіло ще дві. Іванко вважає, що він склав задачу. А ти як гадаєш? Постав питання до задачі. Розв'яжи її.

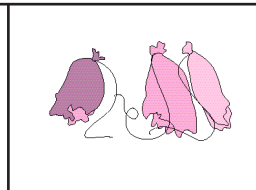
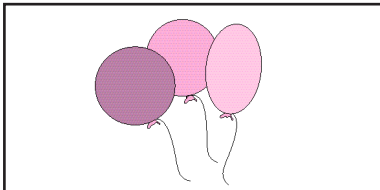


$$\square + \square = \square$$

2. Склади задачі за малюнками. Розв'яжи їх.

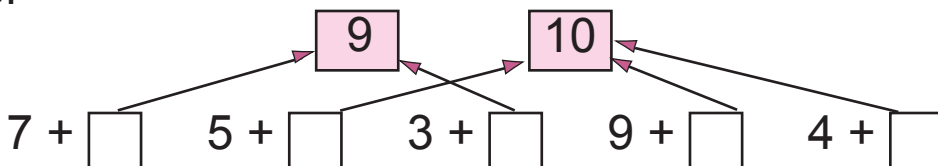


$$\square + \square = \square$$



$$\square - \square = \square$$

3.




4. Знайди довжину ламаної лінії.



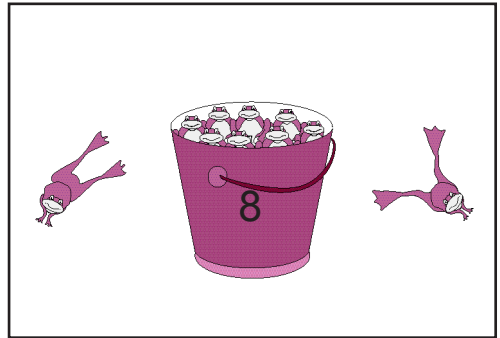
$$\square + \square + \square = \square \text{ (см)}$$



1. Склади задачі за малюнками. Розв'яжи їх.



$$\square + \square = \square$$



$$\square - \square = \square$$

2. Підкресли більше число.

7 і 9

8 і 5

10 і 9

6 і 10

3. Обведи число.

наступне за числом 4

3, 5, 6, 7

попереднє до числа 3

5, 2, 7, 9

4. Постав потрібний знак (>, <).

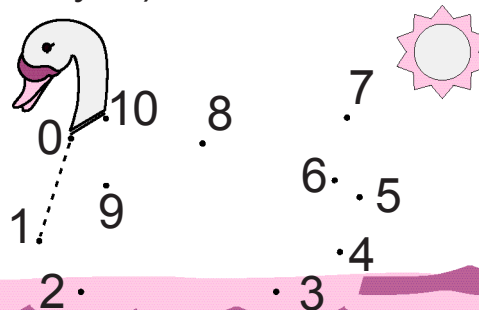
9 > 8

10 8

8 10

5 4

5. Допоможи Незнайкові закінчити малюнок. З'єднай точки (починай з нуля).



1. Андрійко знайшов 4 грибочки, а Петрик — 3.
Скільки грибів знайшли вони разом?

$$\boxed{4} \quad \square \quad \boxed{3} = \square$$

2. Оля мала 6 листівок. 2 листівки вона віддала сестричці. Скільки листівок залишилося в Олі?

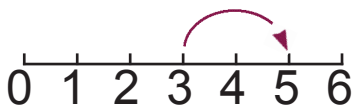


$$\boxed{6} \quad \square \quad \boxed{2} = \square$$

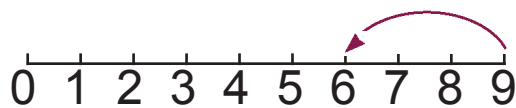
3. Обведи синім кольором найменше число, а червоним — найбільше.

3 5 7 6	4 3 2 1
4 5 6 8	6 7 8 10

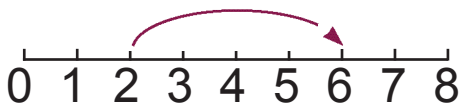
4. Склади і запиши приклади.



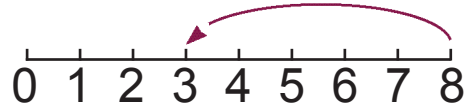
$$3 + 2 =$$



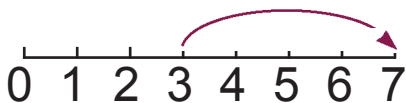
$$9 - 3 =$$



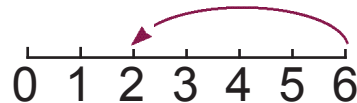
$$\boxed{2} \quad \square \quad \square = \square$$



$$\boxed{8} \quad \square \quad \square = \square$$



$$\square \quad \square \quad \square = \square$$



$$\square \quad \square \quad \square = \square$$

