

**Натисніть тут, щоб
купити книгу на сайті
або замовляйте за телефоном:
(0352) 51-97-97, (067) 350-18-70,
(066) 727-17-62**

$$\begin{array}{r} 1144 \\ \hline 26 \end{array}$$

$$\begin{array}{r} 340 \\ \times 5 \\ \hline \end{array}$$

$$\begin{array}{r} 333 \\ \times 23 \\ \hline \end{array}$$

$$\begin{array}{r} 64700 \\ - 5750 \\ \hline \end{array}$$

$$\begin{array}{r} 2688 \\ \hline 48 \end{array}$$

$$\begin{array}{r} 658 \\ \times 3 \\ \hline \end{array}$$

$$\begin{array}{r} 178 \\ \times 24 \\ \hline \end{array}$$

$$\begin{array}{r} 28020 \\ - 17912 \\ \hline \end{array}$$

$$\begin{array}{r} 750 \\ \times 4 \\ \hline \end{array}$$

$$\begin{array}{r} 28020 \\ + 17912 \\ \hline \end{array}$$


61

Час: хв ____ с ____ Кількість помилок ____

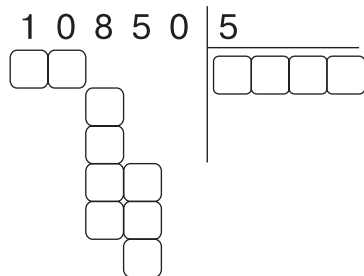
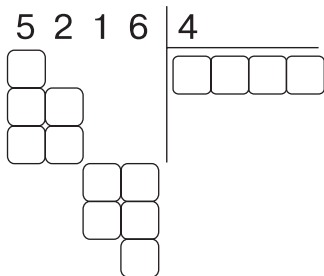
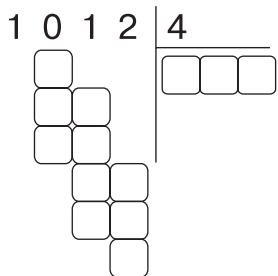
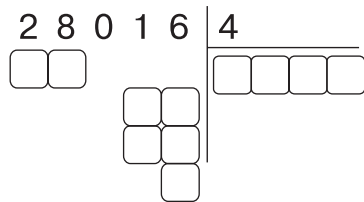
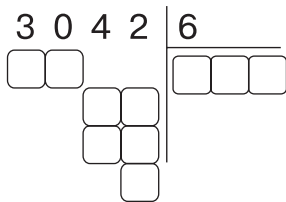
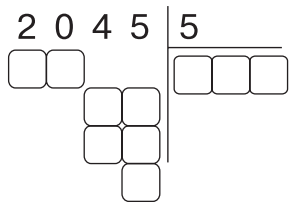


Перший екскаватор за день може викопати траншею завдовжки 10 м, а другий – 15 м. Перший працював 7 днів, а другий — 5 днів. Якої довжини траншею вони викопали разом?

Розв'язання



Відповідь. _____



73

Час: хв ____ с ____ Кількість помилок ____



Видавництво видало 12 книжок. Частина книжок містила 72 казки про пухнастиків, а решта — 36 казок про лісових мешканців. Скільки книжок було з казками про пухнастиків, а скільки — про лісових мешканців, якщо кожна книжка містила однакову кількість казок?

Розв'язання



Відповідь. _____

$$5200 \cdot 20 = \underline{\hspace{2cm}}$$

$$750 : 25 = \underline{\hspace{2cm}}$$

$$1224 : 12 + 304 = \underline{\hspace{2cm}}$$

$$5200 : 100 = \underline{\hspace{2cm}}$$

$$720 : 90 + 1200 = \underline{\hspace{2cm}}$$

$$7800 : 20 = \underline{\hspace{2cm}}$$

$$18600 : 30 - 600 = \underline{\hspace{2cm}}$$

$$10000 : 100 : 4 = \underline{\hspace{2cm}}$$

$$\begin{array}{r} 5030 \\ x 40 \\ \hline \end{array}$$

--	--	--	--	--	--

$$\begin{array}{r} 985413 \\ - 54872 \\ \hline \end{array}$$

--	--	--	--	--	--

$$\begin{array}{r} 62735 \\ x 6 \\ \hline \end{array}$$

--	--	--	--	--	--

$$\begin{array}{r} 31876 \\ + 84392 \\ \hline \end{array}$$

--	--	--	--	--	--

$$\begin{array}{r} 37124 \\ x 4 \\ \hline \end{array}$$

--	--	--	--	--	--

$$\begin{array}{r} 122496 \\ - 74356 \\ \hline \end{array}$$

--	--	--	--	--	--

101

Час: хв с Кількість помилок



Маса 4 пухнастиків — 172 кг. Яка маса 5 дітей, якщо дитина важить на 9 кг більше, ніж пухнастик?

Розв'язання

Відповідь. _____

