

**Натисніть тут, щоб
купити книгу на сайті
або замовляйте за телефоном:
(0352) 51-97-97, (067) 350-18-70,
(066) 727-17-62**



ТЕСТ №3

РИБЕНЬ 5

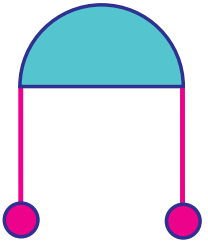


ЗАВДАННЯ №4

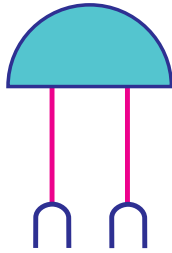
Об'єднай у пари фігури, які мають спільні ознаки.



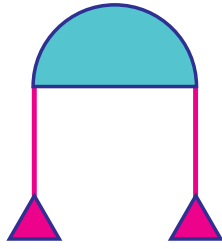
1



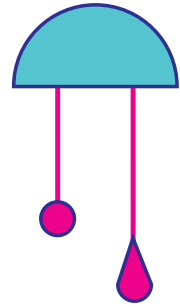
2



3



4



Р
І
В
Е
Н
Ь
5



ВІДПОВІДЬ:



ЗАВДАННЯ №5

Числа нижнього ряду стоять у тому ж порядку, що й числа верхнього ряду.
Яке число пропущене?

25

24

22

21

19

8

7

?

4

2

Р
І
В
Е
Н
Ь
5



ЗАВДАННЯ №6

Виконай математичні дії та прочитай слово.



ЗК + О + ШУ - КУ + О + ИАД - ОДА + Т



ВІДПОВІДЬ:



ЗАВДАННЯ №7

Визнач закономірність і знайди невідоме число.

РІВЕНЬ
5

