










№1

Які числа сховалися за малюнками?

1	2	3	4		6	7	8		10
11	12		14	15	16	17		19	20
	22		24	25			28	29	



--	--	--	--	--	--	--	--



--	--	--	--	--	--	--	--











--	--	--	--	--	--	--	--



--	--	--	--	--	--	--	--

Які числа сховалися за малюнками?

31	32		34	35	36	37		39	40
41	42	43	44			47	48		50
	52	53	54	55	56	57		59	



--	--	--	--	--	--	--	--



--	--	--	--	--	--	--	--



--	--	--	--	--	--	--	--



--	--	--	--	--	--	--	--

Встав пропущені числа.



39		41
79		81
89		91

29		31
58		60
75		77

60		40
70		50
90		70

32		52
65		55
79		99

Зафарбуй клітинки з відповідними числами.

У числі 1 десяток	13	31	21	17	15	47	12	51
У числі 4 десятки	40	34	45	14	64	28	49	43
У числі 2 одиниці	27	23	12	20	82	2	10	66
У числі 5 одиниць	53	55	26	84	5	95	52	30
У числі 7 десятків	47	77	26	71	97	17	79	7
У числі 8 одиниць	18	83	8	90	38	43	89	80

