

ПЕРЕДМОВА

Математика — це наука, яка розвиває уміння порівнювати, міркувати, систематизувати, класифікувати та робити висновки. Розвиток математичного мислення тісно пов'язаний з оволодінням математичними поняттями, а отже, з розвитком мовлення.

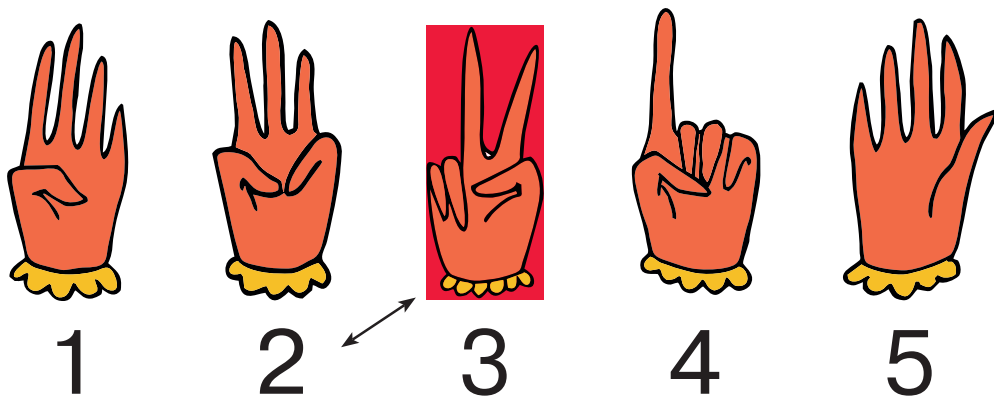
Завдання, пропоновані в посібнику, універсальні. Їх можна, та й потрібно виконувати, не тільки сидячи за столом, а й в ігровій кімнаті, на прогулянці, в парку, закріплюючи отримані знання. Крім того, ми показуємо дітям, що ці завдання — це не щось абстрактне, а важлива частина їхнього повсякденного життя.

Зверніть увагу на методичні вказівки до кожного заняття. У них містяться рекомендації до виконання завдань, запропонованих уперше, і тих, які можуть викликати труднощі. Також вони містять додаткові ускладнені запитання до деяких завдань.


Посібник може бути рекомендовано не тільки педагогам, а й батькам дошкільнят. Бажаємо успіху, колеги!

Заняття 1

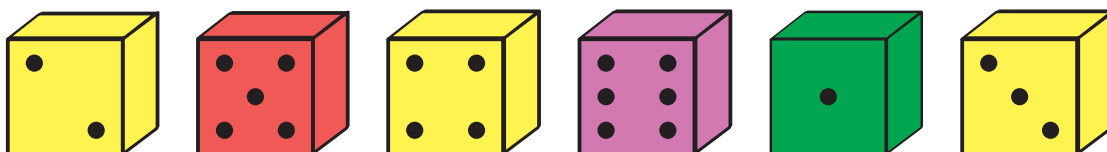
- 1 З'єднай однакові числа, записані цифрами і показані на пальцях, за зразком.



- 2 Значки на щитах розставлені в певному порядку. Обведи той значок, який повинен бути намальований на порожньому щиті воїна.



- 3 Підкресли всі жовті кубики, на яких більше трьох крапок.




- 4 Підкресли всі будиночки, крім будиночка із зеленим дахом. Полічи підкреслені будиночки.



- 5 Полічи квіти перед садівником. Полічи квіти за садівником. Де квітів більше?




- 6 Кожна сходинка, зображена на малюнку, різного кольору. Не рахуючи, вибери сходинку, в якій найменше кубиків.




Заняття 2

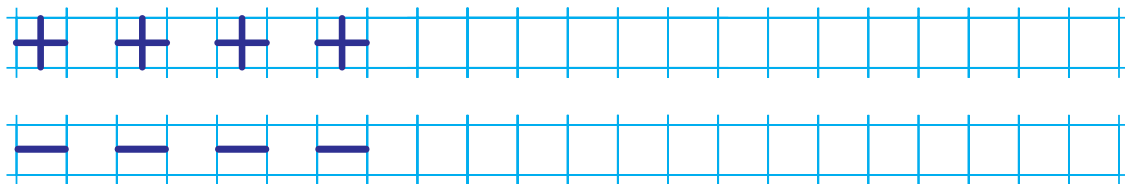
- 1 Принцеси по черзі вибирають для себе фрукти. Першою вибирає фрукти висока принцеса. Вона бере тільки груші. А низенька бере тільки яблука. Хто з них забере останній фрукт?



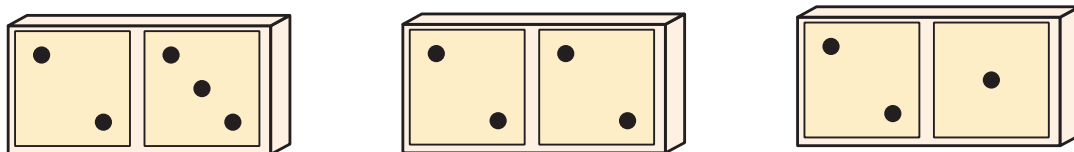
- 2 Підкресли ті пари рукавичок, в яких загнуто однакову кількість пальців.




3 Домалюй візерунок до кінця рядка.



4 Підкресли ті пластинки доміно, в яких зліва крапок більше, ніж справа.



5 Прочитай номери машинок зліва направо. Яка машинка їде перед машинкою з номером 3? позаду машинки з номером 2?



6 Значки на щитах розставлені в певному порядку. Обведи той значок, який повинен бути намальований на порожньому щиті воїна.

